

تم تحميل هذا الملف من موقع المناهج السعودية



الملف أوراق عمل جديدة

[موقع المناهج](#) ← [المناهج السعودية](#) ← [الصف الثالث](#) ← [رياضيات](#) ← [الفصل الثالث](#)

الملف أوراق عمل جديدة



[موقع المناهج](#) ← [المناهج السعودية](#) ← [الصف الثالث](#) ← [رياضيات](#) ← [الفصل الثالث](#)

المزيد من الملفات بحسب الصف الثالث والمادة رياضيات في الفصل الثالث

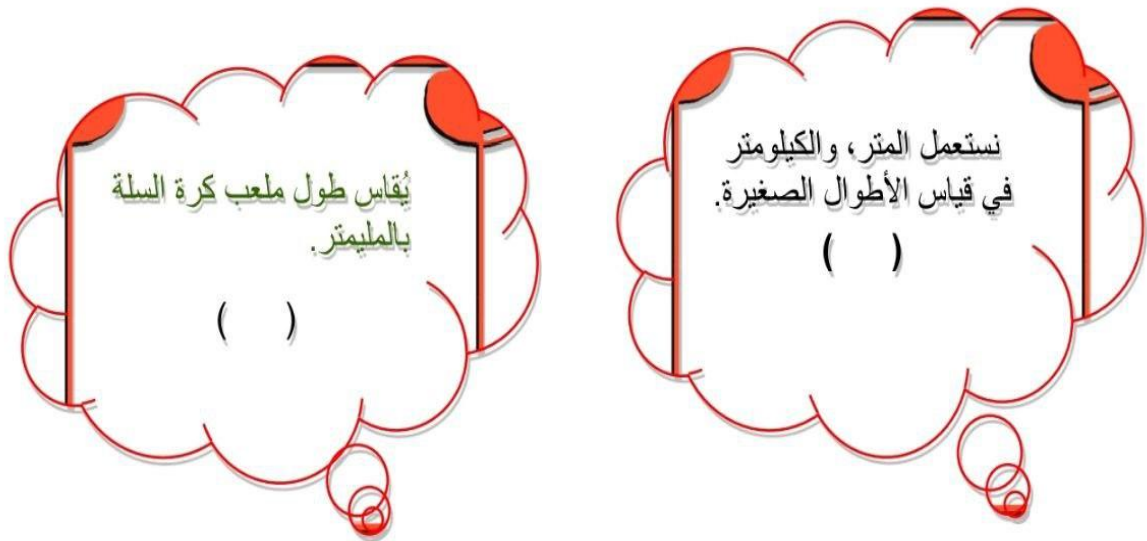
تحضير عين لدروس الفصل الثالث	1
أوراق عمل للفصل الدراسي الثالث	2
اختبار تكويني مع نموذج إجابة	3
ورقة عمل المساحة ووحدات السعة	4
اختبار قياس وحدة الأشكال الهندسية	5

اسم الطالب/ة:	اليوم /...../ التاريخ / / ١٤٤٣ هـ
المهارة: اختيار وحدات الطول المناسبة لتقدير أطوال الأشياء وقياسها	
أتقن ☺ لم يتقن ☹	

✳ اختاري الوحدة الأنسب لقياس طول كل من الأطوال التالية::

- طول نملة (مليمتر - سنتيمتر - متر - كيلو متر) 
- المسافة بين مدينتين (مليمتر - سنتيمتر - متر - كيلو متر) 
- ارتفاع سارية علم (مليمتر - سنتيمتر - متر - كيلو متر) 

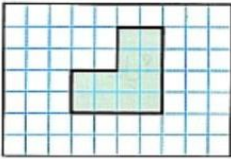
✳ صغيرتي ضعي إشارة (✓) تحت العبارة الصحيحة وإشارة (✗) تحت العبارة الخاطئة مما يلي::



اسم الطالب/ة :	اليوم /...../ التاريخ /	١٤٤٣ هـ /
المهارة : اختيار وحدات الطول المناسبة لتقدير أطوال الأشياء وقياسها		
أتقن ☺ لم يتقن ☹		


* احسبي محيط ما يلي:

١- بيت للطيور واجهته خماسية الشكل، وأضلاعه جميعها متساوية في الطول، أوجدي محيط واجهة هذا البيت؟



٢- أوجدي محيط هذا الشكل؟

٣- صغيرتي اكلمي الفراغات التالية؛



المحيط = + + + =

المحيط = + + + =



٤- هل العبارة التالية صحيحة أم خاطئة::



اسم الطالب/ة:	اليوم /...../ التاريخ /	١٤٤٣ هـ /
المهارة: اختيار وحدات الطول المناسبة لتقدير أطوال الأشياء وقياسها		
أتقن ☺ لم يتقن ☹		

✳️ اوجدى مساحة الاشكال التالية:



من الشكل المقابل احسبي مساحة المنطقة المظللة:
المساحة = وحدة مربعة.



✳️ ٢- اكلى الفراغات التالية صغيرتي::

يساعد محمود أباه في تبليط مدخل المنزل فإن عدد البلاطات المربعة التي يحتاجونها هي:


..... × = بلاطة مربعة.
٣ وحدات

٤ وحدات

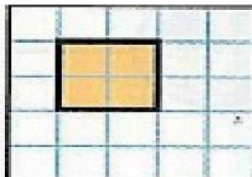
قاعة عرضها ٦ أمتار وطولها ١٠ أمتار
فإن مساحة القاعدة تكون:
..... = (..... ×)



✳️ ٣- اختارى الاجابة الصحيحة من بين الأقواس::



☺ مساحة الشكل المجاور هي::
١٥ وحدة مربعة - ١٠ وحدات مربعة - ٢٠ وحدة مربعة - ٤ وحدات مربعة)



☺ انا شكل هندسي جميل مساحتي هي ::
٨ وحدات مربعة - ٩ وحدات مربعة - ٤ وحدات مربعة - وحدتين مربعة)





وزارة التعليم
Ministry of Education

المملكة العربية السعودية
وزارة التعليم
ابتدائية أم البنين للطفولة البكرة

اسم الطالب/ة :	اليوم /	التاريخ / / ١٤٤٣ هـ
المهارة : ايجاد مساحة شكل هندسي		
أتقن 😊 لم يتقن ☹️		


١- ضع دائرة حول التقدير الأنسب في مايلي::

 المنافذ almanahj.com/sa	 مياه Water	 Water	
(٥٠ مل - ٢ مل - ٥٠ ل)	(٧٠ مل - ٧ ل - ٢٠ مل)	(٥٠ مل - ٥ ل - ٨ ل)	(٢ مل - ٥ ل - ٢ ل)

صغيرتي فكرى فى صحة العبارة التالية؟؟:

يحضر وليد عصير برتقال لحفلة أصدقائه. فإن التقدير الأفضل لكمية العصير التي سيحضرها وليد للحفلة هي ٩ مليتر..

(.....)





وزارة التعليم
Ministry of Education

المملكة العربية السعودية
وزارة التعليم
ابتدائية أم البنين للطفولة البكرة

اسم الطالب/ة:	اليوم/.....	التاريخ / / ١٤٤٣ هـ
المهارة: إيجاد مساحة شكل هندسي		
أتقن ☺ لم يتقن ☹		

❖ ١- صلي الوحدة الأنسب لقياس كتلة كل مما يأتي::

almanah.com.sa

منازل السعودية


كوب من الحليب

صندوق، فراولة

حقيبة مدرسة

← →

❖ ٢- اختاري التقدير الأنسب لكل مما يأتي:



(٢ جم - ١٠ كجم - ٢ كجم)



(٦ جم - ٢ كجم - ٦ كجم)

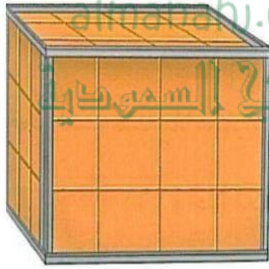


(١٥ جم - ٢٠ كجم - ١٥ كجم)



اسم الطالب/ة :	اليوم /	التاريخ / / ١٤٤٣ هـ
المهارة : تقدير الحجم وقياسه		
أتقن ☺ لم يتقن ☹		

❖ ١- اكمل مايلي::



يتسع حوض سمك إلى ثلاث طبقات في كل منها ١٢ وحدة مكعبة. فإن حوض السمك يحوي:

$$\dots + \dots + \dots = \dots \text{ وحدة مكعبة}$$

❖ ٢- ضع خطاً أسفل حجم كل مجسم فيما يأتي:

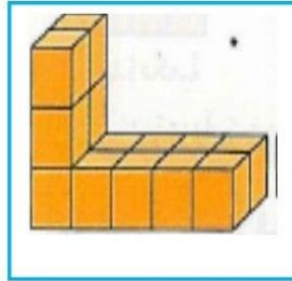


٨ وحدات مكعبة.

٦ وحدات مكعبة

٤ وحدات مكعبة

٥ وحدات مكعبة.




٨ وحدات مكعبة.

٦ وحدات مكعبة

٤ وحدات مكعبة

٦ وحدات مكعبة.



٨ وحدات مكعبة.

٦ وحدات مكعبة

٤ وحدات مكعبة

١٢ وحدة مكعبة.



وزارة التعليم

Ministry of Education

المملكة العربية السعودية
وزارة التعليم
ابتدائية أم البنين للطفولة البكرة

اسم الطالب/ة :	اليوم /	التاريخ / / ١٤٤٣ هـ
المهارة : قراءة الساعة		
أتقن ☺ لم يتقن ☹		

❁ ١- اكتبى الزمن الذي تشير إليه الساعة الرقمية أو ساعة العقارب:

almanahj.com/sa



الثامنة و.....
دقيقة.



..... و.....
دقيقة.



العاشرة و.....
دقائق.



❁ ٢- ضعى علامة (✓) أمام الإجابة الصحيحة:

إذا كان عقرب الدقائق يشير إلى الرقم ٤ فإن عدد الدقائق التي يشير إليها:

عشرون دقيقة.

عشرة دقائق.

إذا كانت ساعة الحائط تشير إلى ٨:٤٥ فإن الوقت بعد مرور ٧ دقائق يصبح:

٨:٣٨

٨:٥٢





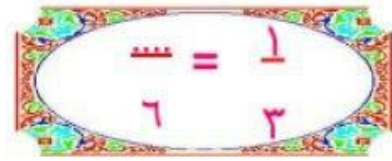
وزارة التعليم
Ministry of Education

المملكة العربية السعودية
وزارة التعليم
ابتدائية أم البنين للطفولة البكرة


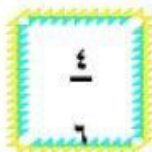
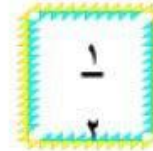
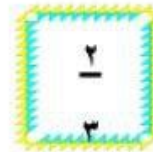
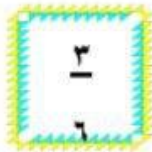
اسم الطالب/ة :	اليوم /	التاريخ / / ١٤٤٣ هـ
المهارة : ايجاد الكسور المتكافئة		
أتقن 😊 لم يتقن ☹️		

❁ ١- أكملى الجمل التالية للحصول على كسور متكافئة:

almanahj.com/sa



❁ ٢- صلي كل كسر بما يكافئه:





وزارة التعليم
Ministry of Education

المملكة العربية السعودية
وزارة التعليم
ابتدائية أم البنين للطفولة البكرة

اسم الطالب/ة :	اليوم /	التاريخ / / ١٤٤٣ هـ
المهارة : حل مسائل رياضية		
أتقن 😊 لم يتقن ☹️		

حل المسألة التالية باستعمال الخطوات الاربع لحل المسائل الرياضية :

almanahj.com/sa

سَقَّت لَيْلَى بَاقَةَ أَزْهَارِ اشْتَمَلَتْ عَلَى ٨ زَهْرَاتِ يَاسْمِينٍ، وَ ١٢ زَهْرَةَ نَرْجِسٍ، وَ ١٥ زَهْرَةَ قَلِّ، وَالْبَاقِي مِنْ أَزْهَارِ جُورِيٍّ. فَإِذَا كَانَتْ بِأَقْتَهَا تَضُمُّ ٤٨ زَهْرَةَ، فَكَمْ زَهْرَةَ جُورِيٍّ اشْتَمَلَتْ عَلَيْهَا الْبَاقَةُ؟

.....	أفهم
.....	أخط
.....	أحل
.....	أتحقق

حدد ما إذا كانت العبارة التالية صحيحة أم خاطئة:

/حمولة سيارة ٣٠٠٠ كيلوجرام. فإذا أراد سائقها أن يحملها صناديق بضاعة، وزن الصندوق الواحد منها ١٥٠ كيلوجراماً. فإن عدد الصناديق التي يمكن أن تحملها السيارة هي ٢٠ صندوقاً...
(.....)

/ثريد سعاد أن تزرع حديقة أزهاراً، وكان لديها ٣ ألوان: أحمر، وأصفر، وبُرْتَقَالِي. فإن عدد الطرق التي يمكنها تيب الألوان في الحديقة هي ١٦ طريقة...
(.....)

أكمل الفراغات التالية بما يناسبها لتصبح عبارة صحيحة:

/تقف ٥ قطط على سور بيت، بحيث كانت القطط السوداء هي الثانية، والقطط البنية تقف إلى جانب القطط الرمادية، القطط المخططة هي الأخيرة. إذا كانت القطط الرمادية هي الرابعة، فإن القطط البيضاء تقف.....

/قسم معلم التربية البدنية طلاب صفه ٤ مجموعات؛ اثنتان منها تضم كل واحدة منهما ٥ طلاب، واثنتان تضم كل واحدة منهما ٧ طلاب، فإن عدد طلاب الصف يبلغ.....طالب.

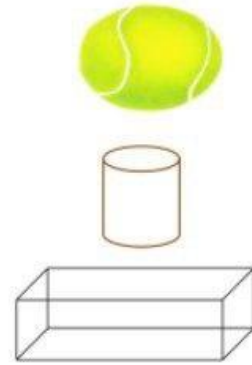


وزارة التعليم
Ministry of Education

المملكة العربية السعودية
وزارة التعليم
ابتدائية أم البنين للطفولة البكرة

اسم الطالب/ة :	اليوم /.....	التاريخ / / ١٤٤٣ هـ
المهارة : تحديد وتصنيف و وصف بعض المجسمات		
أتقن ☺ لم يتقن ☹		

١) صلي كل مجسم باسمه..



٢) من أنا...؟





وزارة التعليم
Ministry of Education

المملكة العربية السعودية
وزارة التعليم
ابتدائية أم البنين للطفولة البكرة

اسم الطالب/ة :	اليوم /	التاريخ / / ١٤٤٣ هـ
المهارة : تسمية الأشكال المستوية وتصنيفها		
أتقن 😊 لم يتقن ☹️		





١/ صفى الأشكال المستوية التالية مستخدمة عدد الأضلاع وعدد الزوايا:

almanah.com/sa
المنهج السعودية



..... أضلاع، زوايا. أضلاع، زوايا. ... أضلاع، زوايا.

٢/ صلي كل شكل باسمه فى مايلى::



رباعي سداسي خماسي مثلث



وزارة التعليم
Ministry of Education

المملكة العربية السعودية
وزارة التعليم
ابتدائية أم البنين للطفولة البكرة

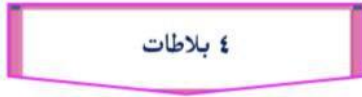
اسم الطالب/ة:	اليوم/.....	التاريخ / / ١٤٤٣ هـ
المهارة: تحديد الانماط الهندسة واستخدامها لتوقع حل المسألة		
أتقن 😊 لم يتقن ☹️		

❖ ١/ ضع خطاً أسفل النمط الهندسي للشكل التالي:

almanahj.com/sa



❖ ٢/ إذا أكمل النمط السابق حتى أصبح ١٦ بلاطة فإن عدد البلاطات البيضاء؟



❖ ٢/ أحيطي النمط في كل مما يأتي؟؟





وزارة التعليم
Ministry of Education

المملكة العربية السعودية
وزارة التعليم
ابتدائية أم البنين للطفولة البكرة

اسم الطالب/ة :	اليوم /	التاريخ / / ١٤٤٣ هـ
المهارة : تحديد محاور التماثل		
أتقن 😊 لم يتقن ☹️		

almanahj.com/sa

المناهج السعودية

١* ضع علامة ✓ امام الشكل الذي له محور تماثل في مايلي!!






اسم الطالب/ة :	اليوم /.....	التاريخ / / ١٤٤٣ هـ
المهارة : جمع البيانات وتنظيمها وتمثيلها بالرموز ولوحة الاعمدة		
أتقن 😊 لم يتقن ☹️		

almanahj.com/sa

المنهج السعودية

١/ مُستعملاً التَّمثِيلِ بِالصُّورِ الْمُجَاوِرِ، أُجِيبُ عَنِ الْأَسْئَلَةِ الْآتِيَةِ: (مهارة سابقة)

الفصل المفضل	
	الشتاء
	الربيع
	الخريف
	الصيف
كل شكل يرمز إلى طالبين	


١. عدد الطلاب الذين يفضلون فصل الربيع؟.....

٢. بكم يزيد عدد الطلاب الذين يفضلون فصل الشتاء عن الصيف؟.....

٣. ما الفصل الذي يفضله ٤ طلاب؟.....

٤. ما عدد الطلاب جمعهم؟.....

ضعي الإجابة الصحيحة مكان النقاط:

٥/ إذا كان  يمثل ٣ أشخاص يفضلون كرة القدم ، فكم عدد الأشخاص الذين يفضلون كرة القدم إذا ظهر هذا مرتين؟

.....أشخاص

اسم الطالب/ة :	اليوم /...../ التاريخ / / ١٤٤٣ هـ
المهارة : جمع البيانات وتنظيمها وتمثيلها بالرموز ولوحة الاعمدة	
أتقن 😊 لم يتقن ☹️	

١ * (مثلى بيانات الجدول المجاور بالرموز:

أسماك في حوض سمك.	
السمة الذهبية	
السمة النمر	
السمة المهرج	
المفتاح: 🐟 = سمكتين	

أسماك في حوض سمك.	
عدد السمكات	نوع السمك
	السمة الذهبية
	السمة النمر
	السمة المهرج

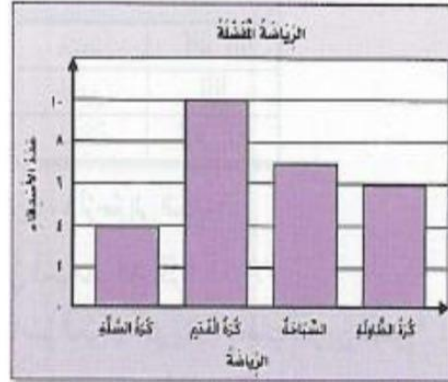
٢ * / اجيبي عن ما يلي::

Ⓢ اكملي حل ما يلي:

صوت عدد من الأصدقاء على الرياضة التي يفضلونها.

✓ ما عدد الأصدقاء الذين يفضلون السباحة؟
.....

✓ ما عدد الأصدقاء الذين يفضلون كرة القدم؟
.....





وزارة التعليم
Ministry of Education

المملكة العربية السعودية
وزارة التعليم
ابتدائية أم البنين للطفولة البكرة

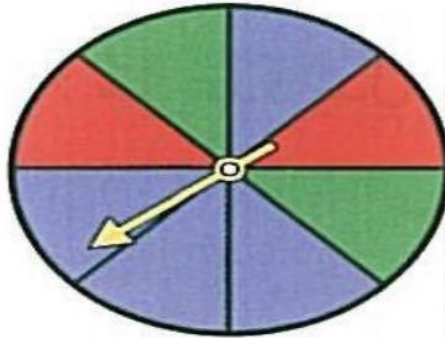
اسم الطالب/ة :	اليوم /...../ التاريخ / / ١٤٤٣ هـ
المهارة : تحديد الحوادث (الأكيدة - الأكثر احتمالاً - الأقل احتمالاً - المستحيلة)	
أتقن 😊 لم يتقن ☹️	

✳️ أجيبني عن ما يلي ::

almanahj.com/sa

المناهج السعودية

١) يوجد ٧ كرات في صندوق فإذا كان ٥ منهم لونها أزرق وواحدة منهم لونها أحمر والأخرى لونها أصفر فإن احتمال اختيار الكرة الزرقاء هو: (.....)



صفي احتمال وقوف المؤشر على كل لون واكتبني

(أكيد، أو أكثر احتمالاً، أو أقل احتمالاً، أو مستحيل):

- | | |
|---------|-------------------------|
| (.....) | ١) أزرق |
| (.....) | ٢) أخضر |
| (.....) | ٣) بنفسجي |
| (.....) | ٤) أزرق أو أحمر أو أخضر |





وزارة التعليم

Ministry of Education

المملكة العربية السعودية
وزارة التعليم
ابتدائية أم البنين للطفولة البكرة

اسم الطالب/ة : اليوم / التاريخ / / هـ

المهارة : كتابة الكسور (أجزاء من الكل ، كأجزاء من المجموعة)

أتقن 😊 لم يتقن ☹️

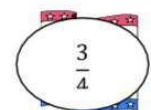
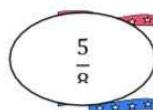
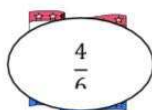
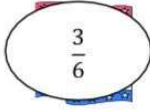
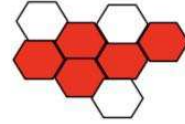


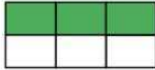
✳️ مع ليلي ثلاث قطع زرقاء وأربع قطع حمراء وثلاث قطع صفراء، اكتبى الكسر الذى يمثل القطع الحمراء؟؟

.....

almanahj.com/sa

المنهج السعودية

✳️ (٢) صلى كل شكل بالكسر الصحيح الذى يُعبر عن الجزء المظلل



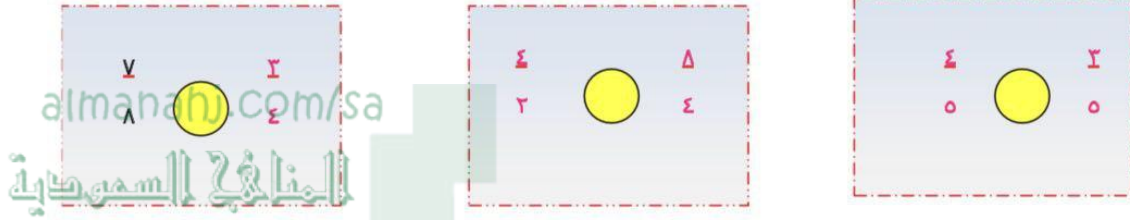


وزارة التعليم
Ministry of Education

المملكة العربية السعودية
وزارة التعليم
ابتدائية أم البنين للطفولة البكرة

اسم الطالب/ة :	اليوم /	التاريخ / / ١٤٤٣ هـ
المهارة : مقارنة الكسور وترتيبها		
أتقن 😊 لم يتقن ☹️		

* ١/ قارني مستعمله (<، >، =):



* ٢/ أكمل ترتيب الكسور التالية ترتيبًا تصاعديًا

