

شكراً لتحميلك هذا الملف من موقع المناهج السعودية



اختبار نهائي 1444هـ سكرة الشمري

[موقع المناهج](#) ⇨ [المناهج السعودية](#) ⇨ [الصف الثالث](#) ⇨ [علوم](#) ⇨ [الفصل الأول](#) ⇨ [الملف](#)

تاريخ نشر الملف على موقع المناهج: 2023-10-17 14:39:49

التواصل الاجتماعي بحسب الصف الثالث



المزيد من الملفات بحسب الصف الثالث والمادة علوم في الفصل الأول

| | |
|--|---|
| اختبار الفترة محلول | 1 |
| اختبار منتصف الفصل سكره الشمري | 2 |
| اختبار الفترة | 3 |
| ملخص مهارات المنهج بصيغة الورد | 4 |
| أوراق عمل شاملة لدروس المقرر | 5 |

| | | |
|---|---|--|
| المجموع الكلي |  | المملكة العربية السعودية وزارة التعليم الإدارة العامة للتعليم بمنطقة |
| | | مدرسة / |
| ٤٠ | | |
| اختبار مادة العلوم (الدور الأول) الفصل الدراسي الثالث للعام الدراسي - ١٤٤٤ هـ | | |

| المادة | العلوم | | الصف | الثالث |
|-------------|---------|--|-------------|-----------|
| اليوم | التاريخ | | زمن الاجابة | ساعة ونصف |
| اسم الطالبة | | | | |
| رقم الجلوس | () | | | |

| رقم السؤال | الدرجة المستحقة | | اسم المصحح / ة | اسم المراجع / ة | اسم المدقق / ة |
|---------------|-----------------|--------------|----------------|-----------------|----------------|
| | الدرجة رقماً | الدرجة كتابة | | | |
| السؤال الأول | | | | | |
| السؤال الثاني | | | | | |
| السؤال الثالث | | | | | |
| السؤال الرابع | | | | | |
| المجموع | | | | | |



لسؤال الأول :-

١٥

(نختار الاجابة الصحيحة فيما يلي :-

| | |
|---|--|
| ١- أي شيء له كتلة وحجم . | ٢- عضو السمع في الانسان . |
| أ- المادة | أ- العين |
| ب - التغير الفيزيائي | ب - الأذن |
| ج - الخاصية | ج - القلب |
| ٣- ينتج عن اهتزاز الأجسام . | ٤- نستخدم لفصل الحديد عن المواد الاخرى . |
| أ- الصوت | أ- غربال |
| ب - القوى | ب - مغناطيس |
| ج - المادة | ج - تبخير |
| ٥- خليط مكون من مادتين مختلفتين أو أكثر . | ٦- عجلة يلف حولها سلك قوي . |
| أ- مخلوط | أ- الرافعة |
| ب - محلول | ب - سطح مائل |
| ج - ماء | ج - البكرة |
| ٧- ينتشر الضوء في خطوط . | ٨- مادة لها شكل ثابت وحجم ثابت . |
| أ- مستقيمة | أ- صلبة |
| ب - متعرجة | ب - سائلة |
| ج - منكسرة | ج - غازية |
| ٩- إذا سقط الضوء على مرآه فإنه . | ١٠- وحدة بناء المادة . |
| أ- ينعكس | أ- العنصر |
| ب - ينكسر | ب - الخاصية |
| ج - ينحرف | ج - المحلول |
| ١١- أي المواد التالية ينتقل فيها الصوت ببطء . | ١٢- يحول الطاقة الكهربائية الى صوتية |
| أ- الماء | أ- الجرس |
| ب - الصخر | ب - الثلجة |
| ج - الهواء | ج - المروحة |

(ب) نحدد حسب الصور وحدات القياس المعيارية التالية (اللتر _ الكيلو جرام _ المتر)



يتبع

سؤال الثاني :-

١٠

(ما المصطلح العلمي المناسب للعبارات التالية :-

(الكتلة - الشغل - الآلة البسيطة - الضوء - الدائرة الكهربائية)

- ١- (.....) مقدار ما يحتويه الجسم من مادة .
- ٢- (.....) أداة تستخدم لانجاز الاعمال بسهولة .
- ٢- (.....) شكل من أشكال الطاقة نحس به بالعين .
- ٤- (.....) القوة المبذولة لتحريك جسم ما مسافة معينة .
- ٥- (.....) مسار يسمح بمرور التيار الكهربائي من خلاله .

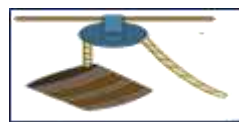
(ب) نصنف التغيرات التالية الى (تغير كيميائي . تغير فيزيائي) بوضع أشاره (✓)

| التغير | تغير كيميائي | تغير فيزيائي |
|--------------|--------------|--------------|
| احتراق الخشب | | |
| تسوس الاسنان | | |
| طبخ الطعام | | |
| تقطيع الورق | | |
| تجمد الماء | | |

سؤال الثالث :-

١٠

(نكتب تحت كل صورة اسم الآلة البسيطة (الرافعة * البرغي * عجلة ومحور * البكرة)



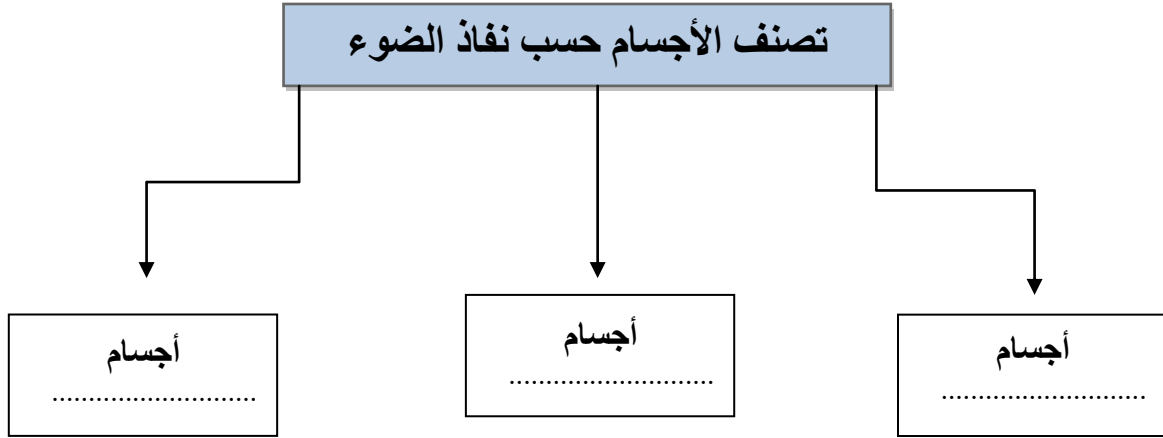
نضع علامة (✓) أمام العبارات الصحيحة وعلامة (x) أمام العبارات الخاطئة :

| | |
|-------|--|
| | ١- من طرق فصل المخلوط الغريبال |
| | ٢- البرق من الأمثلة على الكهرباء الساكنة |
| | ٣- يعد ورق الالمنيوم مثال على جسم غير شفاف |
| | ٤- انكسار الضوء هو انحرافه عن مساره |
| | ٥- من دلائل حدوث التغير الكيميائي تكون الغاز |
| | ٦- تذوب حبيبات السكر في الماء بسرعة اذا تم تبريد المحلول |

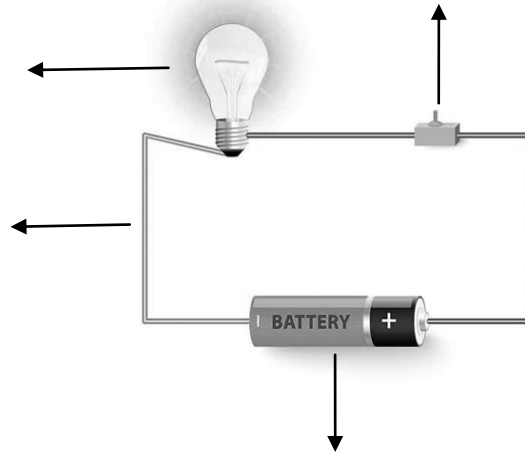
لسؤال الرابع :-

ج) نكمل الخريطة التالية :-

٥



ب) نضع البيانات التالية في مكانها الصحيح (مصباح * أسلاك * بطارية * مفتاح كهربائي)



.....

انتهت الأسئلة ** بالتوفيق



سكره الشمري