

تم تحميل هذا الملف من موقع المناهج السعودية



الملف أوراق عمل شاملة

[موقع المناهج](#) ← [المناهج السعودية](#) ← [الصف الثالث](#) ← [رياضيات](#) ← [الفصل الثاني](#)

الملف أوراق عمل شاملة

[موقع المناهج](#) ← [المناهج السعودية](#) ← [الصف الثالث](#) ← [رياضيات](#) ← [الفصل الثاني](#)

المزيد من الملفات بحسب الصف الثالث والمادة رياضيات في الفصل الثاني

تحميل كتاب الطالب ف2	1
دليل التقويم	2
ورقة عمل علاقة القسمة بالطرح	3
دفتر تحضير رياضيات	4
أوراق عمل رياضيات	5



مع سلسلة رفة

أوراق عمل رياضيات

الصف الثالث الابتدائي الفصل الدراسي الأول

إعداد/ أ. لولو عبدالله الفهد

مراجعة/ أ. أحمد الأحمدي

نسخة إلكترونية مجانية لاتباع

أ.لولو عبدالله الفهد

نفيدكم علماً بأنه تم تسجيل عملكم المرسوم بـ:

مع سلسلة رفعة أوراق عمل الصف الثالث الابتدائي

الفصل الدراسي الأول

رقم إيداع 1443/492 وتاريخ 1443/01/15 هـ

ورقم ردمك 978-603-03-8905-6

## المقدمة

الحمد لله والصلاة والسلام على سيدنا محمد وعلى آله وصحبه أجمعين

### نبذة تعريفية بمجموعة رفعة

هي مجموعة تدار من قبل معلمي ومعلمات الرياضيات من جميع أنحاء المملكة وهي قائمة على التطوير المهني للمعلمين والمعلمات وابتكار الأفكار الإبداعية للتعليم العام. وبهدف التيسير والتسهيل لمادة الرياضيات نقدم لكم " سلسلة رفعة لأوراق العمل لمادة الرياضيات للصف الثالث الابتدائي" تحتوي على مجموعة كبيرة من التمارين التي تناقش أهم المهارات الأساسية لمنهج رياضيات الصف الثالث الابتدائي



[https://t.me/RAFAH\\_JUNIOR](https://t.me/RAFAH_JUNIOR)

الصف الثالث الابتدائي



<https://linktr.ee/maths120>



إعداد/ أ. لولو عبد الله الفهد

مراجعته/ أ. أحمد الأحمد

## الفصل الأول القيمة المنزلية

الأنماط العددية	١
مهارة حل المسألة: استعمال الخطوات الأربع	٢
القيمة المنزلية ضمن الألوف	٣
القيمة المنزلية ضمن عشرات الألوف	٤
مقارنة الأعداد	٥
ترتيب الأعداد	٦
التقريب إلى أقرب عشرة و إلى أقرب مئة	٧
التقريب إلى أقرب ألف	٨

اعداد/ د. لولو عبد الله الفهد

## ورقة عمل

المادة / رياضيات

التاريخ / / / ١٤٤٣ هـ



الاسم /

الصف / الثالث



اسم المهارة/ أحدد النمط ، ثم أجد العدد التالي له.

almanahj.com/sa

١) أحدد النمط ، ثم أكتب المناسب في ...

النمط هو .....

٥ ، ٨ ، ١١ ، ١٤ ، ... ، ٢٠ ، ٢٣

النمط هو .....

٢٢ ، ... ، ٣٢ ، ... ، ٤٢ ، ٤٧ (ب)

النمط هو .....

١٤ ، ١٦ ، ... ، ٢٠ ، ٢٢ ، ... (ج)

النمط هو .....

١٠٤ ، ١٠٠ ، ٩٦ ، ... ، ... (د)

٢) رسم محمد ٧ وردات في اليوم الأول، و ١٤ وردة في اليوم الثاني، ثم ٢١

وردة في اليوم الثالث. إذا استمر بهذا النمط ، فكم وردة سيرسم

في اليوم الرابع؟



.....

## ورقة عمل

المادة / رياضيات

التاريخ / / / ١٤٤٣ هـ



الاسم /

الصف / الثالث



اسم المهارة/ أستعمل الخطوات الأربع لأحل المسألة.



١) قامت أسرة أسماء بزيارة لإحدى المتاحف، فوجدوا أن ارتفاع لوحة صغيرة ٢ م، وارتفاع لوحة كبيرة ٤ م، فكم متراً يزيد ارتفاع اللوحة الكبيرة على ارتفاع اللوحة الصغيرة؟



.....

.....

.....

٢) قرأت هند قصة تزيد ٢٠ صفحة على صفحات كتاب منى. إذا حوت قصة منى ١٨ صفحة، فما عدد صفحات قصة هند؟



.....

.....

.....

## ورقة عمل

المادة / رياضيات

التاريخ / / / ١٤٤٣ هـ



الاسم /

الصف / الثالث



اسم المهارة/ أقرأ الأعداد ضمن الألوف. وأكتبها، و أعدد القيم المنزلية للأرقام فيها.

almanahj.com/sa  
المنهج السعودية

١) أقرأ الأعداد التالية، ثم أعدد اسم منزلة الرقم الذي تحته خط، وأكتب قيمته المنزلية:

العدد	اسم المنزلة	القيمة المنزلية
$\underline{2658}$		
$\underline{9312}$		

٢) أكتب العدد التالي بالصيغة القياسية:

$$7000 + 100 + 80 + 9$$

أكتب العدد التالي ٦٢٤٠ بالصيغتين التحليلية واللفظية:

.....  
الصيغة التحليلية:

.....  
الصيغة اللفظية:



## ورقة عمل


المادة / رياضيات

التاريخ / / / ١٤٤٣ هـ



الاسم /

الصف / الثالث



**اسم المهارة/** أقرأ الأعداد ضمن عشرات الألوف. وأكتبها،  
وأحدد القيم المنزلية للأرقام فيها.

almanahj.com/sa  
المنهج السعودية

(١) أقرأ الأعداد التالية، ثم أحدد اسم منزلة الرقم الذي تحته خط، وأكتب قيمته المنزلية:

العدد	اسم المنزلة	القيمة المنزلية
٢٥٩٣١		
٩٧٨٥٤		

(٢) أكتب العدد التالي بالصيغة القياسية:

خمسة عشر ألفاً وثلاثة

.....

(٣) أكتب العدد ٦٨٧٣١ بالصيغتين التحليلية واللفظية:

الصيغة التحليلية:

.....

الصيغة اللفظية:

.....



اسم المهارة / أقرن بين عددين ضمن عشرات الألوف.

أقرن بوضع الإشارة المناسبة ( = ، > ، < ) :

almanahj.com/sa  
المنهج السعودية

١٣٤٦٥ ○ ١٣٤٥٦ (١)

٤٥٢٣٩ ○ ٥٤٢٣٩ (٢)

٦٣ ○ ٣٦ (٣)

٧٠ ○ ٧٨ (٤)

٢٩٠ ○ ٣٤٦ (٥)

٤٣٠ ○ ٤٣٠ (٦)

١٨٩٦ ○ ١٨٩٦ (٧)

عدد طالبات الصف الثالث الابتدائي ٦٥٤، وعدد طالبات الصف الرابع ٦٤٥، أيهما أكثر عدداً؟ أوضح إجابتني



.....  
.....

ورقة عمل

المادة / رياضيات



الاسم /

التاريخ / / ١٤٤٣هـ

الصف / الثالث



اسم المهارة / أستعمل خط الأعداد والقيمة المنزلية لأرتب الأعداد ضمن عشرات الألوف..

أرتب الأعداد الآتية من الأصغر إلى الأكبر:

almanahj.com/sa  
المنهج السعودية

(١) ٧٩ ، ٤٢ ، ٢٨

.....

(٢) ٦٨٢ ، ١٩٠ ، ٥٤٣

.....

(٣) ٤٤٠ ، ٤٤٠٤ ، ٤٠٤

.....

(٤) ٣٢٨٨٨ ، ٢٨٠٨ ، ٢٨٠٠٨

.....

أرتب الأعداد الآتية من الأكبر إلى الأصغر:

(١) ٧٠٠٧ ، ٧٠٠ ، ٧٠

.....

(٢) ٣٥٤٦ ، ٩٨٦ ، ٤٦٩٨

.....

(٣) ٣٠٠٠ ، ٢٤٥٣ ، ٨٨٨

.....

ورقة عمل

المادة / رياضيات

التاريخ / / ١٤٤٣ هـ



الاسم /

الصف / الثالث



اسم المهارة/ أقرب الأعداد إلى أقرب عشرة، وإلى أقرب مئة،  
و إلى أقرب ألف..

almanahj.com/sa  
المنهج السعودية

أقرب كلاً من الأعداد الآتية إلى أقرب عشرة:

٥٧٤ (٣)

٧٣ (٢)

٦٩ (١)

أقرب كلاً من الأعداد الآتية إلى أقرب مئة:

٢٥٦٠ (٣)

٥٨٤ (٢)

٣٣٨ (٢)

أقرب كلاً من الأعداد الآتية إلى أقرب ألف:

٧٦٠٠ (٣)

٤٥٧٧ (٢)

٢٨١١ (٣)

## الفصل الثاني

### الجمع

خصائص الجمع	١
تقدير نواتج الجمع	٢
مهارة حل المسألة: الجواب الدقيق أم التقديري	٣
جمع الأعداد المكونة من رقمين	٤
مهارة حل المسألة: استعمال الخطوات الأربع	٥
جمع الأعداد المكونة من ثلاثة أرقام	٦

اعداد/ د. لولو عبد الله الفهد



اسم المهارة/ أستعمل خصائص الجمع لأجمع.



أجد الناتج، وأحدد الخاصية:

almanahj.com/sa

الخاصية هي

.....

$$\square = ٤ + ٧ \quad (١)$$

$$\square = ٧ + ٤$$

الخاصية هي

.....

$$\square = ٢ + (٩ + ٣) \quad (٢)$$

$$\square = (٢ + ٩) + ٣$$

الخاصية هي

.....

$$\square = ١٥ + ٠ \quad (٣)$$



اسم المهارة/ أقدر نواتج الجمع باستعمال التقريب أو الأعداد المتناغمة.

(١) أقدر ناتج الجمع باستعمال التقريب:

almanahj.com/sa

التقدير بالتقريب

.....

$$\begin{array}{r} 32 \\ 67 \\ \hline \end{array} \quad \begin{array}{l} (أ) \\ + \end{array}$$

التقدير بالتقريب

.....

$$\begin{array}{r} 37 \\ 69 \\ \hline \end{array} \quad \begin{array}{l} (ب) \\ + \end{array}$$

(٢) أقدر ناتج الجمع باستعمال الأعداد المتناغمة:

التقدير بالأعداد المتناغمة

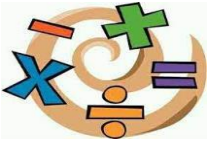
.....

$$= 67 + 42 \quad (أ)$$

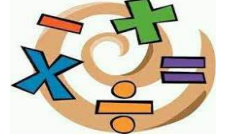
التقدير بالأعداد المتناغمة

.....

$$= 93 + 81 \quad (ب)$$



### مهارة حل المسألة



اسم المهارة / أعدد هل الجواب الدقيق هو المطلوب في المسألة أم الجواب التقديري؟

almanahi.com/sa  
المنهج السعودي

١) مشى أحمد ٢٢ خطوة إلى الأمام ثم ١٢ خطوة نحو اليمين، فكم خطوة مشى أحمد؟



.....

.....

.....

.....



٢) زرع طلاب المدرسة في الأسبوع الأول ٧٣ شجرة، وفي الأسبوع الثاني ٣٩ شجرة. فكم شجرة تقريباً زرع طلاب المدرسة في الأسبوعين؟

.....

.....

.....



## ورقة عمل

المادة / رياضيات

التاريخ / / / ١٤٤٣ هـ



الاسم /

الصف / الثالث



اسم المهارة/ أعيد تجميع الأحاد، لأجمع عددين كل منهما مكون من رقمين.

almanahj.com/sa

المنهج السعودية

أجد ناتج الجمع. وأتأكد من معقولية الجواب:

التأكد من معقولية الجواب

$$\begin{array}{r} ٣٣ \\ + \\ ٥ \\ \hline \end{array}$$

التأكد من معقولية الجواب

$$\begin{array}{r} ٨٦ \\ + \\ ١٣ \\ \hline \end{array}$$

التأكد من معقولية الجواب

$$= ٨ + ١١ \quad (ج)$$

التأكد من معقولية الجواب

$$= ١٤ + ٦٥ \quad (د)$$

ورقة عمل

المادة / رياضيات

التاريخ / / / ١٤٤٣ هـ



الاسم /

الصف / الثالث



اسم المهارة/ أستعمل الخطوات الأربع لأحل المسألة.



almanahi.com/sa

١) لدينا ٤ صناديق، إذا كان كل صندوق يحوي ٨ كتب، كم صندوقاً إضافياً نحتاج ليكون عدد الكتب ٤٨؟



.....

.....

.....

.....

٢) يقف ثلاثة في صف، فإذا كان محمد خلف فيصل مباشرةً، وبدر هو الثالث، فما ترتيب كل واحد منهم في الصف؟



.....

.....

.....



اسم المهارة / أجمع أعداداً مكونة من ثلاثة أرقام، وأستعمل التقدير للتأكد من معقولية الجواب..

almanahj.com/sa

المنهج السعودية

(١) أجد ناتج الجمع، وأتأكد من معقولية الجواب:

التأكد من معقولية الجواب

$$\begin{array}{r} ٤٦٦ \\ + \\ ٢٦٧ \\ \hline \end{array} \quad (أ)$$

التأكد من معقولية الجواب

$$= ٢٦٣ + ٧٠٨ \quad (ب)$$



(٢) عُرضت دراجتان للبيع بسعر ١٨٨ ريالاً و ٣٥٧ ريالاً، فكم ريالاً ثمن الدراجتين معاً؟



.....

.....

## الفصل الثالث

### الطرح

طرح الأعداد المكونة من رقمين	١
تقدير نواتج الطرح	٢
مهارة حل المسألة: معقولية الجواب	٣
طرح الأعداد المكونة من ٣ أرقام، مع إعادة التجميع	٤
الطرح مع وجود الأصفار	٥
تحديد العملية المناسبة	٦

إعداد/ أ. لولو عبد الله الفهد

## ورقة عمل

المادة / رياضيات

التاريخ / / / ١٤٤٣ هـ



الاسم /

الصف / الثالث



اسم المهارة/ أطرح أعداداً مكونة من رقمين.



(١) أجد ناتج الطرح:

almanahj.com/sa  
المنهج السعودية

$$\begin{array}{r} 56 \\ - 39 \\ \hline \end{array}$$

$$\begin{array}{r} 85 \\ - 14 \\ \hline \end{array}$$

$$\begin{array}{r} 29 \\ - 17 \\ \hline \end{array}$$

$$= 59 - 87 \quad (ج)$$

$$= 15 - 40 \quad (د)$$

$$= 59 - 80 \quad (هـ)$$

(٢) في الكيس ٢٧ كرة ملونة، منها ٩ كرات حمراء، فما عدد الكرات الملونة الأخرى؟



.....

.....



اسم المهارة/ أقدر ناتج الطرح مستعملاً التقريب أو الأعداد المتناغمة.

almanahj.com/sa

التقدير بالتقريب

.....

(١) أقدر ناتج الطرح بالأعداد المتناغمة:

٩٣ (أ)

٦١ -

-----

التقدير بالتقريب

.....

٧١ (ب)

٤٥ -

-----

(٢) أقدر ناتج الطرح بالتقريب إلى أقرب مئة:

التقدير بالأعداد المتناغمة

.....

١٨٦ (أ)

٧٢ -

-----

التقدير بالأعداد المتناغمة

.....

٢٥٣ (ب)

١٩٢ -

-----

## ورقة عمل

المادة / رياضيات

التاريخ / / / ١٤٤٣ هـ



الاسم /

الصف / الثالث



### مهارة حل المسألة

اسم المهارة / أقرر إذا كانت إجابة المسألة معقولة أم لا.



١) زار معرض الكتاب ٤٨٥ زائراً يوم الأحد و٩٧٣ زائراً يوم الثلاثاء، فهل يُعد ٥٠٠ زائر تقديراً معقولاً للفرق بين عدد الزائرين يومي الأحد والثلاثاء؟



.....

.....

.....

.....



٢) اشترت هند علبة مكعبات، فيها ٧٣ مكعباً، وعند تفريغها وجدت أن ألوان المكعبات أربعة (أخضر وأحمر وأزرق وأصفر)، فعدت المكعبات الخضراء والحمراء والزرقاء فوجدتها ٥٢ مكعباً، فخمن أن عدد الأقلام الصفراء ٢٠ قلماً، فهل تخمينه معقول؟

.....

.....

.....

.....

## ورقة عمل

المادة / رياضيات

التاريخ / / / ١٤٤٣ هـ



الاسم /

الصف / الثالث



اسم المهارة/ أطرح أعداداً كل منها يتكون من ٣ أرقام، مع إعادة التجميع.

almanahj.com/sa

المنهج السعودية

(١) أجد ناتج الطرح:

٧٣١ (ج)

٤٣٢ -

\_\_\_\_\_

٦٢٥ (ب)

١٣٢ -

\_\_\_\_\_

٤٩٢ (أ)

١٦٧ -

\_\_\_\_\_

$$= ٣٩٣ - ٥١٢ \quad (هـ)$$

$$= ٧٢٦ - ٩٤٥ \quad (د)$$

(٢) وفرت أسماء ٩٨٥ ريالاً هذه السنة، ووفرت ٦٢٧ ريالاً في السنة الماضية، فكم ريالاً وفرت في هذه السنة زيادة على السنة الماضية؟



.....

.....





اسم المهارة/ أ طرح أعداداً مع وجود الأصفار.



almanahj.com/sa  
المنهج السعودية

(١) أجد ناتج الطرح:

$$\begin{array}{r} 500 \\ - 233 \\ \hline \end{array}$$

(ج)

$$\begin{array}{r} 903 \\ - 66 \\ \hline \end{array}$$

(ب)

$$\begin{array}{r} 309 \\ - 47 \\ \hline \end{array}$$

(ا)

$$= 245 - 600 \quad (هـ)$$

$$= 521 - 840 \quad (د)$$

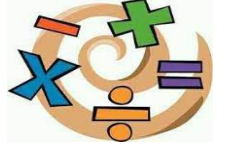
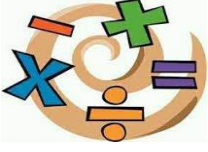
(٢) قطف أحمد ٣٠٩ ثمرات فراولة، باع منها ١٤٥ ثمرة، فكم ثمرة بقيت لديه؟



.....

.....

.....



اسم المهارة/ أعدد العملية المناسبة (الجمع أو الجمع) لأحل المسألة.

almanahj.com/sa

١) قامت هدى ومنى بقطف وردات جوري من الحديقة. فإذا قطفت هدى ٣١٥ وردة. وقطفت منى ٢٧ وردة زيادة على ما قطفت هدى. فكم وردة قطفت منى.



العملية المناسبة

.....

.....

.....

٢) التقطت سارة ٥٨ صورة، منها ٢٩ لبرج المملكة، والباقي لبرج الفيصلية، فما عدد صور برج الفيصلية المتبقية؟

العملية المناسبة

.....



.....



.....

## الفصل الرابع

### الضرب (١)

الشبكات و عملية الضرب	١
الضرب في ٢	٢
الضرب في ٤	٣
مهارة حل المسألة: تحديد المعطيات الزائدة أو الناقصة	٤
الضرب في ٥	٥
الضرب في ١٠	٦
استقصاء حل المسألة	٧
الضرب في الصفر و في الواحد	٨

اعداد/ أ. لولو عبد الله الفهد



اسم المهارة/ أستعمل الشبكات لأجد ناتج الضرب.

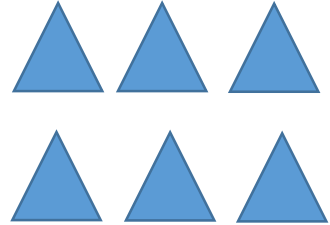


(١) أكتب جملة الضرب المناسبة:

almanahj.com/sa

جملة الضرب


.....



(أ)

جملة الضرب


.....



(ب)

جملة الضرب

.....



(ج)

(٢) تشرب ريم ٤ أكواب من الماء، فكم كوباً تشرب في أسبوع؟

.....



## ورقة عمل

المادة / رياضيات

التاريخ / / / ١٤٤٣ هـ



الاسم /


الصف / الثالث



### اسم المهارة/ الضرب في ٢.



(١) أجد ناتج الضرب:



$$\begin{array}{r} 6 \\ \times 2 \\ \hline \end{array}$$

(د)

(ج) ٤

$$\begin{array}{r} 2 \\ \times 2 \\ \hline \end{array}$$

(ب) ٢

$$\begin{array}{r} 3 \\ \times 2 \\ \hline \end{array}$$

(أ) ٢

$$\begin{array}{r} 5 \\ \times 2 \\ \hline \end{array}$$

$$= 9 \times 2 \quad (و)$$

$$= 8 \times 2 \quad (هـ)$$

$$= 10 \times 2 \quad (ق)$$

$$= 2 \times 2 \quad (ف)$$

$$= 7 \times 2 \quad (ي)$$

(٢) طالبان، مع كل واحد منهما ٧ ريالاً.  
ما عدد الريالات مع الطالبان؟





## اسم المهارة/ الضرب في ٤.



almanahj.com/sa

المنهج السعودية



(١) أجد ناتج الضرب:

$$٦ \quad (د)$$

$$٤ \times$$

\_\_\_\_\_

$$٤ \quad (ج)$$

$$٢ \times$$

\_\_\_\_\_

$$٤ \quad (ب)$$

$$٣ \times$$

\_\_\_\_\_

$$٤ \quad (أ)$$

$$٥ \times$$

\_\_\_\_\_

$$= ٩ \times ٤ \quad (و)$$

$$= ٨ \times ٤ \quad (هـ)$$

$$= ١٠ \times ٤ \quad (ق)$$

$$= ٤ \times ٤ \quad (ف)$$

$$= ٧ \times ٤ \quad (ي)$$

(٢) يضع فهد كل أربعة مساطر في علبة، إذا كان معه ٣٦ مسطرة، ففي كم علبة يضعها؟



.....



## مهارة حل المسألة



اسم المهارة / أحل المسألة بتحديد المعطيات الزائدة أو الناقصة.

almanahj.com/sa

المنهج السعودي

١) مع رغد سلسلة طولها ٦٧ سنتمراً، ومع أختها سلسلة طولها ٣٥ سنتمراً.  
كم تزيد سلسلة رغد على سلسلة أختها؟



.....

.....

.....

.....

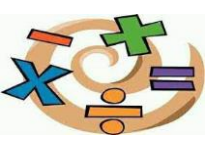
٢) يذهب الطلاب إلى المدرسة كل صباح، فإذا كان هناك باصان ينقلهم  
للمدرسة، وكان كل باص ينقل ١٠ طلاب، فما عدد الطلاب الذين يركبون  
في الباصين؟



.....

.....

.....



## اسم المهارة / الضرب في ٥ .



(١) أجد ناتج الضرب:



$$٦ \quad (د)$$

$$٥ \times$$

$$= ٩ \times ٥ \quad (و)$$

$$٥ \quad (ج)$$

$$٢ \times$$

$$= ٧ \times ٥ \quad (ي)$$

$$٥ \quad (ب)$$

$$٣ \times$$

$$= ٨ \times ٥ \quad (هـ)$$

$$٤ \quad (أ)$$

$$٥ \times$$

$$= ٥ \times ٥ \quad (ف)$$

$$= ١٠ \times ٥ \quad (ق)$$

(٢) تحوي مزرعة ٧ صفوف من الباذنجان، إذا كان في كل صف ٥ حبات، فكم باذنجانة في المزرعة؟





## ورقة عمل

المادة / رياضيات

التاريخ / / / ١٤٤٣ هـ



الاسم /

الصف / الثالث



اسم المهارة/ الضرب في ١٠.

(١) أجد ناتج الضرب:



manahj.com/sa

المنهج السعودي

(د)  $10 \times 6$

(ج)  $10 \times 2$

(ب)  $10 \times 3$

(ا)  $10 \times 4$

(و)  $10 \times 9 =$

(هـ)  $10 \times 8 =$

(ق)  $10 \times 5 =$

(ف)  $10 \times 10 =$

(ي)  $10 \times 7 =$

(٢) يوجد على كل شجرتين ١٠ طيور، فكم عدد الطيور على كلا الشجرتين؟



.....



استقصاء حل المسألة



اسم المهارة/ أختار خطة مناسبة لأحل المسألة.

almanahj.com/sa



١) في مواقف السيارات يوجد ١٢ سيارة حمراء، و ٩ سيارات بيضاء، و ١٠ سيارات سوداء، كم عدد السيارات في الموقف؟

.....

.....

.....

.....

٢) ذهب صالح مع زملائه في رحلة، وأخذوا معهم ٥ سخانات طعام في كل سخان ٧ وجبات، فما عدد الوجبات في السخانات الخمس؟



.....

.....



اسم المهارة/ الضرب في الصفر و في الواحد.



أجد ناتج الضرب:

المثال: (٤) السموية

$$\begin{array}{r} 0 \\ \times 7 \\ \hline \end{array}$$

$$\begin{array}{r} 10 \\ \times 1 \\ \hline \end{array}$$

$$\begin{array}{r} 0 \\ \times 8 \\ \hline \end{array}$$

$$\begin{array}{r} 9 \\ \times 0 \\ \hline \end{array}$$

$$\begin{array}{r} 2 \\ \times 0 \\ \hline \end{array}$$

$$\begin{array}{r} 0 \\ \times 6 \\ \hline \end{array}$$

$$\begin{array}{r} 5 \\ \times 0 \\ \hline \end{array}$$

$$\begin{array}{r} 1 \\ \times 0 \\ \hline \end{array}$$

$$\begin{array}{r} 7 \\ \times 1 \\ \hline \end{array}$$

$$\begin{array}{r} 1 \\ \times 10 \\ \hline \end{array}$$

$$\begin{array}{r} 0 \\ \times 4 \\ \hline \end{array}$$

$$\begin{array}{r} 3 \\ \times 0 \\ \hline \end{array}$$

$$\begin{array}{r} 3 \\ \times 1 \\ \hline \end{array}$$

$$\begin{array}{r} 4 \\ \times 1 \\ \hline \end{array}$$

$$\begin{array}{r} 1 \\ \times 5 \\ \hline \end{array}$$

$$\begin{array}{r} 9 \\ \times 1 \\ \hline \end{array}$$

## الفصل الخامس

### الضرب (٢)

الضرب في ٣	١
الضرب في ٦	٢
خطة حل المسألة: البحث عن نمط	٣
الضرب في ٧	٤
الضرب في ٨	٥
الضرب في ٩	٦
الخاصية التجميعية	٧

إعداد/ د. لولو عبد الله الفهد

ورقة عمل

المادة / رياضيات

التاريخ / / / ١٤٤٣ هـ



الاسم /

الصف / الثالث



اسم المهارة/ الضرب في ٣.

(١) أجد ناتج الضرب:

(ب) ٣

٧ x

\_\_\_\_\_

(أ) ٣

٥ x

\_\_\_\_\_

(ج) ٩

٣ x

\_\_\_\_\_

(هـ) ٤

٣ x

\_\_\_\_\_

(و) ٦

٣ x

\_\_\_\_\_

(د) ٨

٣ x

\_\_\_\_\_

(ف) = ١ x ٣ (ق) = ٢ x ٣ (ل) = ١٠ x ٣ (ي) = ٣ x ٣

(٢) مع كل من أحمد وصالح ومحمد وحمد ٣ تفاحات، فما عدد التفاحات كلها؟



.....



## اسم المهارة/ الضرب في ٦.



(١) أجد ناتج الضرب:



(د) ٦

٦ ×

\_\_\_\_\_

(ج) ٨

٦ ×

\_\_\_\_\_

(ب) ٦

٤ ×

\_\_\_\_\_

(أ) ٢

٦ ×

\_\_\_\_\_

$$= ٦ \times ٣ \quad (\text{ف})$$

$$= ٦ \times ٩ \quad (\text{و})$$

$$= ٦ \times ٧ \quad (\text{هـ})$$

$$= ٦ \times ١٠ \quad (\text{ي})$$

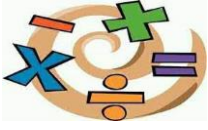
$$= ٦ \times ١ \quad (\text{ل})$$

$$= ٦ \times ٥ \quad (\text{ق})$$

(٢) خمسة طالبات، اشترت كل واحدة منهن ٦ قطع من الفطائر. فكم عدد جميع قطع الفطائر؟



.....



## خطة حل المسألة

اسم المهارة/ أحل مسألة بالبحث عن نمط.



١) عملت فاطمة نمطاً من أقلام ملونة، فوضعت في الصف الأول أقلام من اللون الأحمر، وفي الصف الثاني أقلام من اللون الأخضر، وفي الصف الثالث أقلام من اللون الأزرق. فإذا استمرت على هذا النمط. فما هو لون الأقلام في الصف الخامس؟

المناهج السعودية  
almanhaj.com/sa



.....

.....

.....

.....

٢) يضع عاصم ١٠ ريالات في حصالته في الأسبوع الأول من كل شهر. فإذا استمر في وضع الريالات كل أسبوع، فكم ريالاً سيضع في الأسبوع الرابع؟



.....

.....

.....

## ورقة عمل

المادة / رياضيات

التاريخ / / / ١٤٤٣ هـ



الاسم /

الصف / الثالث



### اسم المهارة / الضرب في ٧



(١) أجد ناتج الضرب:

(أ)	٩	×	٧		(ب)	٧	×	٧		(ج)	١٠	×	٧		(د)	٧	×	٨										
				_____				_____					_____					_____										
(هـ)				$= ٦ \times ٧$	(و)			$= ٢ \times ٧$	(ف)				$= ٧ \times ٣$	(ز)				$= ٧ \times ٤$	(ح)				$= ٧ \times ١$	(ط)				$= ٧ \times ٥$

(٢) اشترى بدر و٦ من أصدقائه كتباً من المكتبة، فإذا اشترى كل واحد منهم ٣ كتب، فما عدد الكتب التي اشتروها؟





ورقة عمل

المادة / رياضيات

التاريخ / / / ١٤٤٣ هـ



الاسم /

الصف / الثالث



اسم المهارة/ الضرب في ٨



manahj.com/sa  
المنهج السعودية

(١) أجد ناتج الضرب:

(أ)  $7 \times 8$

(ب)  $8 \times 9$

(ج)  $5 \times 8$

(د)  $8 \times 2$

(هـ)  $8 \times 8$

(و)  $10 \times 8$

(ف)  $8 \times 3$

(ق)  $8 \times 6$

(ل)  $8 \times 1$

(ي)  $8 \times 4$



(٢) ٤ عربات، في كل منها ٨ مقاعد. كم شخصاً يمكنهم ركوب القطار في الوقت نفسه؟

.....



## اسم المهارة/ الضرب في ٩



(١) أجد ناتج الضرب:



$$\begin{array}{r} 8 \\ \times 9 \\ \hline \end{array}$$

$$\begin{array}{r} 9 \\ \times 5 \\ \hline \end{array}$$

$$\begin{array}{r} 7 \\ \times 9 \\ \hline \end{array}$$

$$\begin{array}{r} 9 \\ \times 10 \\ \hline \end{array}$$

$$= 9 \times 3 \quad \text{(ف)}$$

$$= 9 \times 2 \quad \text{(و)}$$

$$= 9 \times 9 \quad \text{(هـ)}$$

$$= 9 \times 4 \quad \text{(ي)}$$

$$= 9 \times 1 \quad \text{(ل)}$$

$$= 9 \times 6 \quad \text{(ق)}$$

(٢) اشترى باسم ٧ كرات، فإذا كان سعر الكرة الواحدة ٩ ريالاً، فكم ريالاً دفع؟



.....



## اسم المهارة/ الخاصية التجميعية.



almanahj.com/sa

المنهج السموي

(١) أجد ناتج الضرب:

(ج)  $= 7 \times 0 \times 5$

(ب)  $= 2 \times 4 \times 2$

(أ)  $= 3 \times 9 \times 1$

(و)  $= 2 \times 3 \times 8$

(هـ)  $= 7 \times 2 \times 1$

(د)  $= 2 \times 3 \times 6$

(٢) أكتب العدد المناسب في  :

(ب)  $36 = 3 \times 6 \times \square$

(أ)  $24 = 3 \times \square \times 8$

(٣) قطعت نورة ٤ كعكات، كل كعكة إلى قطعتين. ثم جاءت مريم وقطعت كل قطعة إلى ٣ قطع صغيرة. أكتب جملة ضرب تبين عدد القطع الصغيرة كلها.



.....

# المراجع

موقع بوابة عين  
almanahj.com/sa  
المنهج السعودية

ماجروهيل – رياضيات ٣ – وزارة التعليم، مجموعة العبيكان للاستثمار – المملكة العربية السعودية (٢٠٠٨)