

## شكراً لتحميلك هذا الملف من موقع المناهج السعودية



## أوراق عمل فصل القياس

[موقع المناهج](#) ← [المناهج السعودية](#) ← [الصف الثالث](#) ← [رياضيات](#) ← [الفصل الثالث](#) ← [الملف](#)

تاريخ نشر الملف على موقع المناهج: 08:57:27 2023-03-23

## التواصل الاجتماعي بحسب الصف الثالث



## المزيد من الملفات بحسب الصف الثالث والمادة رياضيات في الفصل الثالث

<a href="#">نموذج إجابة الاختبار التحريبي النهائي</a>	1
<a href="#">اختبار تحريبي نهائي</a>	2
<a href="#">نموذج إجابة مراجعة المنهج</a>	3
<a href="#">أسئلة مراجعة شاملة للمنهج</a>	4
<a href="#">مجموعة اختبارات نهائية مع نماذج الإجابة</a>	5



# وحدات الطول المترية

الكيلومتر

المتر

السنتمتر

المليمتر

أختار الوحدة الأنسب (المولومتر، السنتومتر، المتر، الكيلومتر)؛ لقياس كل من الأطوال الآتية:

٢ طول مضباح كهربائي

١ عرض مبراة

٥ المسافة بين البيت والمدرسة

٤ شملك قشرة موزة

أختار التقدير الأنسب لقياس طول كل من:

٨ شاشة التلفاز

٧٠ سم، ٧٠ م

٧ فأرة الكمبيوتر

١٣ ملم، ١٣ سم

٩ علبة ألوان

١٢ ملم، ١٢ سم





# المحيط

١٨ سم

٢٤ سم

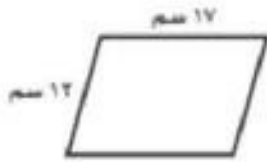
١٦ سم

٥٨ سم

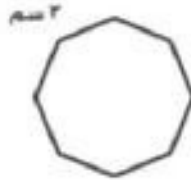
١٢ سم

٨ سم

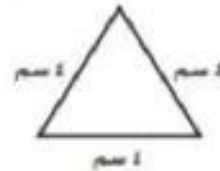
أجِدْ مُحِيطَ كُلِّ شَكْلِ مِمَّا يَأْتِي:



٣



٢



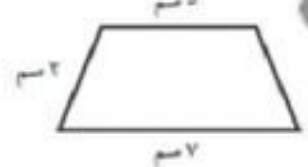
١



٦



٥



٤





# قياس المساحة

٢٥ وحدة مربعة

٢٠ وحدة مربعة


١٠ وحدات مربعة

١٦ وحدة مربعة


١٦ وحدة مربعة

١١ وحدة مربعة

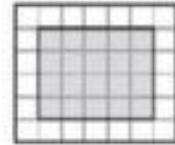
أجِدْ مِسَاحَةَ كُلِّ شَكْلِ مِمَّا بَأْتِي:




١



٢



٣



٤



٥



٦





# وحدات السعة المتريّة

حسب سعة القارورة/العلبة

لتر

حسب سعة القارورة/العلبة

مليتر

أختار الوحدة الأنسب (اللتر، المليلتر)؛ لقياس سعة كلِّ ممَّا يأتي:

- ① قارورة ماء كبيرة
- ② الماء في بركة سياحة
- ③ علبة حليب صغيرة
- ④ كوب شاي

أختار التقدير الأنسب لسعة كلِّ ممَّا يلي:



①



②



③

١٥٠ مل

٣٠٠ مل

٢ ل



إعداد قناة نادي الرياضيات  
<https://t.me/Grade1QMC>

