

شكراً لتحميلك هذا الملف من موقع المناهج السعودية



أسئلة اختبار تجريبي منتصف الفصل

[موقع المناهج](#) ← [المناهج السعودية](#) ← [الصف الثالث](#) ← [رياضيات](#) ← [الفصل الثالث](#) ← [الملف](#)

التواصل الاجتماعي بحسب الصف الثالث



روابط مواد الصف الثالث على تلغرام

[الرياضيات](#)

[اللغة الانجليزية](#)

[اللغة العربية](#)

[التربية الاسلامية](#)

المزيد من الملفات بحسب الصف الثالث والمادة رياضيات في الفصل الثالث

[نموذج إجابة الاختبار التحريبي النهائي](#)

1

[اختبار تحريبي نهائي](#)

2

[نموذج إجابة مراجعة المنهج](#)

3

[أسئلة مراجعة شاملة للمنهج](#)

4

[مجموعة اختبارات نهائية مع نماذج الإجابة](#)

5

المملكة العربية السعودية

وزارة التعليم

إدارة التعليم بـ

مدرسة



الدرجة: _____

٢٠

توقيع ولي الأمر:

اختبار تجريبي - منتصف الفصل الدراسي الثالث - ١٤٤٤ هـ

الصف: الثالث الابتدائي

المادة: رياضيات

اسم الطالب:

السؤال الأول: اختر الإجابة الصحيحة في كل مما يلي:

١ () الوحدة الأنسب لقياس طول سيارة هي:

(أ) ملم	(ب) سم	(ج) م	(د) كلم
---------	--------	-------	---------

٢ () أفضل تقدير لطول علبة ألوان هو:

(أ) ١٥ ملم	(ب) ١٥ سم	(ج) ١٥ م	(د) ١٥ كلم
------------	-----------	----------	------------

٣ () محيط المثلث التالي يساوي:

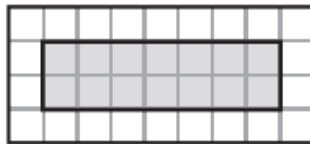


(أ) ١٢ سم	(ب) ١٣ سم	(ج) ١٤ سم	(د) ١٦ سم
-----------	-----------	-----------	-----------

٤ () مربع طول ضلعه ٥ سم، كم يكون محيطه؟

(أ) ١٥ سم	(ب) ١٦ سم	(ج) ٢٠ سم	(د) ٢٥ سم
-----------	-----------	-----------	-----------

٥ () كم وحدة مربعة مساحة هذا الشكل المظلل؟



(أ) ١١ وحدة مربعة	(ب) ١٢ وحدة مربعة	(ج) ١٤ وحدة مربعة	(د) ١٦ وحدة مربعة
-------------------	-------------------	-------------------	-------------------

٦ () التقدير الأنسب لسعة فنجان قهوة هو:

(أ) ٥ مل	(ب) ٥ ل	(ج) ٥٠ مل	(د) ٥٠ ل
----------	---------	-----------	----------

٧ () إذا كان الكيلو جرام الواحد يساوي ١٠٠٠ جرام، فكم جراما في ٤ كيلو جرامات؟

(أ) ٤٠ جرام	(ب) ٤٠٠ جرام	(ج) ٢٠٠٠ جرام	(د) ٤٠٠٠ جرام
-------------	--------------	---------------	---------------

٨ () أي مما يأتي يتسع لأكثر من لتر؟

(أ) قطارة	(ب) حوض سمك	(ج) ملعقة	(د) زجاجة عطر
-----------	-------------	-----------	---------------

٩) إذا أشار عقرب الدقائق على الرقم ٩ فإن عدد الدقائق التي يشير إليها هو؟

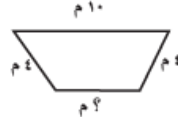
(أ) ٣٥ دقيقة	(ب) ٤٠ دقيقة	(ج) ٤٥ دقيقة	(د) ٥٥ دقيقة
--------------	--------------	--------------	--------------

١٠) إذا انتهت الحصة الأولى ١٠:٣٥ فمتى تبدأ الحصة الثانية. إذا كان الوقت بين الحصتين ٥ دقائق؟

(أ) ١٠:٤٠	(ب) ١٠:٤١	(ج) ١٠:٤٥	(د) ١١:٤٠
-----------	-----------	-----------	-----------

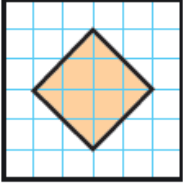
السؤال الثاني: (أ)

إذا كان محيط الشكل التالي يساوي ٢٠ م

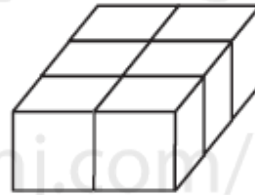
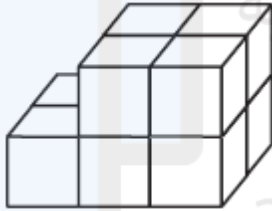


فما طول الضلع المجهول فيه؟

(ب) اوجد مساحة الجزء المظلل



(ج) اوجد حجم الجسمين التاليين:



(د) صل كل وحدة من المجموعة (ب) بما يناسبها من المجموعة (أ)

لتر
وحدة مربعة
جرام
وحدة مكعبة

وحدة قياس الكتلة
وحدة قياس الحجم
وحدة قياس السعة
وحدة قياس المساحة

(هـ) اكتب الزمن الذي تدل عليه كل ساعة فيما يلي:



انتهت الأسئلة.. أصدق الدعوات بالتوفيق الدائم والنجاح

معلم المادة: حسن القرني