

شكراً لتحميلك هذا الملف من موقع المناهج السعودية



اختبار نهائي الدور الأول

[موقع المناهج](#) ← [المناهج السعودية](#) ← [الصف الثالث](#) ← [علوم](#) ← [الفصل الثالث](#) ← [الملف](#)

تاريخ إضافة الملف على موقع المناهج: 08:40:27 2024-05-07

التواصل الاجتماعي بحسب الصف الثالث



اضغط هنا للحصول على جميع روابط "الصف الثالث"

المزيد من الملفات بحسب الصف الثالث والمادة علوم في الفصل الثالث

أسئلة مراجعة محلولة بصيغة الورد	1
نموذج إجابة اختبار منتصف الفصل	2
اختبار منتصف الفصل	3
أوراق عمل شاملة غير محلولة	4
اختبار تشخيصي ثالث	5

المجموع الكلي		المملكة العربية السعودية وزارة التعليم الإدارة العامة للتعليم بمنطقة
		مدرسة /
٤٠		
اختبار مادة العلوم (الدور الأول) الفصل الدراسي الثالث للعام الدراسي - ١٤٤٤ هـ		

المادة	العلوم		الصف	الثالث
اليوم	التاريخ		زمن الاجابة	ساعة ونصف
اسم الطالبة				
رقم الجلوس	()			

رقم السؤال	الدرجة المستحقة		اسم المصحح / ة	اسم المراجع / ة	اسم المدقق / ة
	الدرجة رقماً	الدرجة كتابة			
السؤال الأول					
السؤال الثاني					
السؤال الثالث					
السؤال الرابع					
المجموع					



لسؤال الأول :-

١٥

(نختار الاجابة الصحيحة فيما يلي :-

١- أي شيء له كتلة وحجم .	٢- عضو السمع في الانسان .
أ- المادة	أ- العين
ب - التغير الفيزيائي	ب - الأذن
ج - الخاصية	ج - القلب
٣- ينتج عن اهتزاز الأجسام .	٤- نستخدم لفصل الحديد عن المواد الاخرى .
أ- الصوت	أ- غربال
ب - القوى	ب - مغناطيس
ج - المادة	ج - تبخير
٥- خليط مكون من مادتين مختلفتين أو أكثر .	٦- عجلة يلف حولها سلك قوي .
أ- مخلوط	أ- الرافعة
ب - محلول	ب - سطح مائل
ج - ماء	ج - البكرة
٧- ينتشر الضوء في خطوط .	٨- مادة لها شكل ثابت وحجم ثابت .
أ- مستقيمة	أ- صلبة
ب - متعرجة	ب - سائلة
ج - منكسرة	ج - غازية
٩- إذا سقط الضوء على مرآه فإنه .	١٠- وحدة بناء المادة .
أ- ينعكس	أ- العنصر
ب - ينكسر	ب - الخاصية
ج - ينحرف	ج - المحلول
١١- أي المواد التالية ينتقل فيها الصوت ببطء .	١٢- يحول الطاقة الكهربائية الى صوتية
أ- الماء	أ- الجرس
ب - الصخر	ب - الثلجة
ج - الهواء	ج - المروحة

(ب) نحدد حسب الصور وحدات القياس المعيارية التالية (اللتر _ الكيلو جرام _ المتر)



يتبع

سؤال الثاني :-

١٠

(ما المصطلح العلمي المناسب للعبارات التالية :-

(الكتلة - الشغل - الآلة البسيطة - الضوء - الدائرة الكهربائية)

- ١- (.....) مقدار ما يحتويه الجسم من مادة .
- ٢- (.....) أداة تستخدم لانجاز الاعمال بسهولة .
- ٢- (.....) شكل من أشكال الطاقة نحس به بالعين .
- ٤- (.....) القوة المبذولة لتحريك جسم ما مسافة معينة .
- ٥- (.....) مسار يسمح بمرور التيار الكهربائي من خلاله .

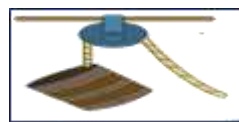
(ب) نصنف التغيرات التالية الى (تغير كيميائي . تغير فيزيائي) بوضع أشاره (✓)

التغير	تغير كيميائي	تغير فيزيائي
احتراق الخشب		
تسوس الاسنان		
طبخ الطعام		
تقطيع الورق		
تجمد الماء		

سؤال الثالث :-

١٠

(نكتب تحت كل صورة اسم الآلة البسيطة (الرافعة * البرغي * عجلة ومحور * البكرة)



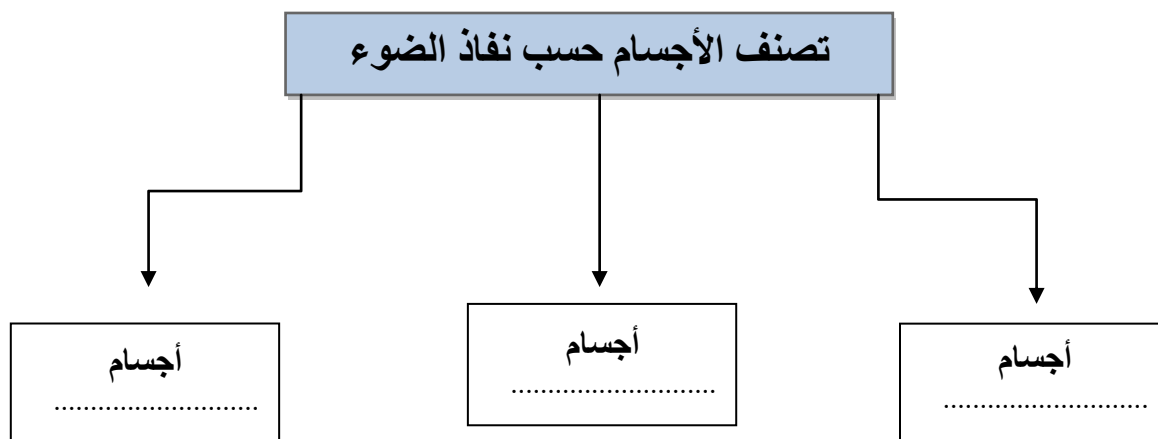
نضع علامة (✓) أمام العبارات الصحيحة وعلامة (x) أمام العبارات الخاطئة :

.....	١- من طرق فصل المخلوط الغريبال
.....	٢- البرق من الأمثلة على الكهرباء الساكنة
.....	٣- يعد ورق الالمنيوم مثال على جسم غير شفاف
.....	٤- انكسار الضوء هو انحرافه عن مساره
.....	٥- من دلائل حدوث التغير الكيميائي تكون الغاز
.....	٦- تذوب حبيبات السكر في الماء بسرعة اذا تم تبريد المحلول

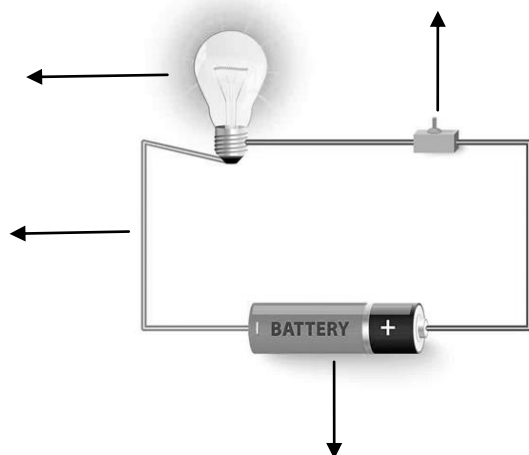
لسؤال الرابع :-

ج) نكمل الخريطة التالية :-

٥



ب) نضع البيانات التالية في مكانها الصحيح (مصباح * أسلاك * بطارية * مفتاح كهربائي)



انتهت الأسئلة ** بالتوفيق



سكره الشمري