

## شكراً لتحميلك هذا الملف من موقع المناهج السعودية



## اختبار الفترة الخامسة القياس

[موقع المناهج](#) ← [المناهج السعودية](#) ← [الصف الثالث](#) ← [رياضيات](#) ← [الفصل الثالث](#) ← [الملف](#)

تاريخ نشر الملف على موقع المناهج: 06:40:55 2023-03-31


## التواصل الاجتماعي بحسب الصف الثالث



## المزيد من الملفات بحسب الصف الثالث والمادة رياضيات في الفصل الثالث

<a href="#">نموذج إجابة الاختبار التحريبي النهائي</a>	1
<a href="#">اختبار تحريبي نهائي</a>	2
<a href="#">نموذج إجابة مراجعة المنهج</a>	3
<a href="#">أسئلة مراجعة شاملة للمنهج</a>	4
<a href="#">مجموعة اختبارات نهائية مع نماذج الإجابة</a>	5

اسم الطالب/.....	الصف : 3 /.....	الدرجة المستحقة	٢٠
------------------	-----------------	--------------------	----

السؤال الأول: اختر الإجابة الصحيحة فيما يلي:								<input type="radio"/>
الوحدة المناسبة لقياس المسافة بين مدينتي الرياض وجدة هي :								
1.	أ	لم	ب	سم	ج	م	د	كلم
لقياس طول كتاب الرياضيات نستخدم وحدة :								
2.	أ	لم	ب	سم	ج	م	د	كلم
كتلة البطيخ								
3.	أ	5 جم	ب	15 جم	ج	5 كلجم	د	1000 كلجم
محيط المستطيل التالي يساوي								
$2 \text{ سم} \quad \boxed{5 \text{ سم}} \quad 2 \text{ سم}$								
4.	أ	16 سم	ب	14 سم	ج	24 سم	د	25 سم
مساحة الشكل المقابل								
								
5.	أ	20 وحدة مربعة	ب	15 وحدة مربعة	ج	9 وحدات مربعة	د	8 وحدات مربعة

السؤال الثاني:

اكمل الفراغات التالية ب لتر او مللتر:

1-سعة قارورة ماء .....

2- سعة كوب شاهي .....

3- سعة ماء في بركة سباحه .....

4-سعة ملعقة غسل .....

5-سعة حوض سمك .....

السؤال الثالث:

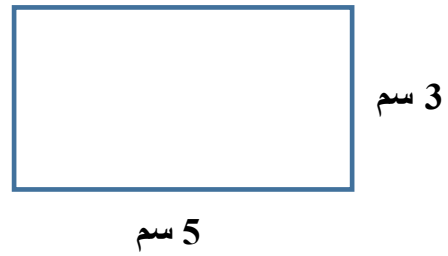
صل القائمة أ بما يناسبها من القائمة ب

القائمة أ	القائمة ب
حبة فرواله	كيلوجرام
حوض سمك	كيلومتر
طول غرفة الصف	متر
المسافة بن الرياض وجدة	لتر
وزن طفل	جرام

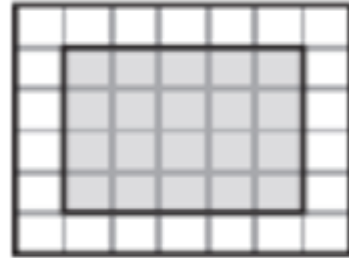
السؤال الرابع

أوجد ما يلي:

المحيط = ..... سم



المساحة = ..... وحدة مربعة



الحجم = ..... وحدة مكعبة

