

تم تحميل هذا الملف من موقع المناهج السعودية



## نماذج اختبار تشخيصي 1446هـ

موقع المناهج ← المناهج السعودية ← الصف الثالث ← علوم ← الفصل الثالث ← اختبارات ← الملف

تاريخ إضافة الملف على موقع المناهج: 22:39:07 2025-03-01

ملفات اكتب للمعلم اكتب للطالب الاختبارات الكترونية الاختبارات احلول اعروض بوربوينت أوراق عمل منهج انجليزي ملخصات وتقارير مذكرات وبنوك الامتحان النهائي للمدرس

المزيد من مادة علوم:

## التواصل الاجتماعي بحسب الصف الثالث



صفحة المناهج السعودية على فيسبوك

الرياضيات

اللغة الانجليزية

اللغة العربية

التربية الاسلامية

المواد على تلغرام

## المزيد من الملفات بحسب الصف الثالث والمادة علوم في الفصل الثالث

خطة التعلم الأسبوعية لكامل الفصل الثالث

1

عرض بوربوينت المادة وقياسها

2

أوراق عمل شاملة 1446هـ

3

كتاب كراسة النشاط تمارين طبعة العام 1446هـ

4



كتاب الطالب طبعة العام 1445هـ




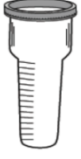
5

## اختبار تشخيصي مادة العلوم الصف الثالث الابتدائي نموذج (١)

اسم الطالب/ة..... الفصل.....

اسم الطالب/ة..... الفصل.....

<table border="1"> <tr> <td>اجتاز</td> <td><input type="radio"/></td> </tr> <tr> <td>لم يجتاز</td> <td><input type="radio"/></td> </tr> </table>	اجتاز	<input type="radio"/>	لم يجتاز	<input type="radio"/>	<p>س ١ / اختر الإجابة الصحيحة:</p>  <p>١- انظر إلى الصورة : ما التركيب الذي يساعد الجمل على تناول النباتات الصحراوية ؟</p> <p>أ ( خف الجمل )      ب ( سنام الجمل )      ج ( الشفة المشقوقة )</p>	<p>تحديد التكييفات التي تمكن المخلوق الحي من البقاء في بيئة معينة .</p>
اجتاز	<input type="radio"/>					
لم يجتاز	<input type="radio"/>					
<table border="1"> <tr> <td>اجتاز</td> <td><input type="radio"/></td> </tr> <tr> <td>لم يجتاز</td> <td><input type="radio"/></td> </tr> </table>	اجتاز	<input type="radio"/>	لم يجتاز	<input type="radio"/>	<p>س ٢ / اجيب عما يلي :</p>  <p>١- انظر إلى الصورة المجاورة : تتنافس المخلوقات الحية فيما بينها للحصول على الماء والهواء والغذاء ؟</p> <p>صح ( )      خطأ ( )</p>	<p>توضيح كيف تتنافس المخلوقات الحية المختلفة على الغذاء و الماء والماوى .</p>
اجتاز	<input type="radio"/>					
لم يجتاز	<input type="radio"/>					
<table border="1"> <tr> <td>اجتاز</td> <td><input type="radio"/></td> </tr> <tr> <td>لم يجتاز</td> <td><input type="radio"/></td> </tr> </table>	اجتاز	<input type="radio"/>	لم يجتاز	<input type="radio"/>	<p>س ٣ / رتب دورة حياة نبات الخوخ باستعمال الأرقام من ١ إلى ٥ :</p>  <p>شجرة خوخ صغيرة      بذرة      تسقط الثمار وتكون بذور جديدة      نبات مكتمل النمو      تتكون الثمار</p> <p><input type="checkbox"/>      <input type="checkbox"/>      <input type="checkbox"/>      <input type="checkbox"/>      <input type="checkbox"/></p>	<p>التعرف على دورات حياة أنواع مختلفة من النباتات</p>
اجتاز	<input type="radio"/>					
لم يجتاز	<input type="radio"/>					

<table border="1"> <tr> <td>اجتاز</td> <td>○</td> </tr> <tr> <td>لم يجتاز</td> <td>○</td> </tr> </table>	اجتاز	○	لم يجتاز	○	<p>س ٤ / ضع علامة ( ✓ ) تحت الصورة التي تدل على أحفورة :</p> <div style="display: flex; justify-content: space-around; align-items: center;"> <div style="text-align: center;">  <p>( )</p> </div> <div style="text-align: center;">  <p>( )</p> </div> </div>	<p>وصف تكون الأحافير</p>
اجتاز	○					
لم يجتاز	○					
<table border="1"> <tr> <td>اجتاز</td> <td>○</td> </tr> <tr> <td>لم يجتاز</td> <td>○</td> </tr> </table>	اجتاز	○	لم يجتاز	○	<p>س ٥ / حوِّط الإجابة الصحيحة :</p> <p>١- من أنواع التربة التي تحتفظ بالكثير من الماء :</p> <p>( تربة رملية – تربة غرينية – تربة طينية )</p>	<p>المقارنة بين أنواع مختلفة من التربة .</p>
اجتاز	○					
لم يجتاز	○					
<table border="1"> <tr> <td>اجتاز</td> <td>○</td> </tr> <tr> <td>لم يجتاز</td> <td>○</td> </tr> </table>	اجتاز	○	لم يجتاز	○	<p>س ٦ / صل كل عبارة بما يناسبها من الصور :</p> <div style="display: flex; justify-content: space-around; align-items: center;"> <div style="text-align: center;">  </div> <div style="border: 1px solid black; border-radius: 10px; padding: 5px; text-align: center;">مقياس المطر</div> </div> <div style="display: flex; justify-content: space-around; align-items: center; margin-top: 20px;"> <div style="text-align: center;">  </div> <div style="border: 1px solid black; border-radius: 10px; padding: 5px; text-align: center;">السهم الدوار</div> </div>	<p>وصف خصائص الطقس المختلفة .</p>
اجتاز	○					
لم يجتاز	○					

مدير / ة المدرسة:

اسم المعلم/ة:






المشرف/ة التربوي/ة:


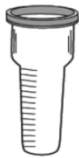
\*يرجى الاحتفاظ بالشواهد في ملف خاص بالمعلم/ة

## اختبار تشخيصي مادة العلوم الصف الثالث الابتدائي نموذج (٢)

الفصل.....

اسم الطالب/ة.....

<table border="1"> <tr> <td>اجتاز</td> <td><input type="radio"/></td> </tr> <tr> <td>لم يجتاز</td> <td><input type="radio"/></td> </tr> </table>	اجتاز	<input type="radio"/>	لم يجتاز	<input type="radio"/>	<p>س ١ / اختار الإجابة الصحيحة:</p>  <p>١- انظر إلى الصورة : ما التكيف الذي مكن نبات الصبار من البقاء في البيئة الصحراوية ؟</p> <p>( أ ) له أزهار                      ( ب ) له أشواك                      ( ج ) يطلق أصوات</p>	<p>تحديد التكيفات التي تمكن المخلوق الحي من البقاء في بيئة معينة .</p>
اجتاز	<input type="radio"/>					
لم يجتاز	<input type="radio"/>					
<table border="1"> <tr> <td>اجتاز</td> <td><input type="radio"/></td> </tr> <tr> <td>لم يجتاز</td> <td><input type="radio"/></td> </tr> </table>	اجتاز	<input type="radio"/>	لم يجتاز	<input type="radio"/>	<p>س ٢ / اجيب عما يلي:</p>  <p>١- انظر إلى الصورة المجاورة: تتنافس المخلوقات الحية فتمنع الأشجار الكبيرة وصول الضوء إلى النباتات الصغيرة ؟</p> <p>صح ( )                      خطأ ( )</p>	<p>توضيح كيف تتنافس المخلوقات الحية المختلفة على الغذاء و الماء والماوى .</p>
اجتاز	<input type="radio"/>					
لم يجتاز	<input type="radio"/>					
<table border="1"> <tr> <td>اجتاز</td> <td><input type="radio"/></td> </tr> <tr> <td>لم يجتاز</td> <td><input type="radio"/></td> </tr> </table>	اجتاز	<input type="radio"/>	لم يجتاز	<input type="radio"/>	<p>س ٣ / حدد جزء النبات الذي ينتج البذور؟</p>    <p><input type="checkbox"/>                      <input type="checkbox"/>                      <input type="checkbox"/></p>	<p>التعرف على دورات حياة أنواع مختلفة من النباتات</p>
اجتاز	<input type="radio"/>					
لم يجتاز	<input type="radio"/>					

<table border="1"> <tr> <td>اجتاز</td> <td>0</td> </tr> <tr> <td>لم يجتاز</td> <td>0</td> </tr> </table>	اجتاز	0	لم يجتاز	0	<p>س ٤ / صح أم خطأ:</p> <p>١ - الأحفورة هي بقايا أو آثار مخلوقات حية عاشت في الماضي البعيد .</p> <p>هل هذه العبارة صحيحة أم خاطئة ؟</p> <p>صح ( ) خطأ ( )</p>	<p>وصف تكون الأحافير</p>
اجتاز	0					
لم يجتاز	0					
<table border="1"> <tr> <td>اجتاز</td> <td>0</td> </tr> <tr> <td>لم يجتاز</td> <td>0</td> </tr> </table>	اجتاز	0	لم يجتاز	0	<p>س ٥ / حوط الإجابة الصحيحة:</p> <p>١ - أي العبارات الآتية تدل على أن التربة صالحة للزراعة :</p> <p>- تربة ذات لون أسود - تربة ذات لون أحمر - تربة تحتوي على صخور</p>	<p>المقارنة بين أنواع مختلفة من التربة .</p>
اجتاز	0					
لم يجتاز	0					
<table border="1"> <tr> <td>اجتاز</td> <td>0</td> </tr> <tr> <td>لم يجتاز</td> <td>0</td> </tr> </table>	اجتاز	0	لم يجتاز	0	<p>س ٦ / أي الأدوات تقيس الضغط الجوي :</p> <div style="display: flex; justify-content: space-around; align-items: center;">    </div>	<p>وصف خصائص الطقس المختلفة .</p>
اجتاز	0					
لم يجتاز	0					

مديرة المدرسة:

اسم المعلمة:



المشرفة التربوية:

\*يرجى الاحتفاظ بالشواهد في ملف خاص بالمعلمة

## اختبار تشخيصي مادة العلوم الصف الثالث الابتدائي نموذج (٣)

اسم الطالب/ة..... الفصل.....

اسم الطالب/ة..... الفصل.....

<table border="1"> <tr> <td>اجتاز</td> <td><input type="radio"/></td> </tr> <tr> <td>لم يجتاز</td> <td><input type="radio"/></td> </tr> </table>	اجتاز	<input type="radio"/>	لم يجتاز	<input type="radio"/>	<p>س ١ / اختار الإجابة الصحيحة :</p> <p>١- يغطي جسم الفتند أشواك حادة حتى :</p> <p>أ ) يحمي نفسه من أعدائه . ب ) يحفظ حرارة جسمه . ج ) يمسك بطعامه .</p>	<p>تحديد التكييفات التي تمكن المخلوق الحي من البقاء في بيئة معينة .</p>
اجتاز	<input type="radio"/>					
لم يجتاز	<input type="radio"/>					
<table border="1"> <tr> <td>اجتاز</td> <td><input type="radio"/></td> </tr> <tr> <td>لم يجتاز</td> <td><input type="radio"/></td> </tr> </table>	اجتاز	<input type="radio"/>	لم يجتاز	<input type="radio"/>	<p>س ٢ / انظر إلى الزرافة في الصورة :</p> <p>أي الحيوانات يتنافس مع الزرافة على الغذاء؟</p> <p>أ ) الخفافيش . ب ) الأعشاب . ج ) الحمار الوحشي .</p> 	<p>توضيح كيف تتنافس المخلوقات الحية المختلفة على الغذاء و الماء والماوى .</p>
اجتاز	<input type="radio"/>					
لم يجتاز	<input type="radio"/>					
<table border="1"> <tr> <td>اجتاز</td> <td><input type="radio"/></td> </tr> <tr> <td>لم يجتاز</td> <td><input type="radio"/></td> </tr> </table>	اجتاز	<input type="radio"/>	لم يجتاز	<input type="radio"/>	<p>س ٣ / حدد أي مما يلي جزء النبات الذي ينبت لينمو ويصير نباتاً جديداً ؟</p> 	<p>التعرف على دورات حياة أنواع مختلفة من النباتات</p>
اجتاز	<input type="radio"/>					
لم يجتاز	<input type="radio"/>					

س ٤ / ضع دائرة حول الإجابة الصحيحة , تمثل هذه الصورة :



أ ) فحم حجري .

ب ) أحفورة حيوانية .

ج ) نبات .

وصف تكون الأحافير

اجتاز	0
لم يجتاز	0

س ٥ / حوِّط الإجابة الصحيحة :

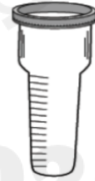
١ - التربة الغنية بالدبال يكون لونها :

( بنيًا غامقًا - بيضاء - أحمر )

المقارنة بين أنواع مختلفة من التربة .

اجتاز	0
لم يجتاز	0

س ٦ / أي مما يأتي يستخدم في قياس درجة الحرارة :



وصف خصائص الطقس المختلفة .

اجتاز	0
لم يجتاز	0

مديرة المدرسة:

اسم المعلمة:

المشرفة التربوية:

\*يرجى الاحتفاظ بالشواهد في ملف خاص بالمعلمة

