

تم تحميل هذا الملف من موقع المناهج السعودية



موقع المناهج السعودي

* للحصول على أوراق عمل لجميع الصفوف وجميع المواد اضغط هنا

<https://www.almanahj.com/sa>

* للحصول على أوراق عمل لجميع مواد الصف الثالث اضغط هنا

<https://almanahj.com/sa/3>

* للحصول على جميع أوراق الصف الثالث في مادة رياضيات ولجميع الفصول, اضغط هنا

<https://almanahj.com/sa/3math>

* للحصول على أوراق عمل لجميع مواد الصف الثالث في مادة رياضيات الخاصة بـ الفصل الثاني اضغط هنا

<https://www.almanahj.com/sa/3math2>

* لتحميل كتب جميع المواد في جميع الفصول للـ الصف الثالث اضغط هنا

<https://www.almanahj.com/sa/grade3>

للحصول على جميع روابط الصفوف على تلغرام وفيسبوك من قنوات وصفحات: اضغط هنا

<https://t.me/sacourse>


ورقة عمل: المساحة + وحدات السعة

الاسم :

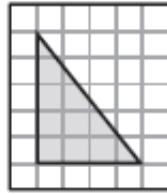
الصف : الثالث

الأربعاء ٩ / ٧ / ١٤٤١ هـ

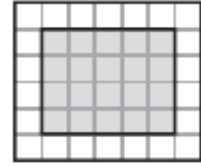
أجِدْ مِسَاحَةَ كُلِّ شَكْلِ مِمَّا يَأْتِي:



٣



٢




١


.....

.....

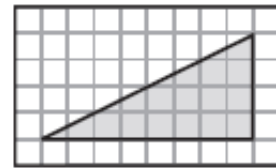
.....



٦



٥



٤

.....

.....

.....

أَخْتَارُ الْوَحْدَةَ الْأَنْسَبَ (اللِّتْرَ، الْمِلِّيْتْرَ): لِقِيَاسِ سَعَةِ كُلِّ مِمَّا يَأْتِي:

١ قَارُورَةُ مَاءٍ كَبِيرَةٍ

٢ الْمَاءُ فِي بَرْكَةِ سِبَاحَةٍ

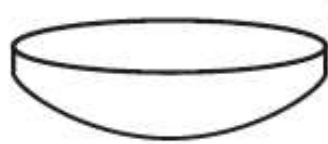
٣ عُلْبَةٌ حَلِيبٍ صَغِيرَةٍ

٤ كُوبِ شَايٍ

أَخْتَارُ التَّقْدِيرَ الْأَنْسَبَ لِسَعَةِ كُلِّ مِمَّا يَلِي:



٧



٦



٥

٣٠٠ مل أم ٣٠٠٠ ل

٢ مل أم ٢ ل

١٥٠ مل أم ١٥٠ ل