

شكراً لتحميلك هذا الملف من موقع المناهج السعودية



اختبار نهائي الدور الأول مع الترويسة

[موقع المناهج](#) ← [المناهج السعودية](#) ← [الصف الثالث](#) ← [علوم](#) ← [الفصل الثالث](#) ← [الملف](#)

التواصل الاجتماعي بحسب الصف الثالث



روابط مواد الصف الثالث على تلغرام

[الرياضيات](#)

[اللغة الانجليزية](#)

[اللغة العربية](#)

[التربية الاسلامية](#)

المزيد من الملفات بحسب الصف الثالث والمادة علوم في الفصل الثالث

أسئلة مراجعة عامة محلولة	1
أسئلة اختبار نهائي الدور الأول	2
نموذج إجابة اختبار نهائي الدور الأول	3
أسئلة اختبار نهائي الدور الأول	4
اختبار نهائي الدور الأول مع نموذج الإجابة	5

الصف: ثالث ابتدائي
اليوم:
التاريخ: / / ١٤٤٤ هـ
الزمن: ساعة ونصف فقط



المملكة العربية السعودية
وزارة التعليم
إدارة تعليم منطقة تبوك

اختبار نهاية الفصل الدراسي الثالث (الدور الأول)

مادة **العلوم** للصف الثالث ابتدائي

للعام الدراسي ١٤٤٤ هـ

اسم الطالبة :
رقم الجلوس :

رقم السؤال	الدرجة رقما	الدرجة كتابة	المصححة	المراجعة	المدققة
السؤال الأول					
السؤال الثاني					
السؤال الثالث					

درجة الاختبار النهائية: فقط لا غير من ٤٠ درجة







النجاح ليس إنجازاً بقدر ما هو قدرة مستمرة على الإنجاز





السؤال الأول: اختاري الإجابة الصحيحة في كلا مما يلي:

١٠

١- الأداة التي تستخدم لقياس الكتلة هي:

أ		ب		ج		د	
---	---	---	---	---	---	---	---





٢- تمثل جسيمات المادة الغازية:

أ		ب		ج		د	
---	---	---	---	---	---	---	---





٣- الأداة المستخدمة لفصل مخلوط من الأرز والدقيق هي:

أ		ب		ج		د	
---	---	---	--	---	---	---	---





٤- أي التغيرات التالية تغير كيميائي:

أ		ب		ج		د	
---	---	---	--	---	---	---	---





٥- الآلة البسيطة التي تدخل في صناعة المصعد الكهربائي هي:

أ		ب		ج		د	
---	---	---	--	---	---	---	---

٦- يمثل تحول الطاقة الكهربائية إلى صوتية:

أ		ب		ج		د	
---	---	---	--	---	---	---	---

٧- أي أصوات الحيوانات التالية حاد؟

أ		ب		ج		د	
---	---	---	--	---	---	---	---

٨- ماذا يحدث إذا سقط الضوء على مرآة؟

أ	ينعكس	ب	ينكسر	ج	يمتص	د	ينتشت
---	-------	---	-------	---	------	---	-------

٩- يعد ورق الالمونيوم:

أ	جسم شفاف	ب	جسم غير شفاف	ج	جسم شبه شفاف	د	ظل
---	----------	---	--------------	---	--------------	---	----

١٠- تصدر الأصوات عن الشيء عندما:

أ	يتأرجح	ب	ينقلب	ج	يهتز	د	ينتثي
---	--------	---	-------	---	------	---	-------

السؤال الثاني:

أ- ضعي المصطلحات التالية في مكانها المناسب:

(الاجسام الشفافة - الشغل - المحلول - التغير الكيميائي - المادة - السائل)

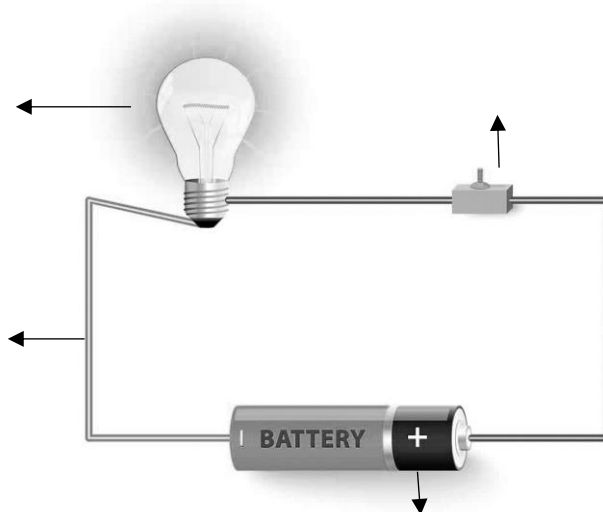
- ١- (.....) كل شي له كتلة ويشغل حيزاً.
- ٢- (.....) اجسام تسمح بنفاذ معظم الضوء من خلالها في خطوط مستقيمة.
- ٣- (.....) تغير ينتج عنه مواد جديدة.
- ٤- (.....) القوة المبذولة لتحريك جسم ما مسافة معينة.
- ٥- (.....) نوع من أنواع المخاليط تمتزج فيه المواد امتزاج تام.
- ٦- (.....) مادة لها حجم ثابت وشكل غير ثابت.

ب- ضعي علامة (✓) او (✗) امام العبارات التالية:

١	العناصر هي وحدة بناء المادة.
٢	تصنع اسلاك الكهرباء من النحاس لأنها جيدة التوصيل.
٣	المادة التي تنتشر هي المادة الصلبة.
٤	التغير الفيزيائي تغير يحدث في شكل المادة دون ان ينتج مادة جديدة.
٥	الاجسام الشفافة لا تسمح بنفاذ الضوء من خلالها.
٦	المادة الصلبة لها شكل وحجم ثابت.
٧	يقاس حجم السوائل باستخدام المخبر المدرج.
٨	الصوت والضوء من اشكال الطاقة.
٩	يعرف المسار المغلق الذي تسلكه الكهرباء بالدائرة الكهربائية
١٠	ينتقل الصوت في الفضاء.

ج- ضعي البيانات التالية في اماكنها الصحيحة:

(مصباح - مفتاح كهربائي - اسلاك - بطارية)



السؤال الثالث:

رقمي العمود الاخر بما يناسبه في العمود الأول:

١٠

	
	
	
	
	
	
	
الكيلوجرام	
	
اللمتر	

١	يحول الطاقة الكهربائية الى حركية
٢	عضو السمع في الانسان
٣	البرغي
٤	يبذل شغلاً
٥	انكسار الضوء
٦	وحدة قياس الحجم
٧	العجلة والمحور
٨	لا يبذل شغلاً
٩	وحدة قياس الكتلة
١٠	مادة غازية

انتهت الاسئلة
دعواتي لكن بالتوفيق والنجاح
العلمة: أمل الزهراني