

تم تحميل هذا الملف من موقع المناهج السعودية

الملف اختبار الفترة الخامسة مع الحل

[موقع المناهج](#) ⇨ [المناهج السعودية](#) ⇨ [الصف الثالث](#) ⇨ [رياضيات](#) ⇨ [الفصل الثالث](#)

الملف اختبار الفترة الخامسة مع الحل

[موقع المناهج](#) ⇨ [المناهج السعودية](#) ⇨ [الصف الثالث](#) ⇨ [رياضيات](#) ⇨ [الفصل الثالث](#)

المزيد من الملفات بحسب الصف الثالث والمادة رياضيات في الفصل الثالث

<a href="#">تحضير عين لدروس الفصل الثالث</a>	1
<a href="#">أوراق عمل للفصل الدراسي الثالث</a>	2
<a href="#">اختبار تكويني مع نموذج إجابة</a>	3
<a href="#">ورقة عمل المساحة ووحدات السعة</a>	4
<a href="#">اختبار قياس وحدة الأشكال الهندسية</a>	5



## اختبار الفترة الأولى مادة الرياضيات للصف الثالث الابتدائي



الفصل: .....

اسم الطالب/ة: .....

٢٠

### السؤال الأول: اجب عن ما يلي :

• اختر الوحدة الأنسب لقياس الأشياء الآتية :

	١. كتلة حبة فراولة ( <b>جرام</b> - كيلوجرام )
	٢. سعة حوض سمك ( <b>لتر</b> - مللتر )
	٣. طول قلم حبر ( مللتر - <b>سنتيمتر</b> - متر - كيلومتر )
	٤. كتلة طفل ( <b>كيلوجرام</b> - جرام )
	٥. سعة ملعقة ( <b>مللتر</b> - لتر )
	٦. طول غرفة الصف ( مللتر - سنتيمتر - <b>متر</b> - كيلومتر )
	٧. طول المسافة بين الرياض وحائل ( <b>كيلومتر</b> - سنتيمتر - متر )
	٨. طول نملة ( <b>مللتر</b> - سنتيمتر - متر - كيلومتر )

• أوجد ما يلي :


الحجم = <b>٥</b> ..... وحدة مكعبة	المساحة = <b>٩</b> ..... وحدة مربعة	المحيط = <b>١٦</b> ..... سم

• اكتب الزمن الذي تُشير إليه ساعة العقارب :

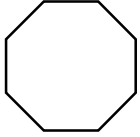


**١٠ : ١٠**

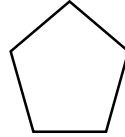
• اكمل الفراغ :

عدد الرؤوس	عدد الأحرف	عدد الأوجه	اسم الجسم	الجسم
.....	.....	..... ٢ .....	..... اسطوانة .....	

• اسم الشكل المستوي



..... شكل ثماني



..... شكل خماسي

• اكمل الجدول :

عدد محاور التماثل	هل له محور تماثل	الشكل
.....	( نعم - لا )	