

تم تحميل هذا الملف من موقع المناهج السعودية



الملف نموذج إجابة اختبار نهائي الدور الأول

[موقع المناهج](#) ← [المناهج السعودية](#) ← [الصف الثالث](#) ← [علوم](#) ← [الفصل الثالث](#)

المزيد من الملفات بحسب الصف الثالث والمادة علوم في الفصل الثالث

أسئلة اختبار نهائي الدور الأول	1
اختبار نهائي الدور الأول مع نموذج الإجابة	2
اختبار نهائي الدور الأول	3
نموذج إجابة اختبار نهائي الدور الأول	4
اختبار نهائي الدور الأول مع الترويسة	5

الصف: ثالث ابتدائي
اليوم:
التاريخ: / / ١٤٤٤ هـ
الزمن: ساعة ونصف فقط



المملكة العربية السعودية
وزارة التعليم
إدارة تعليم منطقة تبوك

نموذج اجابة

اختبار نهاية الفصل الدراسي الثالث (الدور الأول)

مادة العلوم للصف الثالث ابتدائي

للعام الدراسي ١٤٤٤ هـ

اسم الطالبة : رقم الجلوس :

رقم السؤال	الدرجة رقما	الدرجة كتابة	المصححة	المراجعة	المدققة
السؤال الأول					
السؤال الثاني					
السؤال الثالث					

درجة الاختبار النهائية: فقط لا غير من ٤٠ درجة







النجاح ليس إنجازاً بقدر ما هو قدرة مستمرة على الإنجاز





السؤال الأول: اختاري الإجابة الصحيحة في كلا مما يلي:

١٠

١- الأداة التي تستخدم لقياس الكتلة هي:

أ		ب		ج		د	
---	-------------------------------------------------------------------------------------	---	-----------------------------------------------------------------------------------	---	-----------------------------------------------------------------------------------	---	-----------------------------------------------------------------------------------





٢- تمثل جسيمات المادة الغازية:

أ		ب		ج		د	
---	-------------------------------------------------------------------------------------	---	-----------------------------------------------------------------------------------	---	-----------------------------------------------------------------------------------	---	-----------------------------------------------------------------------------------





٣- الأداة المستخدمة لفصل مخلوط من الأرز والدقيق هي:

أ		ب		ج		د	
---	-------------------------------------------------------------------------------------	---	------------------------------------------------------------------------------------	---	-----------------------------------------------------------------------------------	---	-----------------------------------------------------------------------------------





٤- أي التغيرات التالية تغير كيميائي:

أ		ب		ج		د	
---	-------------------------------------------------------------------------------------	---	------------------------------------------------------------------------------------	---	-----------------------------------------------------------------------------------	---	-----------------------------------------------------------------------------------





٥- الآلة البسيطة التي تدخل في صناعة المصعد الكهربائي هي:

أ		ب		ج		د	
---	---------------------------------------------------------------------------------------	---	--------------------------------------------------------------------------------------	---	-------------------------------------------------------------------------------------	---	-------------------------------------------------------------------------------------

٦- يمثل تحول الطاقة الكهربائية إلى صوتية:

أ		ب		ج		د	
---	---------------------------------------------------------------------------------------	---	--------------------------------------------------------------------------------------	---	-------------------------------------------------------------------------------------	---	-------------------------------------------------------------------------------------

٧- أي أصوات الحيوانات التالية حاد؟

أ		ب		ج		د	
---	---------------------------------------------------------------------------------------	---	--------------------------------------------------------------------------------------	---	-------------------------------------------------------------------------------------	---	-------------------------------------------------------------------------------------

٨- ماذا يحدث إذا سقط الضوء على مرآة؟

أ	ينعكس	ب	ينكسر	ج	يمتص	د	ينتشت
---	-------	---	-------	---	------	---	-------

٩- يعد ورق الالمونيوم:

أ	جسم شفاف	ب	جسم غير شفاف	ج	جسم شبه شفاف	د	ظل
---	----------	---	--------------	---	--------------	---	----

١٠- تصدر الأصوات عن الشيء عندما:

أ	يتأرجح	ب	ينقلب	ج	يهتز	د	ينتثي
---	--------	---	-------	---	------	---	-------

السؤال الثاني:

أ- ضعي المصطلحات التالية في مكانها المناسب:

(الاجسام الشفافة - الشغل - المحلول - التغير الكيميائي - المادة - السائل)

١- (**المادة**) كل شي له كتلة ويشغل حيزاً.

٢- (**الاجسام الشفافة**) اجسام تسمح بنفاذ معظم الضوء من خلالها في خطوط مستقيمة.

٣- (**التغير الكيميائي**) تغير ينتج عنه مواد جديدة.

٤- (**الشغل**) القوة المبذولة لتحريك جسم ما مسافة معينة.

٥- (**المحلول**) نوع من أنواع المخاليط تمتزج فيه المواد امتزاج تام.

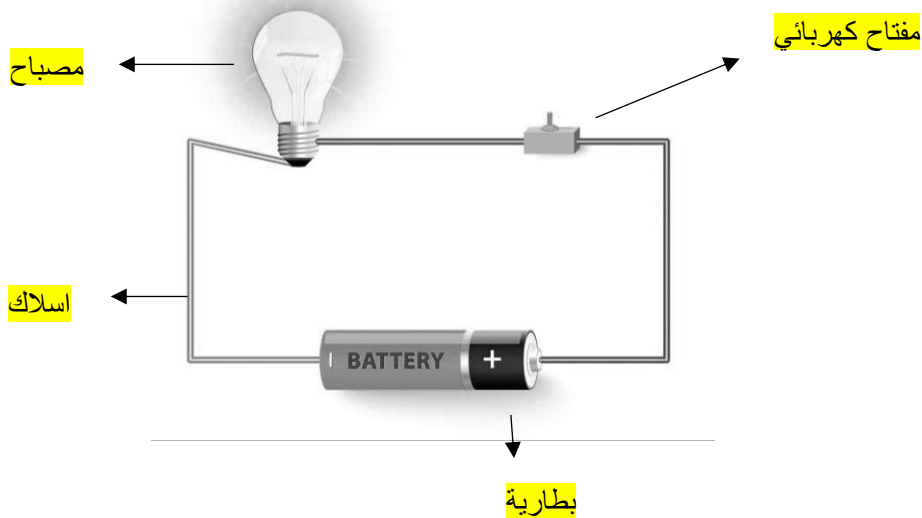
٦- (**السائل**) مادة لها حجم ثابت وشكل غير ثابت.

ب- ضعي علامة (✓) او (✗) امام العبارات التالية:

✓	العناصر هي وحدة بناء المادة.	١
✓	تصنع اسلاك الكهرباء من النحاس لأنها جيدة التوصيل.	٢
✗	المادة التي تنتشر هي المادة الصلبة.	٣
✓	التغير الفيزيائي تغير يحدث في شكل المادة دون ان ينتج مادة جديدة.	٤
✗	الاجسام الشفافة لا تسمح بنفاذ الضوء من خلالها.	٥
✗	المادة الصلبة لها شكل وحجم ثابت.	٦
✓	يقاس حجم السوائل باستخدام المخبر المدرج.	٧
✓	الصوت والضوء من اشكال الطاقة.	٨
✓	يعرف المسار المغلق الذي تسلكه الكهرباء بالدائرة الكهربائية	٩
✗	ينتقل الصوت في الفضاء.	١٠

ج- ضعي البيانات التالية في اماكنها الصحيحة:

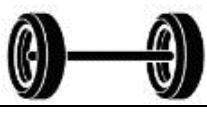
(مصباح - مفتاح كهربائي - اسلاك - بطارية)



السؤال الثالث:

رقمي العمود الاخر بما يناسبه في العمود الأول:

١٠

	٢
	١٠
	٨
	١
	٣
	٥
	٤
الكيلوجرام	٩
	٧
اللمتر	٦

١	يحول الطاقة الكهربائية الى حركية
٢	عضو السمع في الانسان
٣	البرغي
٤	يبذل شغلاً
٥	انكسار الضوء
٦	وحدة قياس الحجم
٧	العجلة والمحور
٨	لا يبذل شغلاً
٩	وحدة قياس الكتلة
١٠	مادة غازية

انتهت الاسئلة
دعواتي لكن بالتوفيق والنجاح
العلمة: أمل الزهراني