

شكراً لتحميلك هذا الملف من موقع المناهج السعودية



اختبار نهائي الدور الثاني

[موقع المناهج](#) ← [المناهج السعودية](#) ← [الصف الثالث](#) ← [علوم](#) ← [الفصل الثاني](#) ← [الملف](#)

تاريخ نشر الملف على موقع المناهج: 2023-01-25 04:50:19

التواصل الاجتماعي بحسب الصف الثالث



المزيد من الملفات بحسب الصف الثالث والمادة علوم في الفصل الثاني

نموذج إجابة اختبار نهائي	1
اختبار نهائي الدور الأول	2
اختبار نهائي الدور الأول قابل للتعديل	3
كليشة اختبار جديدة	4
ملخص شامل للدروس	5

الصف: ثالث ابتدائي
اليوم:
التاريخ: / / ١٤٤٤ هـ
الزمن: ساعة ونصف فقط



المملكة العربية السعودية
وزارة التعليم
إدارة تعليم منطقة تبوك

اختبار نهاية الفصل الدراسي الثاني (الدور الأول)

مادة **العلوم** للصف الثالث ابتدائي

للعام الدراسي ١٤٤٤ هـ

اسم الطالبة :
رقم الجلوس :

رقم السؤال	الدرجة رقما	الدرجة كتابة	المصححة	المراجعة	المدققة
السؤال الأول					
السؤال الثاني					
السؤال الثالث					

درجة الاختبار النهائية : فقط لا غير من ٤٠ درجة



اعمل بجد في صمت .. ودع النجاح يحدث ضجيجاً

السؤال الأول:


أ- اختاري الإجابة الصحيحة في كلاً مما يلي:

١- حركة فجائية لصخور القشرة الأرضية.							
أ	البركان	ب	الزلازل	ج	التعرية	د	الترسيب
٢- من أسباب حدوث التعرية:							
أ	الشمس	ب	الرياح	ج	درجة الحرارة	د	الصهارة
٣- بقايا أو آثار مخلوقات حية عاشت في الماضي البعيد.							
أ	اللابة	ب	المياه الجوفية	ج	الاحفورة	د	التجوية
٤- من الموارد الغير متجددة:							
أ	الشمس	ب	الرياح	ج	الوقود الاحفوري	د	المياه
٥- عاصفة قوية مصحوبة برياح وامطار وتتكون فوق المحيطات:							
أ	عاصفة رملية	ب	عاصفة ثلجية	ج	إعصار حلزوني	د	التجوية
٦- فتحة في القشرة الأرضية تندفع منها الصهارة.							
أ	البركان	ب	الزلازل	ج	التعرية	د	التعرية
٧- أحد أنماط الطقس القاسي وهي عاصفة مصحوبة بالثلج والرياح القوية:							
أ	عاصفة رملية	ب	عاصفة رعديّة	ج	عاصفة ثلجية	د	إعصار حلزوني
٨- حالة الطقس في مكان معين على فترة زمنية طويلة.							
أ	التربة	ب	المناخ	ج	الوقود الاحفوري	د	الترسيب
٩- يسمى كل من الشتاء والربيع والصيف والخريف ب.....							
أ	دورة الماء	ب	فصول السنة	ج	التكثف	د	الغيوم
١٠- مورد طبيعي متجدد:							
أ	الفحم	ب	الرياح	ج	النفط	د	الغاز طبيعي

السؤال الثاني:

أ- رتب طبقات التربة التالية:

(الطبقة الصخرية - طبقة التربة السطحية - طبقة التربة تحت السطحية)



(.....)

(.....)

(.....)

ب- ضع الكلمة المناسبة في مكانها المناسب:

(مشمس - غائم جزئي - غائم - ماطر)



.....



.....




.....



.....

ج- أكمل بيانات دورة الماء التالية بما يناسبها:

(التبخر - التكثف - الهطول)



السؤال الثالث:

أ- ضعي المصطلحات التالية في مكانها المناسب:

(طاقة الشمس - التربة - التجوية - التعرية - دورة الماء)

- ١- (.....) هي تفتت الصخور الى أجزاء صغيرة.
- ٢- (.....) مخلوط من المعادن وفتات الصخور وبقايا نباتات وحيوانات متحللة.
- ٣- (.....) هي نقل فتات الصخور الى أماكن أخرى.
- ٤- (.....) حركة الماء المستمرة بين سطح الأرض والغلاف الجوي.
- ٥- (.....) طاقة نحصل عليها من الشمس.

ب- ضعي علامة (✓) او (✗) امام العبارات التالية:

١	الوقود مادة يتم حرقها للحصول على طاقة.
٢	الطبقة الصخرية تحتوي على الكثير من الدبال.
٣	يستخدم الترمومتر لقياس درجة الحرارة.
٤	الترسيب هو عملية تجمع فتات الصخور في أماكن مختلفة.
٥	من اشكال الهطول (مطر- ثلج - برد) .
٦	الدبال هو بقايا نباتات وحيوانات متحللة.
٧	تسمى عملية تحول الغاز الى سائل بالتكثف.
٨	التربة الطينية لا تحتفظ بالماء.
٩	البراكين والزلازل من العمليات البطيئة.
١٠	العاصفة الثلجية تحدث في فصل الصيف.

ج- صني أدوات القياس التالية :

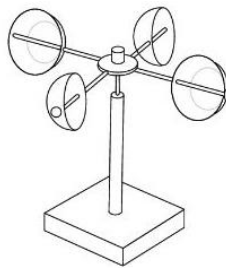
(كمية المطر - سرعة الرياح - درجة الحرارة - الضغط الجوي - اتجاه الرياح)



مقياس




مقياس



مقياس



مقياس



مقياس

انتهت الاسئلة

دعواتي لكن بالتوفيق والنجاح

العلمة: أمل الزهراني