

تم تحميل هذا الملف من موقع المناهج السعودية

almanahj.com/sa
موقع
المناهج السعودية

الملف اختبار الفترة الأولى

[موقع المناهج](#) ← [المناهج السعودية](#) ← [الصف السادس](#) ← [اجتماعيات](#) ← [الفصل الثالث](#)

روابط مواقع التواصل الاجتماعي بحسب الصف السادس



روابط مواد الصف السادس على تلغرام

[الرياضيات](#)

[اللغة الانجليزية](#)

[اللغة العربية](#)

[التربية الاسلامية](#)

المزيد من الملفات بحسب الصف السادس والمادة اجتماعيات في الفصل الثالث

اختبار أعمال السنة دراسات اجتماعية	1
نماذج اختبارات نهائية مع نماذج الإجابة	2
مجموعة اختبارات نهائية مع نموذج الإجابة	3
ملخص وخرائط مفاهيم	4
اختبار نهائي الدور الأول	5

اختبار الفترة لمادة العلوم للصف الثالث ابتدائي الفصل الدراسي الأول

٢٠

اسم الطالبة:

اخترى الإجابة الصحيحة:



١- وحدة بناء اجسام جميع المخلوقات الحية هي:

أ	الهواء	ب	الخلايا	ج	الماء	د	الغذاء
---	--------	---	---------	---	-------	---	--------

٢- تثبت النباتات وتمتص الماء والاملاح المعدنية من التربة:

أ	الأوراق	ب	الساق	ج	الجزور	د	الازهار
---	---------	---	-------	---	--------	---	---------

٣- جزء في النبات يحمل داخله البذور:

أ	الساق	ب	الأوراق	ج	الثمرة	د	الجزور
---	-------	---	---------	---	--------	---	--------

٤- يسمى انتقال حبوب اللقاح من الجزء الذكري الى الجزء الانثوي بـ:

أ	البناء الضوئي	ب	البذرة	ج	التلقيح	د	دورة الحياة
---	---------------	---	--------	---	---------	---	-------------

٥- الجزء الذي يقوم بصنع الغذاء عن طريق عملية البناء الضوئي :

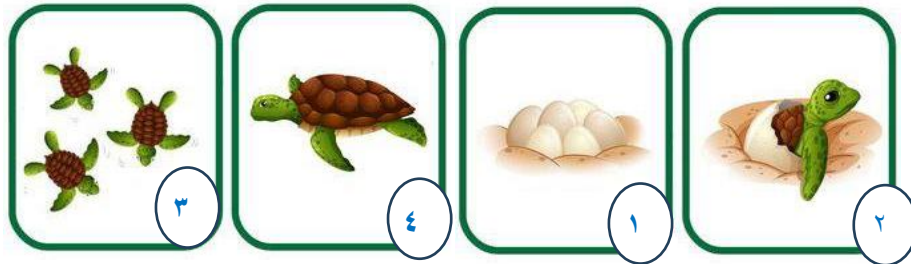
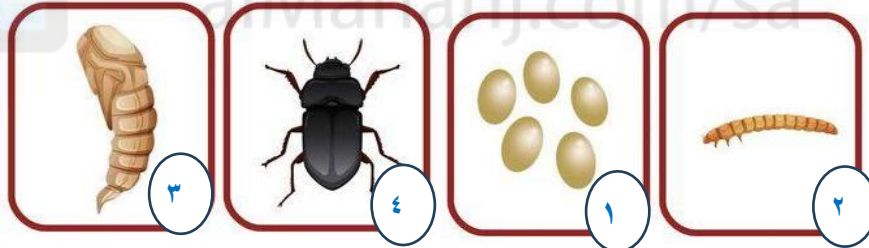
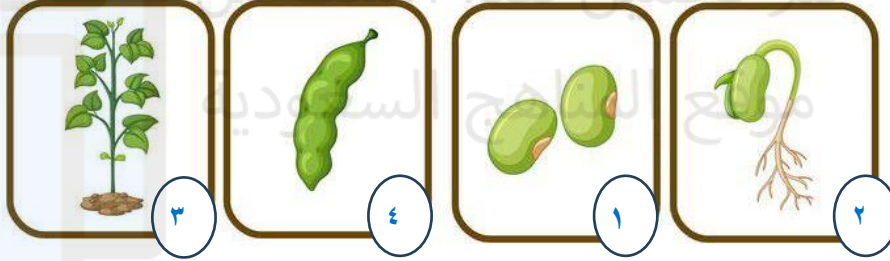
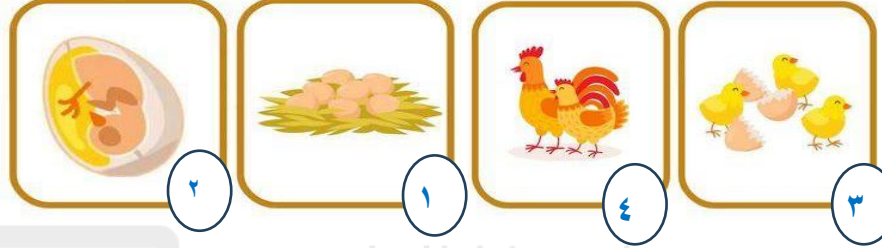

أ	الأوراق	ب	الساق	ج	الجزور	د	الازهار
---	---------	---	-------	---	--------	---	---------

ضعي علامة ✓ او ✗ امام العبارات التالية:



١- المخلوقات الحية تنمو وتستجيب وتتكاثر.	✓
٢- بعض الحيوانات يتغير شكلها في اثناء دورة حياتها ويسمى ذلك التحول.	✓
٣- يبدأ الجمل حياة بيضية.	✗
٤- يمر الضفدع بدورة حياة بالتحول.	✓
٥- النباتات التي لها ازهار تسمى بالنباتات الزهرية.	✓

رتبى دورة حياة المخلوقات الحية التالية:



انتهت الأسئلة

دعواتي لكن بالتوفيق والنجاح

العلمة: أمل الزهراني