

تم تحميل هذا الملف من موقع المناهج السعودية



الملف ورقة عمل المساحة و وحدات السعة

[موقع المناهج](#) ← [المناهج السعودية](#) ← [الصف الثالث](#) ← [رياضيات](#) ← [الفصل الثالث](#)

الملف ورقة عمل المساحة و وحدات السعة

[موقع المناهج](#) ← [المناهج السعودية](#) ← [الصف الثالث](#) ← [رياضيات](#) ← [الفصل الثالث](#)

المزيد من الملفات بحسب الصف الثالث والمادة رياضيات في الفصل الثالث

تحضير عين لدروس الفصل الثالث	1
أوراق عمل للفصل الدراسي الثالث	2
اختبار تكويني مع نموذج إجابة	3

ورقة عمل: المساحة + وحدات السعة


الاسم :

الصف : الثالث

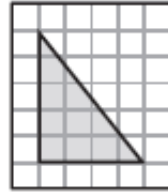
التاريخ

/ / ١٤٤٣ هـ

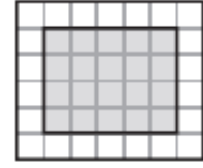
أجِدْ مِسَاحَةَ كُلِّ شَكْلِ مِمَّا يَأْتِي:



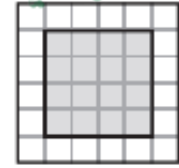
٣




٢



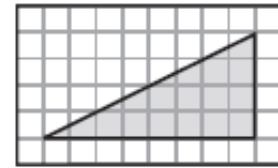
١



٦



٥



٤

.....

.....

.....

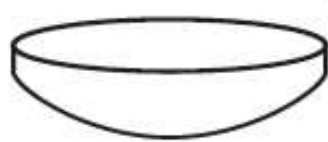
أَخْتَارُ الْوَحْدَةَ الْأَنْسَبَ (اللِّتْرَ، الْمِلِلْتْرَ)؛ لِقِيَاسِ سَعَةِ كُلِّ مِمَّا يَأْتِي:

- ١ قَارُورَةَ مَاءٍ كَبِيرَةٍ
- ٢ الْمَاءِ فِي بَرَكَةِ سِبَاحَةٍ
- ٣ عُلْبَةَ حَلِيبٍ صَغِيرَةٍ
- ٤ كُوبِ شَايٍ

أَخْتَارُ التَّقْدِيرَ الْأَنْسَبَ لِسَعَةِ كُلِّ مِمَّا يَلِي:



٧



٦



٥

٣٠٠ مل أم ٣٠٠ ل

٢ مل أم ٢ ل

١٥٠ مل أم ١٥٠ ل