

## روابط مجموعات المناهج السعودية

كل ما يحتاجه الطالب في جميع الصفوف من أوراق عمل واختبارات ومذكرات, يجده هنا في الروابط التالية لأفضل مواقع المناهج السعودية:

القناة الرسمية لموقع المناهج السعودية : [www.almanahj.com/sa](http://www.almanahj.com/sa)

### روابط مجموعات الواتساب

[الصف الأول الابتدائي](#)

[الصف الثاني الابتدائي](#)

[الصف الثالث الابتدائي](#)

[الصف الرابع الابتدائي](#)

[الصف الخامس الابتدائي](#)

[الصف السادس الابتدائي](#)

[الصف الأول متوسط](#)

[الصف الثاني متوسط](#)

[الصف الثالث متوسط](#)

[الصف الأول الثانوي](#)

[الصف الثاني الثانوي العلمي](#)

[الصف الثاني الثانوي الأدبي](#)

[الصف الثالث الثانوي العلمي](#)

[الصف الثالث الثانوي الأدبي](#)

[مجموعة أخبار التربية](#)

### روابط قنوات التلغرام

[الصف الأول](#)

[الصف الثاني](#)

[الصف الثالث](#)

[الصف الرابع](#)

[الصف الخامس](#)

[الصف السادس](#)

[الصف الأول متوسط](#)

[الصف الثاني متوسط](#)

[الصف الثالث متوسط](#)

[الصف الأول الثانوي](#)

[الصف الثاني الثانوي الأدبي](#)

[الصف الثاني الثانوي العلمي](#)

[الصف الثالث الثانوي الأدبي](#)

[الصف الثالث الثانوي العلمي](#)

[المناهج السعودية](#)

بسم الله الرحمن الرحيم

المادة/ رياضيات.

الصف/ الثالث الابتدائي

الموضوع/ الانماط العددية.

التاريخ/.....

الاسم/.....

الحصة/.....

حدد النمط ثم اكتبى العدد مكان النقط .

20 ، ... ، 30 ،  
50 ، 40

14 ، 12 ، 10 ،  
20 ، ... ، 16 ،

120 ، 110 ، 100  
000 ، 000 ،

توقيع ولي الأمر :  
.....

لم تتقن

أتقنت

توقيع المعلم:  
.....

بسم الله الرحمن الرحيم

المادة/ رياضيات.

الصف/ الثالث الابتدائي

الموضوع/ مهارة حل مسألة.

التاريخ/.....

الاسم/.....


الحصة/.....

حل المسألة التالية باستعمال الخطوات الأربع لحل  
المسألة.


قرأت روان كتابا يزيد 24 صفحة على  
صفحات كتاب ايمان . اذا حوى كتاب ايمان  
12 صفحة فما عدد صفحات كتاب روان ؟

almanahj.com/sa

توقيع ولي الأمر:



لم تتقن



أتقنت

توقيع المعلم:

المادة/ رياضيات.

الصف/ الثالث الابتدائي

الموضوع/ القيمة المنزلية ضمن الألف.

التاريخ/.....

الاسم/.....

الحصة/.....

حدد اسم منزلة الرقم الذ تحته خط في كل مما  
يأتي . ثم اكتب قيمته المنزلية .

670

8509

4810

توقيع ولي الأمر:

لم تتفن

تقنت

توقيع اسم:

المكانة / رياضيات.

المكانة / رياضيات.

الموضوع / القيمة المنزلية ضمن عشرات الألوف. التاريخ / .....

الاسم / ..... الحصة / .....

: أكتب جميع الأعداد المكونة من ثلاثة  
ارقام بحيث يكون 5 في منزلة الآحاد و 3  
في منزلة العشرات .

الحل

.....  
.....  
.....  
.....  
.....  
.....  
.....  
.....  
.....  
.....

توقيع المعلم: .....  
أُتقنت .....  
لم تتقن .....  
توقيع ولي الأمر: .....

الموضوع / مقارنة الأعداد.  
التاريخ /  
الاسم /  
الحصة /  
[almanahj.com/sa](http://almanahj.com/sa)

- قارن بوضع الإشارة < أو > أو = .


.....

657.....765




.....

99.....99




.....

1000.....999




توقيع ولي الأمر:

.....



لم تتقن



أتقنت

توقيع المعلم:

.....

بسم الله الرحمن الرحيم

المادة/ رياضيات.

الصف/ الثالث الابتدائي

الموضوع/ ترتيب الأعداد.

الاسم/.....

التاريخ/.....

الحصة/.....

اشترى أبو أحمد ثلاجة وغسالة وفرنًا

أيها أغلى ثمنًا؟



.....

.....

.....

.....

.....

.....

.....

.....


.....

.....


.....

توقيع ولي الأمر:

.....



لم تتقن



أتقنت

توقيع المعلم:

.....

المادة/ رياضيات. **الصف/ الثالث الابتدائي**  
الموضوع/ التقريب الى أقرب عشرة وإلى أقرب مئة. **التاريخ/.....**  
الاسم/..... **الحصة/.....**

**قرب كلا من الأعداد الآتية الى أقرب عشرة .**


58

685


62

almanahj.com/sa

توقيع ولي الأمر :  
.....



لم تتقن



أتقنت

توقيع المعلم:  
.....

المادة/ رياضيات. **الصف/ الثالث الابتدائي**  
الموضوع/ التقريب الى أقرب ألف. **التاريخ/.....**  
الاسم/..... **الحصة/.....**


**في مزرعة والد أحمد 1250 نخلة . قربي عدد النخيل الى أقرب**

# الحل


almanahj.com/sa

توقيع ولي الأمر:

.....



لم تتقن



أتقنت

توقيع المعلمة:

.....

...../ التاريخ

...../ الحصة

الموضوع/ خصائص الجمع.

...../ الاسم

- أوجد الناتج وحدد الخاصية :-

$$..... = (3 + 6) + 4$$


$$..... = 3 + (6 + 4)$$






توقيع ولي الأمر:

.....



لم تتقن



أتقنت

توقيع المعلم:

.....

...../التاريخ

...../الحصة

الموضوع/ تقدير نواتج الجمع

...../الاسم


قدر كم متسابقا اشترك في  
المهرجان الرياضي الصيفي .

سباق قطع المسافات		
ساعة الانطلاق	نوع السباق	عدد المشاركين
٩:٠٠ صباحا	فئتي	٧٩
١٠:٠٠ صباحا	فئتي	٥١


الغاية

توقيع ولي الأمر:

.....



لم تتقن



أتقنت

توقيع المعلم:

.....

المادة/ رياضيات.

الصف/ الثالث الابتدائي

الموضوع/ جمع الأعداد المكونة من رقمين .

التاريخ/.....

الاسم/.....

الحصة/.....

: إذا كان في الحديقة 13 طفلا يلعبون الكرة و 18 طفلا يلعبون بالأرجوحة . فما العدد الكلي للأطفال الذين يلعبون .

الحل

almanahj.com/sa

توقيع ولي الأمر:

لم تتقن

أتقنت

توقيع المعلم:

الموضوع/ جمع الأعداد المكونة من ثلاثة ارقام .

التاريخ/.....

الاسم/.....

الحصة/.....

- أوجد ناتج الجمع وتأكد من معقولية الجواب .

$17 + 164$

$255 + 156$

$7 + 22$

almanahj.com/sa

توقيع ولي الأمر:

لم تتقن

أتقنت

توقيع المعلم:

بسم الله الرحمن الرحيم

المادة/ رياضيات. الصف/ الثالث الابتدائي

الموضوع/ طرح الأعداد المكونة من رقمين. التاريخ/.....

الاسم/..... الحصة/.....

: في الكيس 26 علبة عصير ، 8 علب  
منها بطعم الليمون ، ماعدد العلب  
بالطعوم الأخرى .

الحل


.....  
.....  
.....  
.....  
.....  
.....  
.....  
.....  
.....  
.....

توقيع المعلم: ..... أتقنت لم تتقن توقيع ولي الأمر: .....

المادة / رياضيات / الصف / الثالث الابتدائي  
الموضوع / تقدير نواتج الطرح / التاريخ / .....  
الاسم / ..... / الحصة / .....


**قرب كلا من الأعداد الآتية الى أقرب عشرة .**

49-72



.....

68-86



.....


199-322




.....

توقيع ولي الأمر:

.....



لم تتقن



أتقنت

توقيع المعلم:

.....

الموضوع / مهارة حل مسألة.

الموضوع / مهارة حل مسألة.

التاريخ /

الاسم /


الحصة /

قرأت روان كتابا يزيد 24 صفحة على  
صفحات كتاب ايمان . اذا حوى كتاب ايمان  
12 صفحة فما عدد صفحات كتاب روان ؟


الحل

توقيع ولي الأمر:

.....



لم تتقن



أتقنت

توقيع المعلم:

.....

بسم الله الرحمن الرحيم

المادة/ رياضيات. الصف/ الثالث الابتدائي

الموضوع/ طرح الاعداد المكونة من 3 ارقام مع إعادة التجميع. التاريخ/.....

الاسم/..... الحصة/.....

: أوجد ناتج الطرح . ثم تحقق من اجباتك .

167 - 542

198 - 317

637 - 856

توقيع ولي الأمر:

لم تتقن

أتقنت

توقيع المعلم:

بسم الله الرحمن الرحيم

المادة/ رياضيات. الصف/ الثالث الابتدائي

الموضوع/ الطرح مع وجود الأصفار التاريخ/.....

الاسم/..... الحصة/.....

216+400

226- 300

317 - 500

.....  
.....  
.....  
.....  
.....  
.....  
.....  
.....  
.....  
.....  
.....

.....  
.....  
.....  
.....  
.....  
.....  
.....  
.....  
.....  
.....  
.....

.....  
.....  
.....  
.....  
.....  
.....  
.....  
.....  
.....  
.....  
.....

almanahj.com/sa

توقيع ولي الأمر:

لم تتقن

أتقنت

توقيع المعلم:

المادة/ رياضيات.

الموضوع/ تحديد العملية المناسبة.

الصف/ الثالث الابتدائي

التاريخ/.....

الاسم/.....

الحصة/.....

: تحتاج سارة الى جمع 225 طابعا تذكاريًا  
للمشاركة في معرض المدرسة . فإذا جمعت حتى  
الآن 147 طابعا ، فكم طابعا ينقصها .



# الحل

.....  
.....  
.....  
.....  
.....  
.....  
.....  
.....

توقيع ولي الأمر:

لم تتقن

أتقنت

توقيع المعلم:

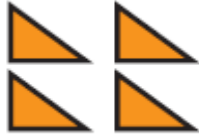

المادة / رياضيات

الموضوع / الشبكات و عملية الضرب

التاريخ / .....

الاسم / .....

أكتب جملة الضرب المناسبة :



.....  
.....  
.....  
.....  
.....  
.....  
.....  
.....

.....  
.....  
.....  
.....  
.....  
.....  
.....  
.....

.....  
.....  
.....  
.....  
.....  
.....  
.....  
.....

توقيع المعلم:

أتقنت

لم تتقن

توقيع ولي الأمر:

الموضوع/ الضرب في 2.

الاسم/.....

التاريخ/.....

الحصة/.....


- أجد ناتج الضرب مستعملا الشبكة أو الرسم إذا لزم الأمر

$$7 \times 2$$


$$9 \times 2$$

$$2 \times 10$$

توقيع ولي الأمر:



لم تتقن



أتقنت

توقيع المعلم:

بسم الله الرحمن الرحيم

المادة/ رياضيات.

الموضوع/ الضرب في 4.

الصف/ الثالث الابتدائي

التاريخ/.....

الاسم/.....

الحصة/.....

قرأ خالد 8 كتب . فإذا كان كل كتاب يتكون من

4 فصول ، فما عدد الفصول التي قراها خالد ؟

almanahj.com/sa

.....

.....

.....

.....

.....

.....


.....

.....


.....

.....

توقيع ولي الأمر:



لم تتقن



أتقنت

توقيع المعلم:

المادة/ رياضيات.  
الموضوع/ الضرب فى 5.  
الاسم/.....

الصف/ الثالث الابتدائى  
التاريخ/.....  
الحصة/.....

: أوجد ناتج الضرب مستعملا قطع العد أو الرسم إذا لزم الأمر :


$5 \times 8$

$10 \times 5$


$5 \times 4$

almanahj.com/sa

توقيع ولي الأمر:



لم تتقن



أتقنت

توقيع المعلم:

الصف/ الثالث الابتدائى  
التاريخ/.....  
الحصة/.....

المادة/ رياضيات.  
الموضوع/ الضرب فى 10.  
الاسم/.....

: أوجد ناتج الضرب مستعملا الأنماط او النماذج إذا لزم الأمر :

.....

$$= 5 \times 10$$

.....

$$= 7 \times 10$$

.....

$$= 6 \times 10$$

$$= 4 \times 10$$

توقيع ولي الأمر:  
.....



لم تتفن



أتقنت

توقيع المعلم:  
.....

الموضوع/ الضرب في الصفر وفي الواحد. التاريخ/.....  
الاسم/..... الحصة/.....

- أوجد ناتج الضرب :-

.....



$$= 0 \times 4$$

.....



$$= 7 \times 1$$

$$= 9 \times 0$$

توقيع ولي الأمر:

لم تتقن

أتقنت


توقيع المعلم:

المادة / رياضيات  
الموضوع / الضرب في 3  
الاسم / .....  
التاريخ / .....  
الحصة / .....


تنمو أوراق إحدى الأشجار على شكل مجموعات في كل  
منها 3 أوراق في كل غصن . ما عدد الأوراق الموجودة  
على 9 اغصان منها ؟

.....  
.....  
.....  
.....  
.....  
.....

توقيع ولي الأمر:



لم تتقن



أتقنت

توقيع المعلم:

التاريخ/.....  
الحصة/.....

الموضوع/ الضرب في 6  
الاسم/.....

- أوجد ناتج الضرب مستعملا النماذج أو رسم صورة إذا لزم الأمر :

.....

$$= 6 \times 5$$

.....

$$= 6 \times 7$$


.....

$$= 6 \times 8$$


.....

$$= 6 \times 9$$

توقيع ولي الأمر:



لم تتقن



أتقنت

توقيع المعلم:

بسم الله الرحمن الرحيم

المادة/ رياضيات.  
الموضوع/ خطة حل مسألة  
الاسم/.....  
الصف/ الثالث الابتدائي  
التاريخ/.....  
الحصة/.....

- زرعت ليلي 24 نبتة ورد وفق النمط : نبتة عباد الشمس ، يليها نبتتا ورد جورى . فإذا استمرت على هذا النمط فكم نبتة جورية قد زرعت ؟

الحل  
almanahj.com/sa

توقيع ولي الأمر:

لم تتقن

أتقنت

توقيع المعلم:

التاريخ/.....

الموضوع/ الضرب في 7

الحصة/.....

الاسم/.....



- أوجد ناتج الضرب مستعملا النماذج أو رسم صورة إذا لزم الأمر :

.....

$$= 6 \times 7$$

.....

$$= 8 \times 7$$

.....


$$= 5 \times 7$$

.....


$$= 7 \times 9$$

almanahj.com/sa

توقيع ولي الأمر:



لم تتقن



أتقنت

توقيع المعلم:

الصفحة / الثالث الابتدائي

المادة / رياضيات

التاريخ / .....

الموضوع / الضرب في 8

الحصة / .....

الاسم / .....

- أوجد ناتج الضرب مستعملا النماذج أو حقيقية ضرب معلومة إذا لزم الأمر :


.....

$$= 2 \times 8$$


.....

$$= 3 \times 8$$

توقيع ولي الأمر:



لم تتقن



أتقنت

توقيع المعلم:

المادة / رياضيات

الصف / الثالث الابتدائي

الموضوع / الضرب في 9

الاسم / .....

التاريخ / .....

الحصة / .....

- أوجد ناتج الضرب مستعملا النماذج أو الأنماط إذا لزم الأمر :


$$3 \times 9$$

$$1 \times 9$$


$$4 \times 9$$

توقيع ولي الأمر:

.....



لم تتقن



أتقنت

توقيع المعلم:

.....

..... التاريخ/

..... الحصة/

الموضوع/ الخاصة التجميعية

..... الاسم/

- يوجد 3 طاولات على كل منها 4

كتب ومع كل كتاب قلمان . ما عدد

الأقلام كلها ؟

الحل

.....

.....

.....

.....

.....

.....

.....

.....


.....

.....


.....

توقيع ولي الأمر:

.....



لم تتقن



أتقنت

توقيع المعلم:

.....