

شكراً لتحميلك هذا الملف من موقع المناهج السعودية



التهيئة للباب التاسع الأشكال الهندسية

[موقع المناهج](#) ← [المناهج السعودية](#) ← [الصف الثالث](#) ← [رياضيات](#) ← [الفصل الثالث](#) ← [الملف](#)

تاريخ نشر الملف على موقع المناهج: 12:41:32 2023-04-02

التواصل الاجتماعي بحسب الصف الثالث



المزيد من الملفات بحسب الصف الثالث والمادة رياضيات في الفصل الثالث

نموذج إجابة الاختبار التحريبي النهائي	1
اختبار تحريبي نهائي	2
نموذج إجابة مراجعة المنهج	3
أسئلة مراجعة شاملة للمنهج	4
مجموعة اختبارات نهائية مع نماذج الإجابة	5




التهيئة



أ. أحمد الأحمد
@ahmad9963

أجيب عن الأسئلة الآتية :

في كل من السؤالين (١ ، ٢) ، أحدد الشكل الذي يختلف عن الأشكال الأخرى ، ثم أوضح إجابتي :



الشكل ٤



الشكل ٣



الشكل ٢



الشكل ١



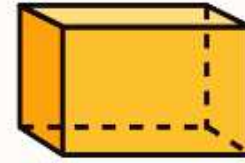
الشكل ٤



الشكل ٣



الشكل ٢



الشكل ١





مَعَ سُعَادَ صُنْدُوقٍ وَعُلبَةُ عَصِيرٍ وَوَرَقَةٌ، أَيُّ مِنْ هَذِهِ الْأَشْيَاءِ يَخْتَلِفُ عَنِ الْآخَرَيْنِ؟
أَوْضِّحْ إِجَابَتِي.

أ. أحمد الأحمد
@ahmad9963


أذكُرُ أَوْجُهَ الاختِلَافِ بَيْنَ الشَّكْلَيْنِ فِي كُلِّ زَوْجٍ مِنَ الأشْكَالِ الآتِيَةِ:



٥



٤



أ. أحمد الأحمد
@ahmad9963



أرسم شكلين مختلفين لكل منهما ٨ أضلاع. 

أ. أحمد الأحمد
@ahmad9963