


شكراً لتحميلك هذا الملف من موقع المناهج السعودية



اختبار تربية بدنية ثالث ابتدائي مهارة التعلق الرأسي

[موقع المناهج](#) ⇨ [المناهج السعودية](#) ⇨ [الصف الثالث](#) ⇨ [التربية البدنية](#) ⇨ [الفصل الثاني](#) ⇨ [الملف](#)

تاريخ نشر الملف على موقع المناهج: 2024-01-19 14:13:55 | اسم المدرس: منصور شامي

التواصل الاجتماعي بحسب الصف الثالث



المزيد من الملفات بحسب الصف الثالث والمادة التربية البدنية في الفصل الثاني

اختبار مهارة الاتزان من وضع الاقعاء نصفاً للصف الثالث الابتدائي	1
ورقة عمل عن خبرة أهمية ارتداء الجوارب والاحذية أثناء ممارسة النشاط البدني	2
اختبار مهارة تنطيط الكرة بيد واحدة في الهواء	3
اختبار منتصف الفصل مع نموذج الإجابة و نموذج اختبار قصير	4
توزيع البدنية للفصل الثاني	5

اختبار تربية بدنية ثالث ابتدائي

الصف الثالث /

الاسم /

اختاري الاجابة الصحيحة

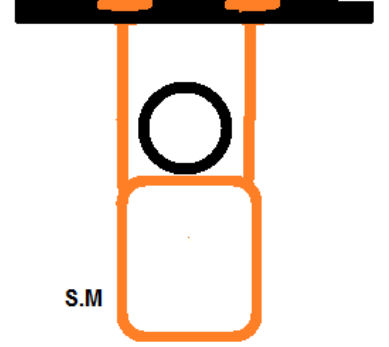


- الشكل الذي امامك يمثل مهارة التعلق الراسي .



- الشكل الذي امامك يمثل مهارة الوقوف على الرأس .

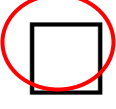
- الشكل الذي امامك يمثل مهارة رمي الكرة .



S.M

نموذج الاجابة

اختاري الاجابة الصحيحة



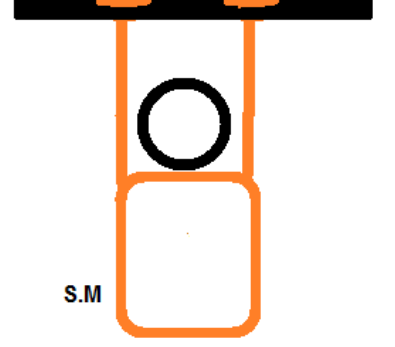
- الشكل الذي امامك يمثل مهارة التعلق الراسي .



- الشكل الذي امامك يمثل مهارة الوقوف على الرأس .



- الشكل الذي امامك يمثل مهارة رمي الكرة .



S.M