

شكراً لتحميلك هذا الملف من موقع المناهج السعودية



اختبار الفترة الخامسة

[موقع المناهج](#) ← [المناهج السعودية](#) ← [الصف الثالث](#) ← [رياضيات](#) ← [الفصل الثالث](#) ← [الملف](#)

تاريخ نشر الملف على موقع المناهج: 06:30:53 2023-04-04


التواصل الاجتماعي بحسب الصف الثالث



المزيد من الملفات بحسب الصف الثالث والمادة رياضيات في الفصل الثالث

| | |
|---|---|
| نموذج إجابة الاختبار التحريبي النهائي | 1 |
| اختبار تحريبي نهائي | 2 |
| نموذج إجابة مراجعة المنهج | 3 |
| أسئلة مراجعة شاملة للمنهج | 4 |
| مجموعة اختبارات نهائية مع نماذج الإجابة | 5 |

| | | | |
|------------------|-----------------|--------------------|----|
| اسم الطالب/..... | الصف : 3 /..... | الدرجة المستحقة | ٢٠ |
|------------------|-----------------|--------------------|----|

| | | | | | | | | |
|---|---|---------------|---|---------------|---|---------------|---|-----------------------|
| السؤال الأول: اختر الإجابة الصحيحة فيما يلي: | | | | | | | | <input type="radio"/> |
| الوحدة المناسبة لقياس المسافة بين مدينتي الرياض وجدة هي : | | | | | | | | |
| 1. | أ | لم | ب | سم | ج | م | د | كلم |
| لقياس طول كتاب الرياضيات نستخدم وحدة : | | | | | | | | |
| 2. | أ | لم | ب | سم | ج | م | د | كلم |
| كتلة البطيخ | | | | | | | | |
| 3. | أ | 5 جم | ب | 15 جم | ج | 5 كلجم | د | 1000 كلجم |
| محيط المستطيل التالي يساوي | | | | | | | | |
| $2 \text{ سم} \quad \boxed{5 \text{ سم}} \quad 2 \text{ سم}$ | | | | | | | | |
| 4. | أ | 16 سم | ب | 14 سم | ج | 24 سم | د | 25 سم |
| مساحة الشكل المقابل | | | | | | | | |
|  | | | | | | | | |
| 5. | أ | 20 وحدة مربعة | ب | 15 وحدة مربعة | ج | 9 وحدات مربعة | د | 8 وحدات مربعة |

السؤال الثاني:

اكمل الفراغات التالية ب لتر او مللتر:

1-سعة قارورة ماء

2- سعة كوب شاهي

3- سعة ماء في بركة سباحه

4-سعة ملعقة غسل

5-سعة حوض سمك

السؤال الثالث:

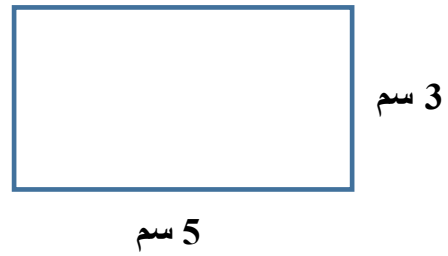
صل القائمة أ بما يناسبها من القائمة ب

| القائمة أ | القائمة ب |
|------------------------|-----------|
| حبة فرواله | كيلوجرام |
| حوض سمك | كيلومتر |
| طول غرفة الصف | متر |
| المسافة بن الرياض وجدة | لتر |
| وزن طفل | جرام |

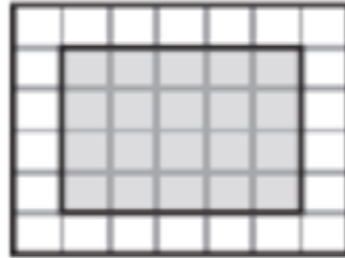
السؤال الرابع

أوجد ما يلي:

المحيط = سم



المساحة = وحدة مربعة



الحجم = وحدة مكعبة

