












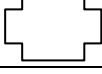


أسئلة اختبار الرياضيات التحريري للصف الثالث للعام 1435-1436هـ

السؤال الأول : اختر الإجابة الصحيحة فيما يلي :- الاسم:

20	1	قارن بين الكسرين:- $\frac{2}{3} \bigcirc \frac{1}{3}$	(أ) <	(ب) >	(ج) =	(د) لا يوجد
	2	أكتب العدد المناسب للكسر المكافئ :- $\frac{\quad}{8} = \frac{1}{2}$	(أ) 1	(ب) 5	(ج) 4	(د) 3
	3	أكتب الكسر الذي يمثل الشكل :- 	(أ) $\frac{2}{5}$	(ب) $\frac{1}{5}$	(ج) $\frac{3}{5}$	(د) $\frac{4}{5}$
	4	كسر الذي يمثل بالرسم:- $\frac{2}{4}$	(أ) 	(ب) 	(ج) 	(د) 
	5	أصف الاحتمال الوان مايلي :- 	(أ) أقل احتمال	(ب) أكثر احتمال	(ج) مستحيل	(د) أكيد
	6	مجموعة البيانات للعمر بالسنوات بعض الحيوانات الأسد 10 , الجراد 2 , الارنب 7 , الكنجارو 5 . س/ أي الحيوان عمرة اكثر ؟	(أ) الكنجارو	(ب) الارنب	(ج) الجراد	(د) الأسد
	7	هل الشكل محور تماثل ؟ 	(أ) نعم	(ب) لا	(ج) لا يوجد	
	8	أحدد النمط مما يلي :- 	(أ) 	(ب) 	(ج) 	(د) 

ماعدد الزوايا الشكل ؟				9
				
3 (د)	4 (ج)	6 (ب)	5 (أ)	

ماعدد الاضلاع الشكل ؟				10
				
3 (د)	4 (ج)	6 (ب)	12 (أ)	

موقع المناهج السعودية www.alManahj.com/sa


مراجعته لنصف الثالث

1/ قارن بين الكسرين:-

$$\frac{2}{3} \quad \bigcirc \quad \frac{1}{3}$$

$$\frac{\quad}{8} = \frac{1}{2}$$

2/ أكتب العدد المناسب للكسر المكافئ:-



3/ أكتب الكسر الذي يمثل الشكل:-

$$\frac{2}{4}$$

4/ كسر الذي يمثل بالرسم:-



5/ أصف الاحتمال لون مايلي:-

6/ مجموعة البيانات للعمر بالسنوات بعض الحيوانات الأسد 10 , الجراد 2 , الارنب 7 , الكنجارو 5 , س/ أي الحيوان عمرة اكثر ؟

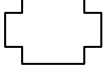
7/ هل الشكل محور تماثل ؟



8/ أحدد النمط مما يلي:-



9/ ما عدد الزوايا الشكل ؟



10/ ما عدد الاضلاع الشكل ؟

موقع المناهج السعودية www.alManahj.com/sa