

تم تحميل هذا الملف من موقع المناهج السعودية



موقع المناهج المنهاج السعودي

* للحصول على أوراق عمل لجميع الصفوف وجميع المواد اضغط هنا

<https://www.almanahj.com/sa>

* للحصول على أوراق عمل لجميع مواد الصف الثالث اضغط هنا

<https://almanahj.com/sa/3>

* للحصول على جميع أوراق الصف الثالث في مادة رياضيات ولجميع الفصول, اضغط هنا

<https://almanahj.com/sa/3math>

* للحصول على أوراق عمل لجميع مواد الصف الثالث في مادة رياضيات الخاصة بـ الفصل الثاني اضغط هنا


<https://www.almanahj.com/sa/3math2>

* لتحميل كتب جميع المواد في جميع الفصول للـ الصف الثالث اضغط هنا

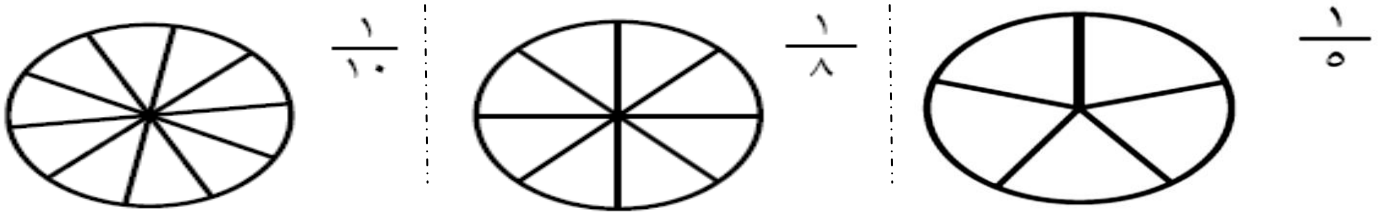
<https://www.almanahj.com/sa/grade3>

للحصول على جميع روابط الصفوف على تلغرام وفيسبوك من قنوات وصفحات: اضغط هنا

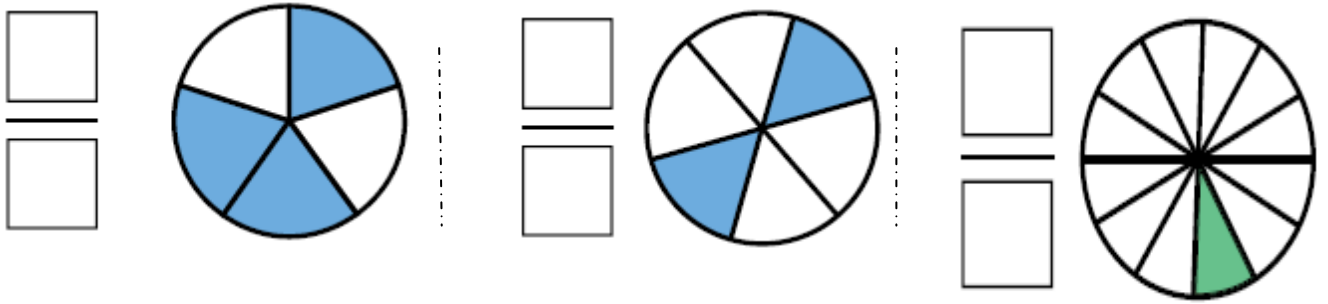
<https://t.me/sacourse>

ثاني	الصف	 وزارة التعليم Ministry of Education الاختبار التحريري لمادة الرياضيات لعام ١٤٣٧ - ١٤٣٨ هـ	المملكة العربية السعودية وزارة التعليم إدارة التعليم بمحافظة جدة الشؤون التعليمية - تعليم بنات مدرسة ت ق ب الاولى
الاحد	اليوم		
١٤٣٩/٦/٥	التاريخ		
الثالثة	الفترة التقويمية		
٢٠٢٢-٢٣-٢٤-٢٥	أرقام المهارات	اسم الطالبة [.....]	
٨	رقم الاختبار		

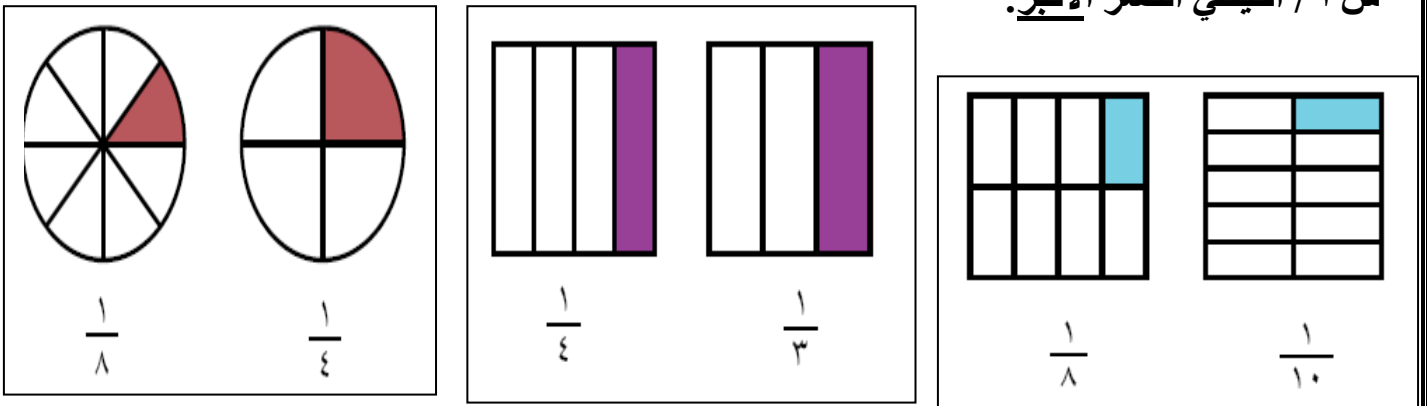
س١ / ألون الجزء الذي يمثّل الكسر المكتوب:



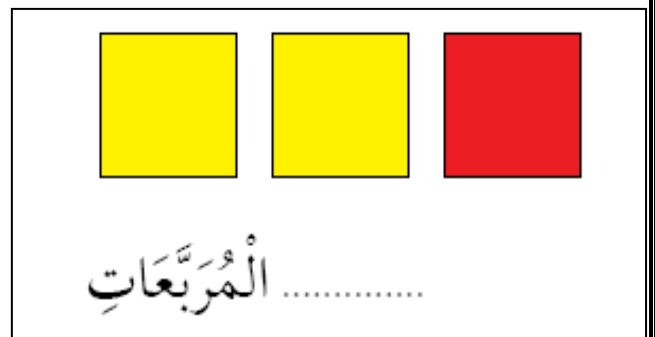
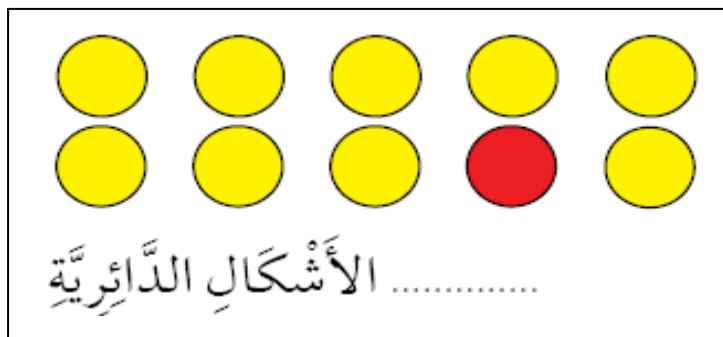
س٢ / استعملي نماذج الكسور لتمثيل الكسر الدال على الأجزاء الملونة ثم اكتبه واقرئه.



س٣ / أحيطي الكسر الأكبر:



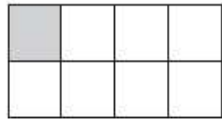

س٤ / اكتب الكسر الدال على الأشياء المظللة:



الاسم :

س ٥ / قارني بين الكسرين بوضع علامة (> أو < أو =) :

أكتب > أو < في ○ :

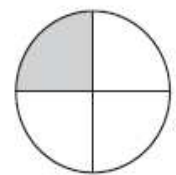
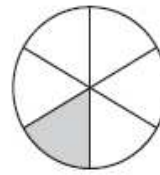


٢

$\frac{1}{12}$



$\frac{1}{8}$

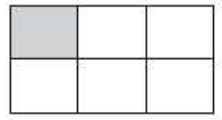
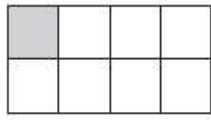


١

$\frac{1}{6}$



$\frac{1}{4}$





٤

$\frac{1}{8}$



$\frac{1}{6}$




٣

$\frac{1}{3}$



$\frac{1}{4}$

س ٦ / قسم فهد فطيرة ٦ الى أجزاء متساوية ، ثم أكل سدس الفطيرة — ،
فكم قطعة من الفطيرة بقيت ؟



س ٧ / وقفت ٨ عصافير على الشجرة . منها ٣ عصافير صغيرة والباقي كبيرة ،
ما الكسر الدال على العصافير الكبيرة ؟

انتهت الأسئلة

مع دعائي لكن بالتوفيق