

تم تحميل هذا الملف من موقع المناهج السعودية



أوراق عمل شاملة 1446هـ

موقع المناهج ← المناهج السعودية ← الصف الثالث ← علوم ← الفصل الأول ← الملف

تاريخ إضافة الملف على موقع المناهج: 05:33:05 2024-09-18

التواصل الاجتماعي بحسب الصف الثالث



اضغط هنا للحصول على جميع روابط "الصف الثالث"

روابط مواد الصف الثالث على تلغرام

[الرياضيات](#)

[اللغة الانجليزية](#)

[اللغة العربية](#)

[التربية الاسلامية](#)

المزيد من الملفات بحسب الصف الثالث والمادة علوم في الفصل الأول

[ورقة عمل درس دورة حياة الحيوانات](#)

1

[ملخص وملزمة تعزيز المهارات](#)

2

[اختبار منتصف الفصل](#)


3

[استمارة متابعة مستوى الطلاب](#)

4

[ملخص مهارات الفصل الأول](#)

5



وزارة التعليم  
Ministry of Education



العلوم

3

# أوراق عمل مادة العلوم

## الصف الثالث ابتدائي

### الفصل الدراسي الأول ١٤٤٦هـ



"لأنشيء يعلمنا أفضل من تجاربنا"

المعلمة: أمل الزهراني



اسم الطالب/ة: ..... الصف: .....




أكمل الفراغات التالية بما يناسبها


( الاستجابة - الخلايا - التكاثر - البيئة )

- ١- ..... هو ان ينتج المخلوق الحي افراد جديدة من نوعه.
- ٢- ..... المكان الذي يعيش فيه المخلوق الحي.
- ٣- ..... هي قدرة المخلوق الحي على التفاعل مع ما يحيط به.
- ٤- ..... هي وحدة بناء اجسام المخلوقات الحية.

اضع علامة ( ✓ ) تحت المخلوقات الحية وعلامة ( ✗ ) تحت الأشياء الغير حية:




(.....)



(.....)



(.....)



(.....)


خصائص المخلوقات الحية



من خلال الصور التالية نستنتج حاجات المخلوقات




.....



.....



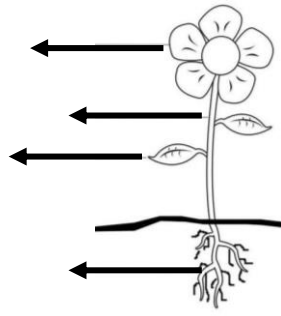
.....



.....

الصف: .....

اسم الطالب/ة: .....



أكتب أجزاء النبات على الرسم المجاور:

اختر الإجابة الصحيحة:

١- كيف تتغذى النباتات:		
تتغذى على الحيوانات	تصنع غذاؤها بنفسها	تتغذى على نباتات اخرى
٢- مانوع الجذور في الشكل		
جذور خشبية	جذور ليفية	جذور وتدية
٣- الجزء الذي يقوم بعملية البناء الضوئي:		
الاوراق	الساق	الجذور
٤- يطلق النبات غاز ..... من الورقة.		
الماء	الاكسجين	الكربون
٥- ما نوع الورقة في الشكل:		
ورقة خشبية	ورقة منبسطة	ورقة ابرية

اصل العمود الأول بما يناسبه في العمود الاخر:



تصنع الغذاء باستخدام ضوء الشمس




يدعم النبات وينقل الماء والغذاء ويحمل الاوراق


تثبت النبات في التربة وتمتص الماء والاملاح من التربة

اسم الطالب/ة: ..... الصف: .....







اختر الإجابة الصحيحة:

١- ..... تركيب يمكن ان ينبت لينمو ويصير نباتاً جديداً.		
الزهرة	البذرة	الثمرة
٢- النباتات التي لها ازهار تسمى :		
نباتات جذرية	نباتات لا زهرية	نباتات زهرية
٣- ..... تركيب او جزء النبات يحمل بداخله البذور.		
الزهرة	البذرة	الثمرة
		
٤- يسمى انتقال حبوب اللقاح من الجزء الذكري الى الجزء الانثوي ب.....		
الجنين	التلقيح	البذرة
٥- ..... هي مراحل حياة المخلوق الحي.		
الجنين	التلقيح	دورة الحياة



ارتب دورة حياة شجرة الخوخ التالية:







اسم الطالب/ة: ..... الصف: .....

اختر الإجابة الصحيحة:

١- الحيوان الذي يمر بمرحلة التحول هو:		
 القطة	 الضفدع	 الجمل
٢- يبدأ أول مراحل حياته ببيضة هو:		
 البقرة	 السلحفاة	 الجمل
٣- لا تمر بمرحلة التحول فهي تشبه اباها عندما تفقس:		
 الدجاجة	 الخنفساء	 الضفادع

ارتب دورة حياة الحيوانات التالية:



اسم الطالب/ة: ..... الصف: .....

أكمل الفراغات التالية بما يناسبها

( المنتج - النظام البيئي - المستهلك - المحلات )

- ١- ..... هي مخلوقات حية تحلل بقايا النباتات والحيوانات بعد موتها.
- ٢- ..... هو المخلوقات الحية وغير الحية التي تتشارك في الوطن وبينها تفاعل.
- ٣- ..... مخلوق حي يصنع غذاءه بنفسه.
- ٤- ..... مخلوق حي يتغذى على مخلوقات حية أخرى.

اختر الإجابة الصحيحة:

١- يسمى اول مخلوق حي في السلسلة الغذائية ب.....		
المحلل	المستهلك	المنتج
٢- يسمى تشابك السلاسل الغذائية ب.....		
السلسلة الغذائية	الشبكة الغذائية	الصخور
٣- تسمى البكتريا والديدان ب.....		
المنتجات	المستهلكات	المحلات
٤- تسمى المخلوقات الحية التي تعتمد في غذائها على الحيوانات ب...		
اكلات اعشاب	اكلات لحوم	حيوانات قارته
٥- هناك حيوانات تأكل حيوانات ونباتات تسمى.....		
اكلات اعشاب	اكلات لحوم	حيوانات قارته

ارتب السلسلة الغذائية التالية:



- ١- المنتج في هذه السلسلة الغذائية هو .....
- ٢- المحلل في هذه السلسلة الغذائية هو .....
- ٣- المستهلك في هذه السلسلة الغذائية هو .....


اسم الطالب/ة: ..... الصف: .....



أكمل الفراغات التالية بما يناسبها

## ( التكيف – الهجرة – النشاط الليلي )

- ١- ..... هي انتقال المخلوق الحي من مكان الى اخر.
- ٢- ..... هي ان تنام الحيوانات نهاراً وتنشط في الليل عندما يصبح الجو بارداً.
- ٣- ..... هو التركيب او السلوك الذي يساعد المخلوق الحي على البقاء حياً في بيئته.



اختر الإجابة الصحيحة:

١- تكيف الجمل الذي يمكنه من اكل النباتات الصحراوية الشوكية:		
شفة الجمل المشقوقة	سنام الجمل	خف الجمل
٢- جعل الله للثعبان ان يتخذ لون وشكل البيئة التي يعيش فيها لكي:		
يتخفى من اعدائه	لينام ليلاً	يمضغ الطعام
٣- من تكيفات نبات الصبار الصحراوي:		
الازهار الصغيرة	الأوراق المغطاة بطبقة شمعية	الأوراق الرقيقة
٤- تكيف الجمل الذي يمنعه من الغوص في الرمال وتمنع احساسه بحرارة الرمل:		
شفة الجمل المشقوقة	سنام الجمل	خف الجمل
٥- تهاجر بعض الحيوانات:		
رغبة في تغيير المكان	تبحث عن الغذاء	تبحث عن ابائها
٦- من الحيوانات التي تنشط ليلاً:		
الحصان	الخفاش	العصفور
٧- من تكيفات الارانب البرية:		
الآذان الكبيرة	الآذان الصغيرة	الفرو السميك



اسم الطالب/ة: ..... الصف: .....



أكمل الفراغات التالية بما يناسبها

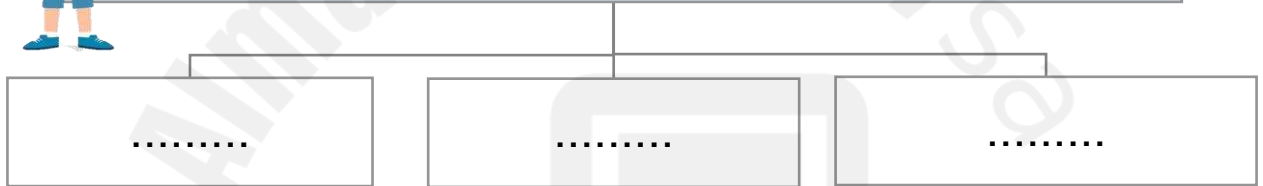
( التدوير – التنافس – الترشيد - التلوث )

- ١- ..... استخدام اكثر من مخلوق حي للمورد في الوقت نفسه.
- ٢- ..... ادخال مواد ضارة الى الماء او الهواء او التربة.
- ٣- ..... هو صنع منتجات جديدة من مواد قديمة.
- ٤- ..... يعني استهلاك اقل كمية من الشيء.

أكمل خريطة المفاهيم التالية بما يناسبها:




يمكن للإنسان حماية بيئته بثلاث طرق هي:



اختر الإجابة الصحيحة:

١- من تغيرات البيئة المفيدة التي يحدثها الانسان:		
تلويث البيئة	زراعة الاشجار	إزالة الغابات
٢- أي الحيوانات التالية ينافس الحصان على الغذاء:		
النمر	الخروف	الاسد
٣- من التغيرات التي تضر البيئة:		
إعادة الاستخدام	رمي النفايات	التدوير

اسم الطالب/ة: ..... الصف: .....




اختار الإجابة الصحيحة:

١- يحدث ..... عند توقف سقوط الامطار فترة زمنية طويلة.		
الجفاف	الحرائق	الفيضان
٢- الحيوان الذي لا يبقى من نوعه أي فرد يسمى.....		
منتج	منقرض	مهدد بالانقراض
٣- من الحيوانات المنقرضة:		
الديناصور	القطط	الحمار الوحشي
٤- يحدث ..... بسبب الامطار الغزيرة.		
الجفاف	الحرائق	الفيضان
٥- من الحيوانات المهدة بالانقراض:		
غزال الريم	الثعابين	الجراد
٦- اذا تبقى عدد قليل من افراد نوع المخلوق الحي يصبح:		
منتج	منقرض	مهدد بالانقراض



ضع علامة ( ✓ ) امام العبارات الصحيحة وعلامة ( ✗ ) امام العبارات الخاطئة:

- ١- تؤدي الفيضانات الى انجراف التربة ( )
- ٢- البكتيريا والفطريات تسبب الامراض ( )
- ٣- يمكن لنباتات جديدة ان تنمو بعد الحريق ( )
- ٤- تهاجر بعض الحيوانات بحثاً عن الماء والبعض يتكيف مع البيئة الجافة ( )



وزارة التعليم  
Ministry of Education



العلوم

3

ان اصبت فهو من الله وان أخطأت  
فهو مني ومن الشيطان

لا تنسونا من دعواتكم الصادقة في  
حين استفدت من هذا الملف



أختكم: أمل الزهراني

