

تم تحميل هذا الملف من موقع المناهج السعودية



الملف اختبار الفترة الخامسة الفصل الثامن القياس

[موقع المناهج](#) ← [المناهج السعودية](#) ← [الصف الثالث](#) ← [رياضيات](#) ← [الفصل الثالث](#)


الملف اختبار الفترة الخامسة الفصل الثامن القياس

[موقع المناهج](#) ← [المناهج السعودية](#) ← [الصف الثالث](#) ← [رياضيات](#) ← [الفصل الثالث](#)

المزيد من الملفات بحسب الصف الثالث والمادة رياضيات في الفصل الثالث

تحضير عين لدروس الفصل الثالث	1
أوراق عمل للفصل الدراسي الثالث	2
اختبار تكويني مع نموذج إجابة	3
ورقة عمل المساحة ووحدات السعة	4
اختبار قياس وحدة الأشكال الهندسية	5

بسم الله الرحمن الرحيم

اسم الطالب :	 وزارة التعليم Ministry of Education	المملكة العربية السعودية
المادة : رياضيات		وزارة التعليم
الصف : الثالث ابتدائي	٢٠	الإدارة العامة للتعليم بمنطقة ()
		مكتب التعليم ب
		مدرسة

اختبار الفترة الأولى الفصل الدراسي الثالث [الدور الأول] لعام ١٤٤٣ هـ

السؤال الأول : اختر الإجابة الصحيحة فيما يأتي .:

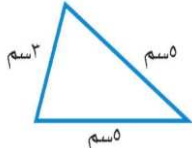
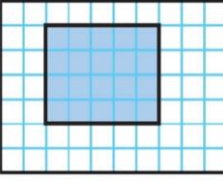

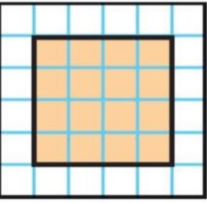
٢٠

١) الوحدة المناسبة لقياس المسافة بين مدينة الرياض وجازان هي:		
أ) السنتيمتر	ب) المتر	ج) الكيلو متر
٢) ما حجم الجسم أدناه ؟		
أ) ٨ وحدات مكعبة	ب) ١٠ وحدات مكعبة	ج) ٧ وحدات مكعبة
٣) إذا كان عقرب الدقائق يشير الى الرقم ٣ ، فما عدد الدقائق التي يشير اليها		
أ) ١٥	ب) ٢٠	ج) ١٠
٤) الوحدة المناسبة لقياس طول كتاب الرياضيات هي:		
أ) السنتيمتر	ب) الملمتر	ج) المتر
٥) الوحدة المناسبة لقياس طول إرتفاع الباب هي:		
أ) الملمتر	ب) المتر	ج) السنتيمتر

السؤال الثاني: ضع علامة (√) أمام العبارة الصحيحة وعلامة (×) أمام العبارة غير الصحيحة

١) المساحة هي طول المسافة حول الإطار الخارجي لشكل معين
٢) تستعمل الوحدات المكعبة لقياس الحجم

السؤال الثالث: أجب عن الأسئلة التالية

أوجد محيط المثلث المجاور ؟ 	أوجد محيط المستطيل المظلل ؟ 
أوجد محيط الشكل المجاور ؟ 	أوجد مساحة الشكل التالي ؟ 

انتهت الأسئلة

أ. أحمد الأحمد
@ahmad9963