

تم تحميل هذا الملف من موقع المناهج السعودية



موقع المناهج السعودي

* للحصول على أوراق عمل لجميع الصفوف وجميع المواد اضغط هنا

<https://www.almanahj.com/sa>

* للحصول على أوراق عمل لجميع مواد الصف الثالث اضغط هنا

<https://almanahj.com/sa/3>

* للحصول على جميع أوراق الصف الثالث في مادة رياضيات ولجميع الفصول, اضغط هنا

<https://almanahj.com/sa/3math>

* للحصول على أوراق عمل لجميع مواد الصف الثالث في مادة رياضيات الخاصة بـ الفصل الثاني اضغط هنا

<https://www.almanahj.com/sa/3math2>

* لتحميل كتب جميع المواد في جميع الفصول للـ الصف الثالث اضغط هنا

<https://www.almanahj.com/sa/grade3>

للحصول على جميع روابط الصفوف على تلغرام وفيسبوك من قنوات وصفحات: اضغط هنا

<https://t.me/sacourse>



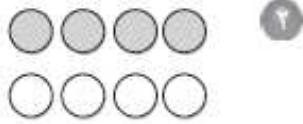
ورقة عمل: الكسور كأجزاء من مجموعة

الاسم :

الصف : الثالث

الثلاثاء ٢١ / ٨ / ١٤٤١ هـ

اكتب الكسر الذي يمثل الجزء المظلل من كل مجموعة فيما يأتي:



اكتب الكسر الذي يمثل الجزء المشار إليه في كل مجموعة مما يأتي:

٦ قطعت نادية ١٠ وردات، ثلاث منها من الجوري.

٥ لدى عبد الله ١٣ قلمًا، سبعة منها زرقاء.

٨ لدى هند ١١ علبة حليب، شربت ٥ علب منها.

٧ قرأ يحيى ٥ قصائد شعريّة، اثنتان منها قديمتان.

مراجعة الدرس السابق

اكتب الكسر الذي يمثل الأجزاء المظللة في كل شكل مما يأتي:

