

تم تحميل هذا الملف من موقع المناهج السعودية

almanahj.com/sa

موقع المناهج السعودية

* للحصول على أوراق عمل لجميع الصفوف وجميع المواد اضغط هنا

<https://www.almanahj.com/sa>

[3/sa/com.almanahj//:https](https://www.almanahj.com/sa/3)

* للحصول على أوراق عمل لجميع مواد الصف الثالث اضغط هنا

* للحصول على جميع أوراق الصف الثالث في مادة علوم ولجميع الفصول, اضغط هنا

<https://www.almanahj.com/sa/3science>

* للحصول على أوراق عمل لجميع مواد الصف الثالث في مادة علوم الخاصة بـ الفصل الأول اضغط هنا

<https://www.almanahj.com/sa/3science1>

* لتحميل كتب جميع المواد في جميع الفصول للـ الصف الثالث اضغط هنا

<https://www.almanahj.com/sa/grade3>

* لتحميل جميع ملفات المدرس م. نسرين مخدوم اضغط هنا

[sacourse/me.t//:https](https://www.almanahj.com/sa/course/me)

للحصول على جميع روابط الصفوف على تلغرام وفيسبوك من قنوات وصفحات: اضغط هنا



نماذج أسئلة محاكاة

للاختبارات الدولية

[التيمز]

لمهارات علوم الصف الثالث

الفصل الدراسي الأول



اعداد وتنفيذ : المشرفه / نسرين مخدوم

متابعة رئيسة قسم الصفوف الأولية : أ/ مشاعل الشبيلي





نموذج تضليل الإجابة

نموذج إختبارات محاكية للإختبارات الدولية (TIMSS) لمادة العلوم

إسم الطالبة : المدرسة :
الصف : اليوم : (.....) التاريخ : / / ١٤٤٤ هـ

تعليمات الإختبار





تعليمات الإختبار		١. قم بالتضليل بالشكل الصحيح		
٢. لا تختار أكثر من إجابة.	٣. لا تكتب أو تضع إشارات على ورقة الإجابة.	 		
الإجابة		رقم السؤال		
أ	ب	ج	د	١
أ	ب	ج	د	٢
أ	ب	ج	د	٣
أ	ب	ج	د	٤
أ	ب	ج	د	٥
أ	ب	ج	د	٦
أ	ب	ج	د	٧
أ	ب	ج	د	٨
أ	ب	ج	د	٩
أ	ب	ج	د	١٠
أ	ب	ج	د	١١
أ	ب	ج	د	١٢

نموذج (١) الصف الثالث

نموذج إختبارات محاكية للإختبارات الدولية (TIMSS) لمادة العلوم

أرسمي دائرة حول رمز الإجابة الصحيحة

١. تحصل معظم المنتجات على الطاقة من:

	أ.		ب.		ج.		د.
---	----	--	----	---	----	---	----

٢. التغيير في التركيب أو السلوك الذي يمكن المخلوق الحي من البقاء حياً في بيئته:

أ. التكيف.	ب. التخفي.	ج. الهجرة.	د. النشاط الليلي.
------------	------------	------------	-------------------



٣. أمامك صور لحيوان حدي نوع التكيف ؟

أ. تخزين الغذاء.	ب. التخفي.	ج. مخالب.	د. النشاط الليلي.
------------------	------------	-----------	-------------------

٤. شاهدت فاطمة عشاً به عصفور ، برأيك ما سبب وجود هذا العش ؟

أ. مأوى له.	ب. حماية من أعدائه.	ج. توفير الغذاء لصغاره.	د. جميع ما سبق.
-------------	---------------------	-------------------------	-----------------

٥. أي مما يأتي يضر البيئة التي نعيش فيها:

أ. التدوير.	ب. رمي النفايات.	ج. زراعة الاشجار.	د. الترشيد.
-------------	------------------	-------------------	-------------

٦. انجراف التربة والنباتات بسبب:

أ. الجفاف.	ب. الفيضان.	ج. البركان.	د. الزلزال.
------------	-------------	-------------	-------------

٧. فتحة في القشرة الارضية تندفع منها الصهارة هي:

أ . التجوية.	ب . البركان.	ج . التعرية.	د . الزلزال.
--------------	--------------	--------------	--------------

٨. أي زوج مما يلي يمكن أن يحدث تغيرات سريعة:

أ . البراكين والتعرية.	ب . الزلازل والتجوية.	ج . الغيوم والضباب.	د . الزلازل والبراكين.
------------------------	-----------------------	---------------------	------------------------

٩. أي العوامل الاتية ليس من عوامل التجوية ؟

أ . الرياح.	ب . النباتات.	ج . المياه.	د . الضوء.
-------------	---------------	-------------	------------

١٠. تظهر التربة الغنية بالدبال باللون ؟

أ . باهت.	ب . غامق.	ج . ب و ج.	د . فاتح.
-----------	-----------	------------	-----------

١١. ما الترتيب المناسب للتربة ؟



أ . طفيلية، طينية، رملية.	ب . طينية، رملية، طفيلية.	ج . رملية، طفيلية، طينية.	د . رملية، طينية، طفيلية.
---------------------------	---------------------------	---------------------------	---------------------------

١٢. يطلق على النباتات والحيوانات:

أ . موارد متجددة.	ب . موارد غير متجددة.	ج . موارد لا يمكن تعويضها.	د . موارد غير طبيعية.
-------------------	-----------------------	----------------------------	-----------------------

نموذج (٢) الصف الثالث

نموذج إختبارات محاكية للإختبارات الدولية (TIMSS) لمادة العلوم

أرسمي دائرة حول رمز الإجابة الصحيحة

١. ما الصورة التي تدل على العلاقة بين المستهلك وبين المنتج في السلسلة الغذائية ؟



٢. ما التكيف الذي يساعد نبات الصبار على البقاء في البيئة الصحراوية ؟

أ. أوراقه كبيرة.	ب. ساق مغطاة بطبقة شمعية.	ج. أزهاره صغيرة.	د. أزهار مغطاة بطبقة شمعية.
------------------	---------------------------	------------------	-----------------------------

٣. أي مما يلي لا يدل على تكيف الجمل في الصحراء ؟

أ. له خفان.	ب. الشفة المشقوقة.	ج. له سنام.	د. النشاط الليلي.
-------------	--------------------	-------------	-------------------

٤. العنكبوت تنسج شباكاً ، برأيك ما سبب وجود هذه الشباك ؟

أ. لتلبية حاجاتها.	ب. تحلل أوراق الشجر.	ج. ليصطاد الحشرات.	د. تحليل المواد الميتة.
--------------------	----------------------	--------------------	-------------------------



٥. من خلال الصورة المجاورة ما هو نوع التلوث ؟

أ. فيضانات.	ب. قطع الاشجار.	ج. رمي النفايات.	د. دخان صاعد.
-------------	-----------------	------------------	---------------

٦. تهاجر الحيوانات بحثاً عن الماء والأعشاب بسبب ؟

أ. الجفاف.	ب. الفيضان.	ج. الأمراض.	د. جميع ما سبق.
------------	-------------	-------------	-----------------



٧. من الصورة المقابلة حددي نوع التغير الذي حدث على سطح الارض ؟

أ . التعرية.	ب . الزلزال.	ج . التجوية.	د . البركان.
--------------	--------------	--------------	--------------

٨. حددي التغيرات السريعة على سطح الارض :

أ . البراكين والتعرية.	ب . التجوية.	ج . الزلازل والبراكين.	د . الزلازل والتجوية.
------------------------	--------------	------------------------	-----------------------

٩. لاحظ طارق عند زيارته لجبل أحد بالمدينة حدوث تغيرات على الجبل فأخبر صديقة محمد مرجحاً سبب ذلك لعوامل التعرية بينما رجح محمد ذلك لعوامل التعرية والتجوية ، من منهما على صواب ؟

أ . محمد.	ب . لا أحد منهما.	ج . طارق.	د . كلاهما على صواب.
-----------	-------------------	-----------	----------------------

١٠. حددي الطبقة التي بها معظم المعادن والديبال :

أ . الطبقة السطحية.	ب . الطبقة الصخرية.	ج . أ و ب.	د . الطبقة تحت السطحية.
---------------------	---------------------	------------	-------------------------



١١. من خلال الصورة تم أخذ عينة لتربة ، برأيك ما نوع هذه التربة ؟

أ . تربة رملية.	ب . تربة طفيلية.	ج . تربة طينية.	د . جميع ما سبق.
-----------------	------------------	-----------------	------------------

١٢. أي من ما يلي يعدّ من الوقود الأحفوري :

أ . النفط.	ب . الرياح.	ج . الكهرباء.	د . المياه الجوفية.
------------	-------------	---------------	---------------------

نموذج (٣) الصف الثالث

نموذج إختبارات محاكية للإختبارات الدولية (TIMSS) لمادة العلوم

أرسمي دائرة حول رمز الإجابة الصحيحة

١. ما العلاقة التي يمثلها المخطط التالي ؟



أ. هرم الطاقة.	ب. شبكة غذائية.	ج. سلسلة غذائية.	د. سلسلة رياضية.
----------------	-----------------	------------------	------------------



٢. ينام الخفاش نهاراً ل..... ؟

أ. البقاء حياً.	ب. الهجرة.	ج. التخفي.	د. ينشط ليلاً.
-----------------	------------	------------	----------------

٣. نوع التكيف في الصبار ؟

أ. اللون.	ب. الأشواك.	ج. تخزين الماء.	د. التخفي.
-----------	-------------	-----------------	------------

٤. تعمل البكتريا على :

أ. تحلل أوراق الشجر.	ب. تحليل المواد الميتة.	ج. أ و ب.	د. تمتص الماء من التربة.
----------------------	-------------------------	-----------	--------------------------

٥. أي مما يلي لا يسبب أضراراً في البيئة ؟

أ. التلوث.	ب. زراعة الأشجار.	ج. إزالة الغابات.	د. إنشاء المصانع.
------------	-------------------	-------------------	-------------------

٦. أي مما يلي ليس كارثة طبيعية ؟

أ. الحريق.	ب. الفيضان.	ج. الفطريات.	د. الجفاف.
------------	-------------	--------------	------------

٧. يسبب الزلزال :

أ . دخان وأبخرة.	ب . شقوق في الطرق.	ج . إندفاع الصهارة.	د . حرائق.
------------------	--------------------	---------------------	------------

٨. أي مما يلي لا يعد من أسباب حدوث التغيرات السريعة على سطح الارض :

أ . سقوط الامطار.	ب . قتل المخلوقات الحية.	ج . الزلازل.	د . تعرية الصخور.
-------------------	--------------------------	--------------	-------------------

٩. لاحظت سارة تعرية الشاطئ القريب منها بعد فترة زمنية ، ولما بحثت عن السبب وجدت أنها تغيرات :

أ . بطيئة نوعا ما.	ب . سريعة.	ج . بطيئة جداً.	د . أ و ب.
--------------------	------------	-----------------	------------

١٠. تتكون التربة من ؟

أ . معادن وفتات صخور.	ب . ماء وهواء فقط.	ج . دبال فقط.	د . مخلوقات حية فقط.
-----------------------	--------------------	---------------	----------------------

١١. تنمو النباتات جيداً في التربة، برأيك ما نوع هذه التربة ؟

أ. تربة رملية.	ب. تربة طفيلية.	ج. تربة طينية.	د. أ و ج.
----------------	-----------------	----------------	-----------

١٢. أي من ما يلي يعدّ مورداً متجدد ؟

أ. النفط.	ب. الغاز الطبيعي.	ج. الماء.	د. الفحم الحجري.
-----------	-------------------	-----------	------------------

نموذج (٤) الصف الثالث

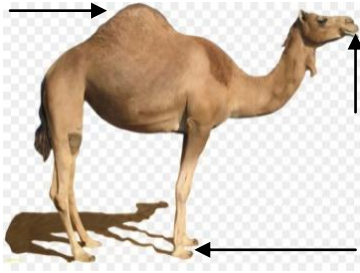
نموذج إختبارات محاكية للإختبارات الدولية (TIMSS) مادة العلوم

س١ / أمامك شبكة غذائية أشيري إلى



- المنتجات :
- المستهلكات :
- المحللات :

س٢ / للجمل عدة تراكيب في جسمه تساعده على



- أ . البقاء حيا ب. التخفي ج. الهجرة د . الجري

أشيري الى هذه التراكيب بوضعها مكان الاسم في الصورة ؟

س٣ / أي مما يلي لا يدل على تكيف الزواحف في البيئة الصحراوية ؟

١ . لها حواجب غليظة تمنع دخول التربة.

٢ . لونها يشبه الرمال.

٣ . جلدها به حراشف.




س٤ / ضع خطا تحت الكلمة المناسبة للميء الفراغ ؟

١ / نوع التكيف في الجمل مخالف أشواك خف

٢ / نوع التكيف في الصبار تخزين الماء مخالف اللون

٣ / نوع التكيف في الثعبان مخالف تخفي اشواك

س٥/ اختر الصورة من العمود (ب) واكتب رقمها امام ما يناسبها من عبارات العمود (أ) ؟

العمود (ب)		العمود (أ)	
	١		التخفي
	٢		نشاط ليلي
	٣		تخزين الغذاء

س٦/ ضعي الرقم المناسب في المجموعة (ب) بما يناسبها من المجموعة (أ) ؟

ب	أ
(.....) يمتص الماء من التربة .	١. العنكبوت
(.....) تحلل أوراق الشجر والمواد الميتة .	٢. النبات
(.....) تنسج شباكه ليصطاد الحشرات .	٣. البكتريا

س٧/ عند التأمل في صحراء الربع الخالي نشاهد تغيرات كثيرة حدثت فيها لذا . اقترحي طرق للمحافظة عليها ؟

.....

.....

س٨ / ما الطريقة التي يحافظ بها الانسان على حماية بيئته ؟



مثال (٣)



مثال (٢)



مثال (١)

أ. مثال (١) ب. مثال (٢+١) ج. مثال (٢) د. مثال (٣)


س٩ / اظهرت اخر نتائج حماية البيئة إتساع ثقب طبقة الاوزون برأيك ما أسباب ذلك

١. تصاعد دخان المصانع والحرائق.
٢. استخدام المبيدات الحشرية.
٣. غبار البراكين.
٤. جميع ما سبق.

س١٠ / كيف يمكن للإنسان حماية بيئته ؟

- أ. قطع الاشجار.
- ب. صنع منتجات جديدة من مواد قديمة.
- ج. استهلاك كميات كبيرة من الاشياء.
- د. استخدام الشيء مرة واحدة.

س١١/ من خلال الصور التالية سمي العمليات التي تحدث تغييرات على سطح الأرض ؟ مشيرة الى الصورة التي تدل على التغير البطيء جدا ؟



.....

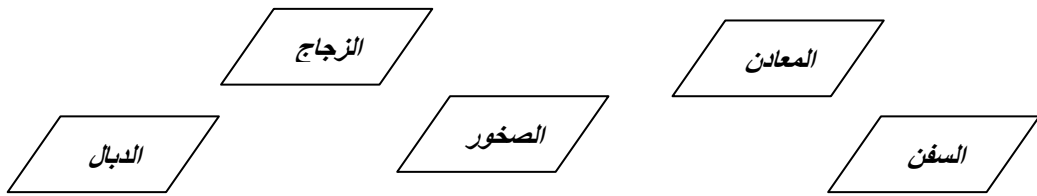
.....

.....

س١٢/ مخلوط من المعادن وفتات الصخور والديبال هو :

- أ. الاحفورة. ب. الوقود. ج. المورد المتجدد. د. التربة..

س١٣/ ظلل الشكل الذي يشمل مكونات التربة



س١٤/ ضع علامة (✓) امام الكلمة المناسبة ؟

الطفيلية	الطينية	الرملية		
			تتمو النباتات جيدا في التربة .	١
			التربة التي تحتفظ بالكثير من الماء.	٢
			التربة التي تحتفظ بالقليل من الماء.	٣

س١٥ / أي العبارات الآتية تصف موارد الأرض متجددة ؟

- أ. ماء - هواء - حيوانات.
- ب. ماء - فحم - حيوانات.
- ج. نباتات - حيوانات - نפט.
- د. حيوانات - غاز - نפט.

س١٦ / على الصور التي أمامك سمي أشكال الطاقة ؟



س١٧ / صنفى الى موارد متجددة وغير متجددة ؟

الطاقة الشمسية - الفحم - الهواء - النفط - الماء - الغاز

الموارد غير المتجددة	الموارد المتجددة