

تم تحميل هذا الملف من موقع المناهج السعودية



موقع المناهج السعودي

* للحصول على أوراق عمل لجميع الصفوف وجميع المواد اضغط هنا

<https://www.almanahj.com/sa>

* للحصول على أوراق عمل لجميع مواد الصف الثالث اضغط هنا

<https://almanahj.com/sa/3>

* للحصول على جميع أوراق الصف الثالث في مادة رياضيات ولجميع الفصول, اضغط هنا

<https://almanahj.com/sa/3math>

* للحصول على أوراق عمل لجميع مواد الصف الثالث في مادة رياضيات الخاصة بـ الفصل الثاني اضغط هنا

<https://www.almanahj.com/sa/3math2>

* لتحميل كتب جميع المواد في جميع الفصول للـ الصف الثالث اضغط هنا

<https://www.almanahj.com/sa/grade3>

للحصول على جميع روابط الصفوف على تلغرام وفيسبوك من قنوات وصفحات: اضغط هنا

<https://t.me/sacourse>

المملكة العربية السعودية
وزارة التعليم
إدارة التعليم بمحائل عسير
مدرسة الكسائي الابتدائية



الدرجة: _____

توقيع ولي الأمر :

اختبار الفترة الرابعة

الصف: الثالث الابتدائي

المادة: رياضيات

اسم الطالب:

السؤال الأول: اكتب أسماء المجسمات التالية:



.....



.....



.....

السؤال الثاني: صف المجسم التالي من حيث: عدد الأوجه، والأحرف، والرؤوس.

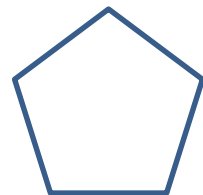
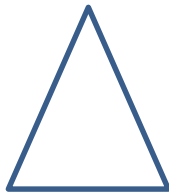


رؤوس

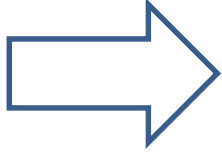
حرفا

أوجه

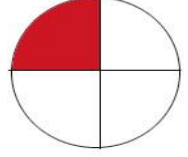
السؤال الثالث: صف الشكلين التاليين من حيث عدد الأضلاع وعدد الزوايا، ثم سم كل واحد منهما.



السؤال الرابع: كم عدد محاور التماثل للشكلين التاليين ، ثم ارسمها إن وجدت:



السؤال الخامس: اكتب الكسر الذي يمثل الجزء المظلل في الأشكال التالية:



السؤال السادس: (أ) اكتب كسرا يكافئ الكسور التالية:

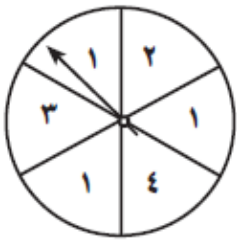
$$\frac{1}{2}$$
$$\frac{2}{5}$$

(ب) قارن بين الكسور التالية:

$$\frac{2}{5} \bigcirc \frac{3}{7}$$

$$\frac{2}{6} \bigcirc \frac{1}{6}$$

(ج) صف احتمال وقوف المؤشر على الأعداد المطلوبة في القرص التالي:



- عدد أقل من ٥

- الرقم ٢

- الرقم ٦