

تم تحميل هذا الملف من موقع المناهج السعودية

الملف اختبار الفترة السادسة

[موقع المناهج](#) ⇨ [المناهج السعودية](#) ⇨ [الصف الثالث](#) ⇨ [رياضيات](#) ⇨ [الفصل الثالث](#)

الملف اختبار الفترة السادسة

[موقع المناهج](#) ⇨ [المناهج السعودية](#) ⇨ [الصف الثالث](#) ⇨ [رياضيات](#) ⇨ [الفصل الثالث](#)

المزيد من الملفات بحسب الصف الثالث والمادة رياضيات في الفصل الثالث







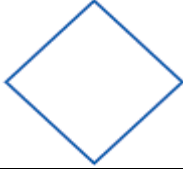
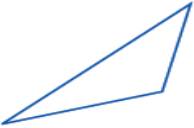
تحضير عين لدروس الفصل الثالث	1
أوراق عمل للفصل الدراسي الثالث	2
اختبار تكويني مع نموذج إجابة	3
ورقة عمل المساحة ووحدات السعة	4
اختبار قياس وحدة الأشكال الهندسية	5

اختبار الفترة السادسة لمادة الرياضيات للصف الثالث الابتدائي لعام ١٤٤٣ هـ

اسم الطالب / الصف /

٦

السؤال الأول: اختر الإجابة الصحيحة (عدد الفقرات ٦):

1	أي الأشكال الآتية يمثل أسطوانة.						
أ		ب		ج		د	
2	أي الأشكال التالية أنسب لوصف مجسم جميع أوجهه مربعة الشكل.						
أ	المكعب	ب	المخروط	ج	الكرة	د	الهرم
3	أي الأشكال التالية ليس له محور تماثل.						
أ		ب		ج		د	
أ	5	ب	4	ج	6	د	3





4	الشكل المستوي له						
أ	طول فقط	ب	عرض فقط	ج	طول وعرض	د	طول وعرض وارتفاع

5	مُضَلَّعٌ لَهُ ٦ أَضْلاعٍ، وَ ٦ زَوَايا، مَاذَا أُسْمِيَ هَذَا الْمُضَلَّعُ؟						
أ	سداسي	ب	خماسي	ج	رباعي	د	ثمانى


6	أي مايلي يمثل مخروطاً؟					
---	------------------------	--	--	--	--	--

اختبار الفترة السادسة لمادة الرياضيات للصف الثالث الابتدائي لعام ١٤٤٣ هـ

اسم الطالب /...../ الصف /...../

	د		ج		ب		أ
---	---	---	---	---	---	---	---

السؤال الثاني :

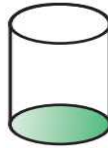


ج) أحدد اسم الجسم التالي ثم أصفه من حيث عدد الأوجه وعدد الأحرف وعدد الرؤوس



اسم الجسم
عدد الأوجه
عدد الأحرف
عدد الرؤوس

ب) اسمي الوجه المضلل في كل مما يلي:



.....

.....

.....

"أنتهت الأسئلة"

تمنياتي لکن بالتوفيق صغيراتي