

تم تحميل هذا الملف من موقع المناهج السعودية



*للحصول على أوراق عمل لجميع الصفوف وجميع المواد اضغط هنا

<https://www.almanahj.com/sa>

[30/sa/com.almanahj//:https](https://www.almanahj.com/sa/30)

* للحصول على أوراق عمل لجميع مواد مرحلة ابتدائية اضغط هنا

* للحصول على جميع أوراق مرحلة ابتدائية في مادة رياضيات ولجميع الفصول, اضغط هنا

<https://www.almanahj.com/sa/30math>

* للحصول على أوراق عمل لجميع مواد مرحلة ابتدائية في مادة رياضيات الخاصة بـ الفصل الأول اضغط هنا

<https://www.almanahj.com/sa/30math1>

* لتحميل كتب جميع المواد في جميع الفصول للـ مرحلة ابتدائية اضغط هنا

<https://www.almanahj.com/sa/grade30>

[sacourse/me.t//:https](https://www.almanahj.com/sa/course)


للحصول على جميع روابط الصفوف على تلغرام وفيسبوك من قنوات وصفحات: اضغط هنا



جدول الضرب إثراء وثراء
ابتدائية 34 بعنيزة

أوراق عمل بالهدف الوجداني

* احتراماً لآيات الله تذكر الآية قبل الإجابة ويكون تقييم الطالبة ذاتي

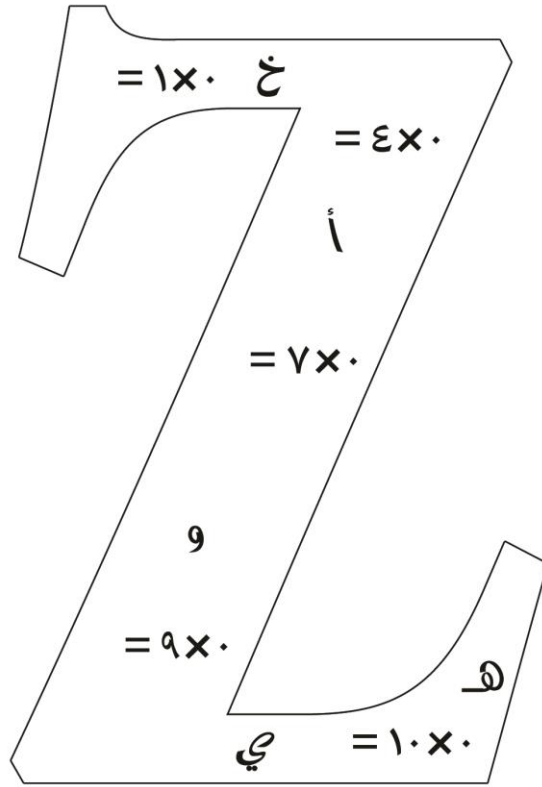


ابتدائية ٣٤ بعنيزة

اعداد المعلمة / الجوهرة علي الدهاسي


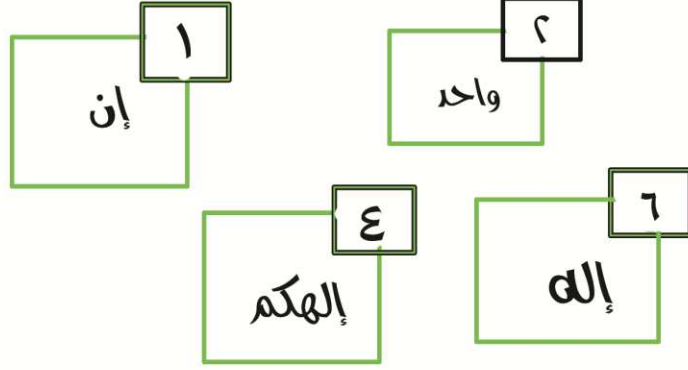
قائدة المدرسة / موزي سالم القرزعي

ساعدني السيد ذكي في حل المسائل التي تواجهني في الطريق حتى يلتقط الحروف
ويكون منها كلمة تكتمل بها الآية الكريمة في الأسفل



قال تعالى (وأحيط بثمره فأصبح يقلب كفيه على ما
أنفق فيها وهي على عروشها)

جدول ضرب الرقم واحد



صلي الإشكال التي ينتج عن عملية ضرب الأعداد بداخلها الأعداد التي في المربعات الصغيرة في الأعلى ومن ثم رتب الكلمات في المربعات الكبيرة واكتبها في السطر أدناه وتكوني بذلك قد ساعدتي الضفدع في عبور البحيرة

ابتدائية ٣٤ بعنيزة

اعداد المعلمة / الجوهرة علي الدهاسي

قائدة المدرسة / موزي سالم القرزعي

أجري عمليات الضرب التالية ومن ثم صلي
كل دائرة بالدائرة المناسبة لها

جدول ضرب اثنين



خلقنا

ومن

زوجين

$$= 3 \times 2$$

$$= 6 \times 2$$

شيء

كل

$$= 0 \times 2$$

$$= 1 \times 2$$

$$= 2 \times 2$$

$$= 8 \times 2$$

أثنين

$$2 = \text{شيء}$$

$$8 = \text{أثنين}$$

$$4 = \text{ومن}$$

$$12 = \text{خلقنا}$$

$$10 = \text{زوجين}$$

$$6 = \text{كل}$$

قال تعالى:

ابتدائية ٣٤ بعنيزة


اعداد المعلمة / الجوهرة علي الدهاسي

قائدة المدرسة / موزي سالم القرزعي



جدول ضرب

الرقم ثلاثة



أجري عمليات الضرب الآتية ومن ثم استبدلي
الأرقام بالحرف المناسب لها لتكملي الآية أدناه :

$$= 1 \times 3$$

$$= 3 \times 3$$

$$= 4 \times 3$$

$$= 6 \times 3$$

$$= 9 \times 3$$

ابتدائية ٣٤ بعنيزة

اعداد المعلمة / الجوهرة علي الدهاسي

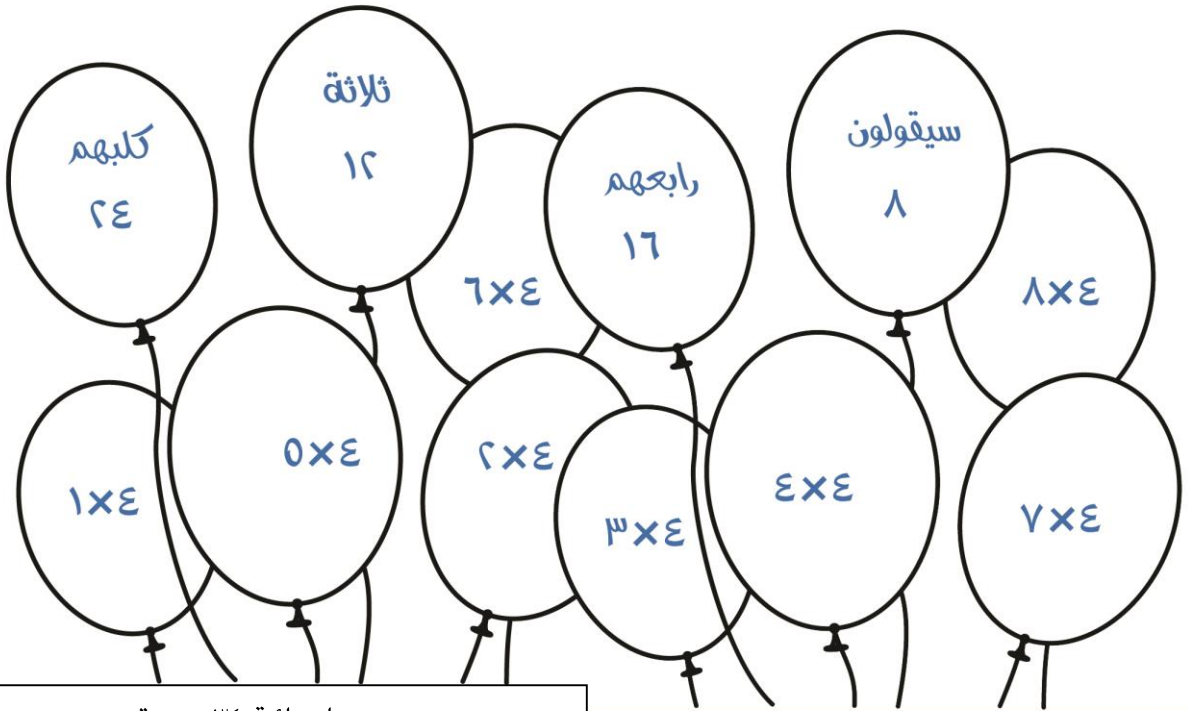
قائدة المدرسة / موزي سالم القرزعي

قال تعالى (لقد كفر الذين قالوا إن الله ثالث...)

جدول ضرب أربعة

لوني كل بالونين متناسبين مع بعضهما ثم رتبي
الكلمات حتى تعرفي الأية الكريمة

قال تعالى:



ابتدائية ٣٤ بعنيزة

اعداد المعلمة / الجوهرة علي الدهاسي

قائدة المدرسة / موزي سالم القرزعي

جدول ضرب الرقم خمسة

ابتدائية ٣٤ بعنيزة

اعداد المعلمة / الجوهرة علي الدهاسي


قائدة المدرسة / موزي سالم القرزعي

اصطادي السمكة المناسبة بعد النظر الى جدول الأرقام . . ومن ثم أستبدلي كل رقم بالحرف الموجود على السمكة
المناسبة ثم رتبي الحروف لتحصلي على الكلمة المناسبة لتكملي الآية

١٥	٥	٣٠	٢٠

قال تعالى

(مَا يَكُونُ مِنْ حُجُوبٍ ثَلَاثَةٌ إِلَّا لَهُمْ رَابِعُهُمْ وَلَا إِلَّا لَهُمْ سَادِسُهُمْ)



جدول ضرب العدد ستة

ساعدني العصفورة في تجميع كلمات الآية الكريمة ومن ثم كتابتها



$$= 6 \times 6$$

وَمَا بَيْنَهُمَا

$$= 0 \times 6$$

السَّمَاوَاتِ وَالْأَرْضِ

$$= 3 \times 6$$

وَلَقَدْ خَلَقْنَا

$$= 9 \times 6$$

مِنْ لُحُوبٍ

$$= 7 \times 6$$

وَمَا مَسَّنَا

$$= 4 \times 6$$

فِي سِتَّةِ أَيَّامٍ

قال تعالى

ابتدائية ٣٤ بعنيزة

اعداد المعلمة / الجوهرة علي الدهاسي

قائدة المدرسة / موزي سالم القرزعي

جول ضرب الرقم سبعة

صلي كدلاعب بالكرة المناسبة له . . ثم اجمعي الحروف لتكوني كلمة تكملني بها الآية أدناه


(أَلَمْ تَرَوْا كَيْفَ خَلَقَ اللَّهُ سَبْعَ سَمَاوَاتٍ)

ابتدائية ٣٤ بعنيزة







اعداد المعلمة / الجوهرة علي الدهاسي

قائدة المدرسة / موزي سالم القرزعي


جدول ضرب العدد
تسعة



أجري عمليات الضرب التالية ثم رتب الحروف لتحصلي على الآية الناقصة من النص القرآني الكريم



قال تعالى (وَلْيَتُوبَا فِي كَهْفِهِمْ ثَلَاثَ مِئَةٍ... وَأَزْدَادُوا تَسْعًا)



ابتدائية ٣٤ بعنيزة

اعداد المعلمة / الجوهرة علي الدهاسي

قائدة المدرسة / موزي سالم القرزعي

جدول ضرب العدد عشرة



$= 10 \times 10$
أمثالها

أجيب عن المسائل التالية ثم رتب الكلمات واكتب الأية الكريمة

$= 6 \times 10$

عشر

$= 7 \times 10$

فله

$= 3 \times 10$

بالحسنة

$= 0 \times 10$

من جاء

قال تعالى

.....

ابتدائية ٣٤ بعنيزة

اعداد المعلمة / الجوهرة علي الدهاسي

قائدة المدرسة / موزي سالم القرزعي