

## شكراً لتحميلك هذا الملف من موقع المناهج السعودية



## نماذج أسئلة إثرائية للصفين الأول والثاني

[موقع المناهج](#) ⇨ [المناهج السعودية](#) ⇨ [مرحلة ابتدائية](#) ⇨ [رياضيات](#) ⇨ [الفصل الثالث](#) ⇨ [الملف](#)

تاريخ نشر الملف على موقع المناهج: 06:45:24 2023-04-08

## التواصل الاجتماعي بحسب مرحلة ابتدائية



## المزيد من الملفات بحسب مرحلة ابتدائية والمادة رياضيات في الفصل الثالث

<a href="#">مراية اختبار نهائي</a>	1
<a href="#">نماذج أسئلة إثرائية للصفين الأول والثاني</a>	2
<a href="#">إجابات الاختبار الوزاري للصفوف العليا</a>	3
<a href="#">خطة توزيع منهج الرياضيات للصفوف الأولية</a>	4
<a href="#">مراية الإختبار النهائي للصفوف العليا</a>	5

# نماذج أسئلة إثرائية لمادة الرياضيات للصفوف الأولية



قائدة المدرسة ب ٥٣  
سلمى الثقفي

معلمة المادة  
جواهر البقمي

مشرفة الصفوف الأولية  
آمنة السيد



# الصف الأول



قائدة المدرسة ب ٥٣  
سلمى الثقفي

معلمة المادة  
جواهر البقمي

مشرفة الصفوف الأولية  
آمنة السيد



## اسئلة إثرائية :

الاسم : .....

الصف: الأول

اليوم: .....

التاريخ: / / ١٤٤١هـ

## الدرجة

قائدة المدرسة ب ٥٣  
سلمى الثقفي

معلمة المادة  
جواهر البقمي

مشرفة الصفوف الأولية  
آمنة السيد



الطالب/ة: ..... الصف: الأول اليوم: ..... التاريخ: / / ١٤٤١ هـ

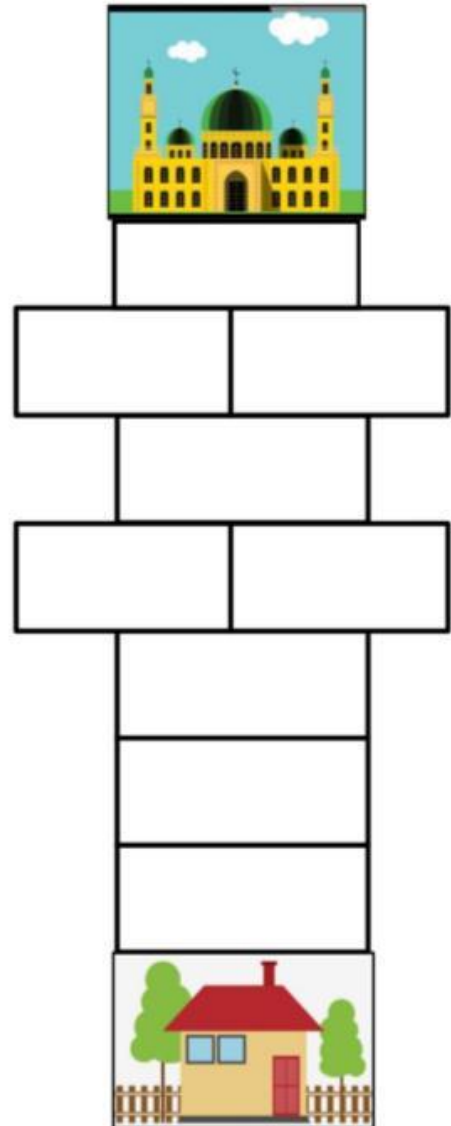
الدرجة المستحقة

١٠

أسئلة إثرائية

### • السؤال الأول:

• أرقم المربعات التالية بتسلسل أرقام خطواتي إلى المسجد:-



انتهت الاسئلة

# الصف الثاني



قائدة المدرسة ب ٥٣  
سلمى الثقفي

معلمة المادة  
جواهر البقمي

مشرفة الصفوف الأولية  
أمه السيد



## اسئلة إثرائية :

الاسم : .....

الصف: الثاني

اليوم: .....

التاريخ: / / ١٤٤١هـ

## الدرجة

قائدة المدرسة ب ٥٣  
سلمى الثقفي

معلمة المادة  
جواهر البقمي

مشرفة الصفوف الأولية  
أمنه السيد



الطالب/ة: ..... الصف: الثاني اليوم: ..... التاريخ: / / ١٤٤١ هـ

الدرجة المستحقة

١٦

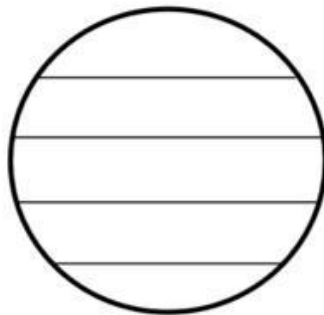
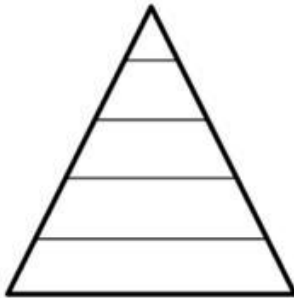
### اسئلة إثرائية

#### • السؤال الأول:

• أصنف الأعداد وأكتبها داخل الشكل الصحيح:-

- ١- الأعداد التي رقم العشرات فيها أكبر من ٥ ، توضع في الدائرة.
- ٢- الأعداد التي رقم العشرات فيها أصغر من ٥ ، توضع في المستطيل.
- ٣- أكتب الأعداد التي تقع بين ٤٠ و ٧٠ في المثلث.

٤٤	٧٥	٢١	١٦	٩٣	٦٧	٨٨
٨٢	٦	٩٠	٧٧	٣٤	٩٢	٤٢




انتهت الاسئلة