

تم تحميل هذا الملف من موقع المناهج السعودية



الملف نموذج اختبار قياس موهبة تجريبي (المستوى الأول)

[موقع المناهج](#) ← [المناهج السعودية](#) ← [مرحلة ابتدائية](#) ← [رياضيات](#) ← [الفصل الأول](#)

الملف نموذج اختبار قياس موهبة تجريبي (المستوى الأول)

[موقع المناهج](#) ← [المناهج السعودية](#) ← [مرحلة ابتدائية](#) ← [رياضيات](#) ← [الفصل الأول](#)

المزيد من الملفات بحسب مرحلة ابتدائية والمادة رياضيات في الفصل الأول

<a href="#">الدليل المساعد في تدريس الرياضيات</a>	1
<a href="#">حقيبة الخطط العلاجية لمادة الرياضيات</a>	2
<a href="#">أوراق قياس رياضيات صفوف أولية</a>	3
<a href="#">اختبار رياضيات صفوف عليا ابتدائية</a>	4
<a href="#">ورقة عمل مظاهر الضعف في مادة الرياضيات للصفوف الأولية</a>	5



المركز الوطني للقياس  
National Center for Assessment

almanahj.com/sa

المناهج السعودية

# نموذج اختبار تجريبي

المستوى الأول

باللغة العربية

المركز الوطني للقياس  
National Center for Assessment



## (المستوى الأول)

أولاً: الاستدلال اللغوي وفهم المقروء:

١. المطلوب تحديد الاختيار الذي ترتبط فيه الكلمتان بنفس علاقة الكلمتين في رأس السؤال:

إطار: صورة

أ- سياج: منزل  
ب- كتاب: رف  
ج- رأس: قبعة  
د- ألوان: ريشة

almanahj.com/sa  
المنهج السموية

٢. املا الفراغ بكلمة تعطي علاقة مشابهة لما فوق الخط:

الكهرباء – المصباح – الإضاءة  
الوقود - السيارة -

أ- الإطارات  
ب- المحرك  
ج- المفتاح  
د- الحركة

٣. عبد الله أكبر من عبد الرحمن، الذي هو بين عبد الرحيم وعبد الملك. فمن ثالثهم في الترتيب من الأكبر إلى الأصغر؟

أ- عبد الله  
ب- عبد الرحمن  
ج- عبد الرحيم  
د- عبد الملك

٤. المطلوب تحديد المقصود مما تحته خط وفقاً لمحتوى العبارة:

ذهبت أمي إلى المستشفى وهي تعاني من صداع شديد. أعطها الطبيب مجموعة أدوية، ونصحها بتناول التفوت بعد غليه، وعليه فإن (التفوت) يستخدم في:

- أ- الطهي  
ب- العلاج  
ج- التغذية  
د- التعقيم

almanahj.com/sa  
المنهج السموية

٥. تترين منازلنا بالتلفاز لمشاهدة الأفلام. يفهم من العبارة السابقة أن التلفاز:

- أ- للتسلية  
ب- للزينة  
ج- للعب  
د- للتعلم

## ثانياً: الاستدلال الرياضي والمكاني

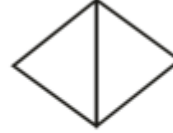
١. فيما يأتي أشكال مبنية من أعواد خشبية.

ما عدد الأعواد اللازمة لعمل ١٥ مثلثاً متطابق الأضلاع في صف واحد؟

؟  
almanahj.com/sa  
المنهج السهووية



٧ أعواد



٥ أعواد



٣ أعواد

ب- ٢٩

أ- ٢٨

د ٣١

ج- ٣٠

٢. في إحدى العمارات المرتفعة غادر منصور مكتبه، فصعد ٨ أدوار، ثم هبط ١٠ أدوار،

ثم صعد ضعف الدور الذي أصبح فيه ليجد نفسه في الدور ٤٤. في أي دور يقع مكتب منصور؟

ب- ٢٤

أ- ٢٢

د- ٢٨

ج- ٢٦

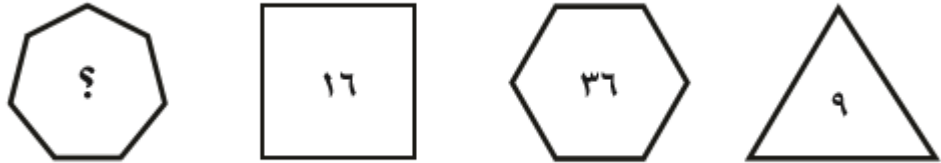
٣. ما الشكل الذي يجب وضعه في النمط الآتي؟



أ -  - ب -   
ج -  - د - 

almanahj.com/sa  
المنهج السعودية

٤. ما الرقم الذي يوضع مكان علامة الاستفهام في الشكل الآتي؟



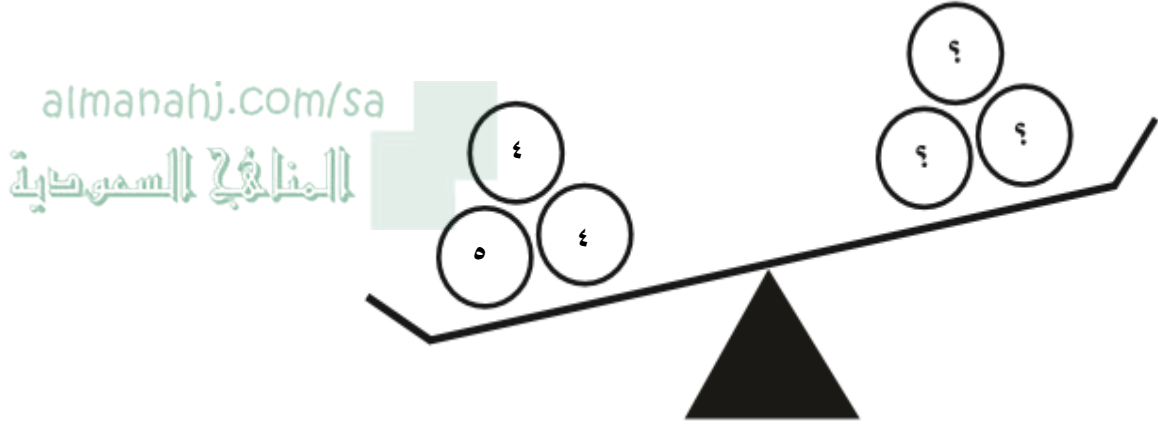
ب - ٤٩

أ - ٧

د - ٨١

ج - ٦٤

٥. ما العدد الذي يجب وضعه مكان علامات الاستفهام ليبقى الميزان كما في الشكل؟



ب- ٥

أ- ٤

د- ٧

ج- ٦

## ثالثاً: الاستدلال العلمي والميكانيكي

١. نحن نستخدم النماذج المجسّمة كثيراً في التعلم، فأي الأشكال أدناه يمكننا القول بأنه نموذج؟



(٤) المنهج السردية

(٣)

(٢)

(١)

ب- ٢

د- ٤

أ- ١

ج- ٣

٢. أي الآتي يمثل مراحل دورة الحياة لهذه الفراشة؟



٥

٤

٣

٢

١

ب- ٢-١-٣-٥-٤

د- ٥-١-٤-٢-٣

أ- ٤-١-٥-٣-٢

ج- ٢-٥-٤-١-٣

٣. على ماذا يدل ظهور سائل على جدار إناء زجاجي بداخله ماء بارد؟  
يدل على عملية:

أ- تبخر

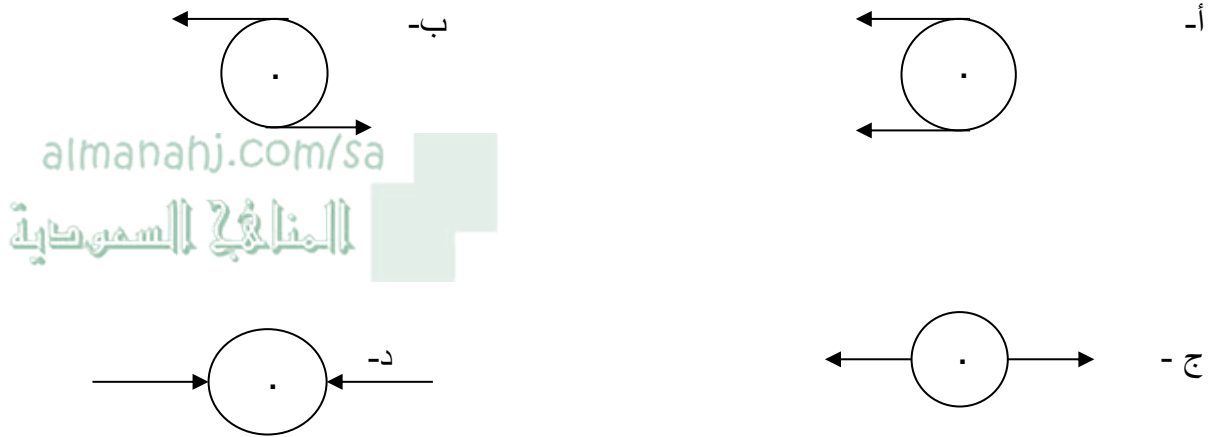
ب- تجمد

ج- انصهار

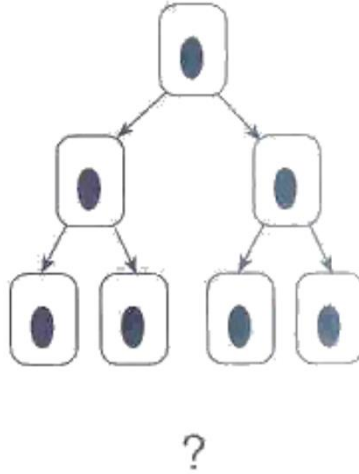
د- تكثف



٤. عجلة منتظمة، لها حرية الدوران حول محور يمر في مركزها. إذا أثرت عليها قوتان متساويتان في نفس المستوى، فأى الأشكال الآتية يُعبر عن دورانها؟



٥. يمثل الشكل الآتي ثلاثة أجيال من انقسام خلية. ما عدد الخلايا في الجيل الرابع؟



ب- ٨

د- ٣٢

أ- ٤

ج- ١٦

## رابعًا: المرونة العقلية

١. يتضمن السؤال مقدمة غير واقعية، المطلوب اختيار الإجابة التي تتناسب مع العلاقة غير الواقعية.

النار باردة.

الصيف حار.

إذن، النار .....

أ- مضيئة      ب- دافئة      ج- محرقة      د- مجمدة

almanahj.com/sa

المنهج السمويّة

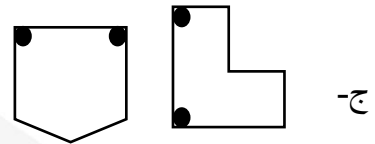
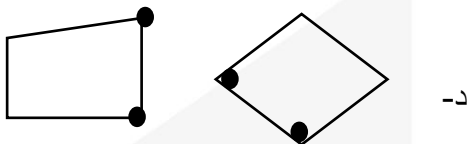
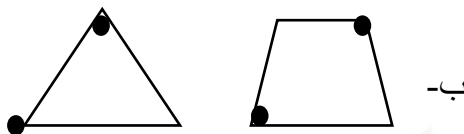
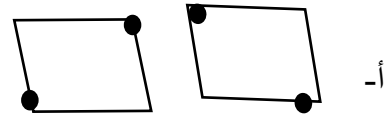
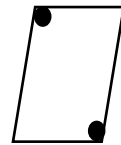
٢. في السؤال الآتي كلمة يتبعها أربعة أزواج من الكلمات، المطلوب اختيار الإجابة التي تتناسب معها من حيث الفئة.

### أسد

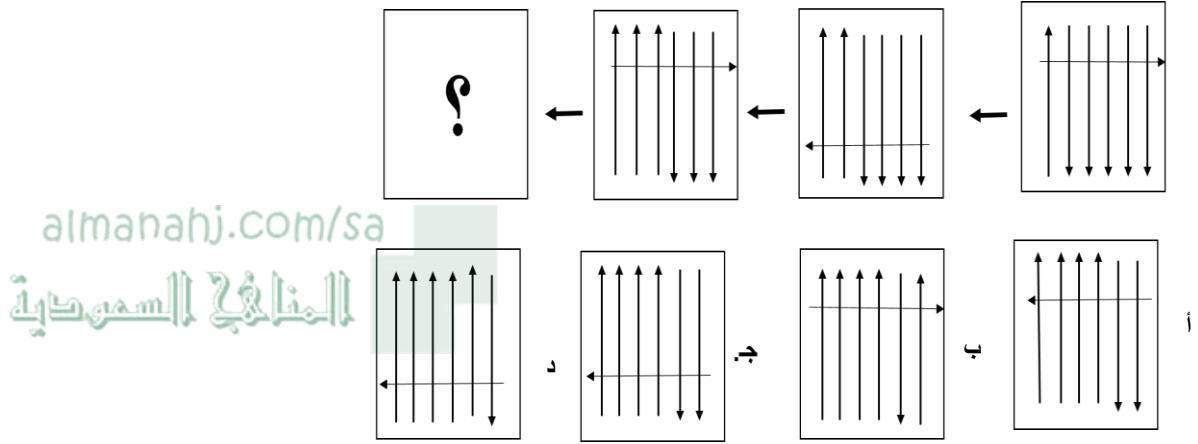
أ- ثور - حمار      ب - نمر - سنجاب

ج - ذئب - فهد      د- ضبع - غزال

٤. في السؤال الآتي شكل يتبعه أربعة أزواج من الأشكال، المطلوب تحديد الزوج الذي يناسب الشكل من حيث الفئة.



٤. لإكمال التسلسل الصحيح، ما الشكل المناسب الذي يجب وضعه مكان علامة الاستفهام؟



٥. يذهب خالد لمشاهدة كرة القدم مع زملائه عوضًا عن الجلوس في المنزل. إذاً هو:

أ- يفضّل مخالطة الآخرين

ب- يحبُّ مشاهدة المباريات

ج- يستمتع بلعب كرة القدم

د- يحرص على زيارة زملائه

alimahajj.com/sa  
المناهج السعودية



# المركز الوطني للقياس

National Center for Assessment



www.etec.gov.sa

هيئة تقويم التعليم والتدريب  
Education & Training Evaluation Commission

