

تم تحميل هذا الملف من موقع المناهج السعودية



موقع المناهج المنهاج السعودي

*للحصول على أوراق عمل لجميع الصفوف وجميع المواد اضغط هنا

<https://www.almanahj.com/sa>

* للحصول على أوراق عمل لجميع مواد ملفات مدرسية اضغط هنا

<https://almanahj.com/sa/>

* للحصول على جميع أوراق ملفات مدرسية في مادة رياضيات ولجميع الفصول, اضغط هنا

<https://almanahj.com/sa/math>

* للحصول على أوراق عمل لجميع مواد ملفات مدرسية في مادة رياضيات الخاصة بـ الفصل الأول اضغط هنا

<https://www.almanahj.com/sa/math1>

* لتحميل كتب جميع المواد في جميع الفصول للـ ملفات مدرسية اضغط هنا

<https://www.almanahj.com/sa/grade>

للحصول على جميع روابط الصفوف على تلغرام وفيسبوك من قنوات وصفحات: اضغط هنا

<https://t.me/sacourse>

اختبار مادة الرياضيات (الدور الأول) للصف الفصل الأول للعام الدراسي ١٤٤٠-١٤٤١ هـ

اسم الطالبية رقم الجلوس :


رقم السؤال	الدرجة رقما	الدرجة كتابة	اسم المصححة	اسم المراجعة	اسم المدققة
السؤال الأول					
السؤال الثاني					
السؤال الثالث					
المجموع					

السؤال الأول :

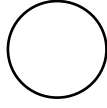
(أ) لكل فقرة مما يلي ٤ إجابات، واحدة منها فقط صحيحة، اختاري الإجابة الصحيحة:

١	أ	ب	ج	د
٢	أ	ب	ج	د
٣	أ	ب	ج	د
٤	أ	ب	ج	د
٥	أ	ب	ج	د
٦	أ	ب	ج	د
٧	أ	ب	ج	د
٨	أ	ب	ج	د
٩	أ	ب	ج	د
١٠	أ	ب	ج	د

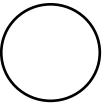
(ب)




(ج)



(د)



السؤال الثاني :



أ أكمل العبارات التالية بالإجابة الصحيحة:

(١)

(٢)

(٣)

(٤)

(٥)

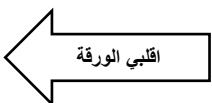
(٦)

(٧)


(٨)

(٩)


(١٠)



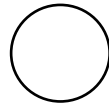
(ب)




(ج)



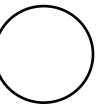
(د)



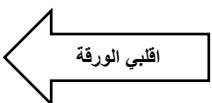

السؤال الثالث :




(أ)




(ب)



(ج)



(د)



انتهت الأسئلة

معلمة المادة: