

تم تحميل هذا الملف من موقع المناهج السعودية



الملف اختبار الفترة الأولى

[موقع المناهج](#) ← [المناهج السعودية](#) ← [الصف الرابع](#) ← [رياضيات](#) ← [الفصل الثالث](#)

الملف اختبار الفترة الأولى

[موقع المناهج](#) ← [المناهج السعودية](#) ← [الصف الرابع](#) ← [رياضيات](#) ← [الفصل الثالث](#)

المزيد من الملفات بحسب الصف الرابع والمادة رياضيات في الفصل الثالث

ورقة عمل وحدات الكتلة في النظام المتري	1
واجب وحدات السعة والكتلة	2
دفتر الرياضيات للفصل الثالث	3
اختبار الفصل التاسع القياس	4
أوراق عمل فصل القياس	5

اسم الطالبة: الصف الرابع (.....)

٢٠

السؤال الأول: اختر الإجابة الصحيحة لكل مما يوضع دائرة عليها:

أفضل تقدير لطول القارب :

أ ٦سم ب ٢م ج ٦ملم د ٥كم

أفضل تقدير لطول مدرج طائرات

أ ٥ملم ب ٥كم ج ٥م د ٥٠سم

almanahj.com/sa

الوحدة المناسبة لقياس طول كتاب مدرسي

أ سم ب ملم ج كلم د م

الكيلو متر وحدة مناسبة لقياس ...

أ طول نملة ب المسافة من الخرج للرياض ج طول قلم سبورة د طول غرفة

التقدير المناسب لكتلة حبة الفراولة

أ ٢٥جم ب ٥٠كجم ج ٥سم د ٥٠٠٠ملم

٣ ذكر قاسم انه شرب ٣ لتر من الماء بعد مباراة كرة القدم هل هذا معقول؟

أ نعم معقول ب لا غير معقول

مستطيل طوله ٧م وعرضه ٥م فما مساحة المستطيل ؟

أ ٨متر مربع ب ٣٥متر مربع ج ١٦متر مربع د ١٢متر مربع

أفضل تقدير لطول الباب ؟

أ ٢ كلم ب ج د


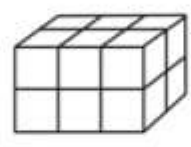


لوحة مربعة الشكل طول ضلعها ٩سم فما مساحتها ؟

أ ٩سم مربع ب ٨١سم مربع ج ١٨سم د ٣٦سم مربع

أي الوحدات التالية الأفضل لقياس كتلة سيارة؟

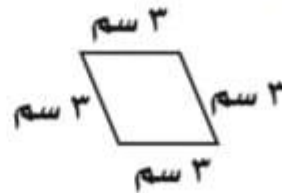
أ اللتر ب الكيلوجرام ج الجرام د المتر

س١ / اختار الإجابة الصحيحة لكل مما يلي :

أفضل تقدير لطول الحافلة هو:							
أ	١ متر	ب	١٠ أمتار	ج	١٠ سنتيمترات	د	١٠ كيلومترات
أي مما يلي يعد طولاً يساوي ١٠ سنتيمترات؟							
أ	الشجرة	ب	النافذة	ج	الإصبع	د	الخروف
أي مما يلي يعد التقدير الأنسب لقياس سعة الشكل المجاور؟							
							
أ	٢ مللتر	ب	٢ لتر	ج	٢٠٠ مللتر	د	٢٠٠ لتر
الوحدة المناسبة لقياس سعة حوض السباحة							
أ	لتر	ب	كلم	ج	مللتر	almanahj.com/sa	
أي الوحدات التالية تعد الأفضل لقياس كتلة قطعة شوكولاتة؟							
أ	لتر	ب	الجرام	ج	الكيلوجرام	د	المتر
ما حجم الجسم في الشكل المجاور؟							
							
أ	١٠ وحدات مكعبة	ب	٦ وحدات مكعبة	ج	٨ وحدات مكعبة	د	١٢ وحدة مكعبة
كم تكون الساعة بعد ساعة وعشر دقائق؟							
							
أ	١٠:٣٠	ب	١١:٣٠	ج	١١:٢٠	د	١١:٠٠
ما مساحة الشكل المجاور؟							
							
أ	١٤ وحدة مربعة	ب	١٢ وحدة مربعة	ج	١٦ وحدة مربعة	د	١٣ وحدة مربعة

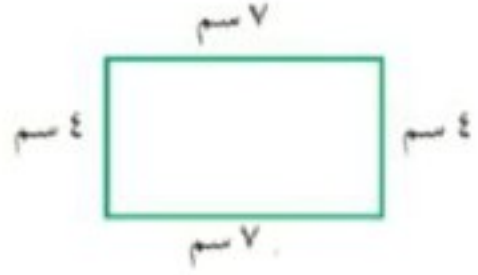
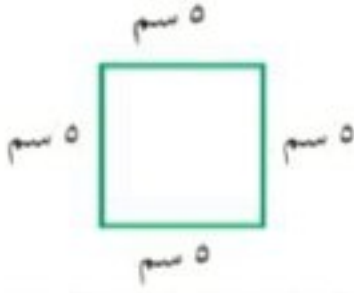
س٣ (اشترى محمود سجادة لغرفته طولها ٥ م و عرضها ٤ م ، فما مساحتها ؟

س٢ (أوجد محيط الشكل المجاور؟



السؤال الثاني:

أوجد محيط كل شكل

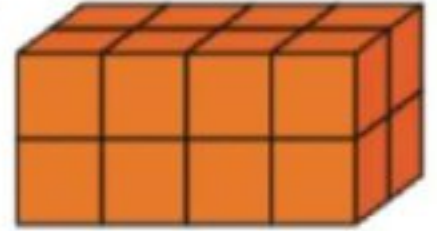


almanahj.com/sa

المنهج المصري

السؤال الثالث:

أوجد حجم الجسم التالي



السؤال الرابع:

ما طول الفترة الزمنية من الساعة ٤:١٥ مساءً وحتى الساعة ٥:٣٠ مساءً؟

السؤال الخامس:

اكتب الكسر الذي يمثل الجزء المظلل

