

تم تحميل هذا الملف من موقع المناهج السعودية



الملف ورقة عمل الفصل الثالث الضرب

[موقع المناهج](#) ⇨ [المناهج السعودية](#) ⇨ [الصف الرابع](#) ⇨ [رياضيات](#) ⇨ [الفصل الثاني](#)

الملف ورقة عمل الفصل الثالث الضرب

[موقع المناهج](#) ⇨ [المناهج السعودية](#) ⇨ [الصف الرابع](#) ⇨ [رياضيات](#) ⇨ [الفصل الثاني](#)

المزيد من الملفات بحسب الصف الرابع والمادة رياضيات في الفصل الثاني

<a href="#">تحميل كتاب الرياضيات</a>	1
<a href="#">الكسور الاعتيادية</a>	2
<a href="#">الأسئلة المفسوحة للصف الرابع</a>	3
<a href="#">دليل اختبارات TIMSS</a>	4
<a href="#">دليل التقويم</a>	5

## ورقة عمل الفصل الثالث ( الضرب )

الاسم /

رابع /

السؤال الأول / أجري مسح على عدد من الطلاب حول الفاكهة المفضلة لديهم فكانت على النحو التالي نظم هذه البيانات في لوحة إشارات :

الفاكهة	التكرار

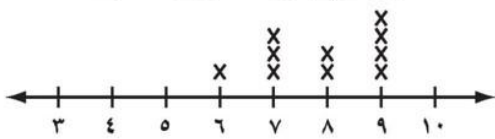
الفاكهة المفضلة لعدد من الطلاب		
التفاح	الموز	البرتقال
البرتقال	التفاح	الموز
التفاح	الموز	البرتقال
الموز	البرتقال	التفاح
البرتقال	الموز	التفاح
الموز	البرتقال	التفاح
البرتقال	الموز	التفاح

السؤال الثاني / يتدرب فهد على حمل الأثقال حيث يكرر تمرينه ١٢ مرة في اليوم فإذا كان يتدرب ٥ أيام في الأسبوع ، فكم يكرر تمرينه في ٤ أسابيع ؟

السؤال الثالث / يوضح التمثيل بالنقاط أدناه عدد

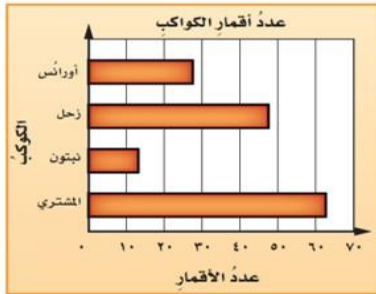
ساعات النوم لعدد من الأشخاص . ما الزمن الذي يقضيه أكبر عدد منهم في النوم ؟

زمن النوم لبعض الأشخاص ( بالساعات )




السؤال الرابع / التمثيل بالأعمدة التالي يبين عدد أقمار

بعض الكواكب . أستعمل التمثيل لتحديد كم يزيد عدد أقمار المشتري على عدد أقمار نبتون ؟



السؤال الخامس / مكعب نرد مرقم من ١ إلى ٦ . ما عدد النواتج

الممكنة لتجربة رمي المكعب مرتين ؟



السؤال السادس / صندوق يحتوي على عشر بطاقات مرقمة من ١ إلى ١٠ سحبة بطاقة من الصندوق دون النظر إليها . صف احتمال النواتج استعمل ( مؤكد ، أكثر احتمال ، متساوي ، أقل احتمال ، مستحيل ) ؟

- ( ب ) ١١  
( د ) أقل من ١٢

- ( أ ) عدد زوجي  
( ج ) ٤  
( ج ) أكبر من ٣