

تم تحميل هذا الملف من موقع المناهج السعودية



نموذج اختبار نهائي مرفق بالحل

[موقع المناهج](#) ← [المناهج السعودية](#) ← [الصف الرابع](#) ← [علوم](#) ← [الفصل الثالث](#) ← [الملف](#)

تاريخ إضافة الملف على موقع المناهج: 2024-05-27 13:59:39


التواصل الاجتماعي بحسب الصف الرابع



اضغط هنا للحصول على جميع روابط "الصف الرابع"

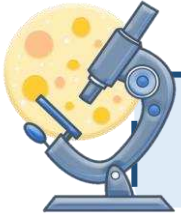
المزيد من الملفات بحسب الصف الرابع والمادة علوم في الفصل الثالث

أسئلة اختبار نهائي الدور الأول	1
نماذج متنوعة لاختبارات نهائية	2
أسئلة مراجعة عامة محلولة	3
ملخص مهارات العلوم	4
مراجعة محلولة للفصل العاشر الحرارة، الكهرباء المغناطيسية	5



اختبار نهاية الفصل الدراسي الثالث
مادة العلوم للصف الرابع ابتدائي (الدور الأول)

للعام الدراسي ١٤٤٥ هـ



اسم الطالبة : رقم الجلوس :

رقم السؤال	الدرجة رقماً	الدرجة كتابةً	المصححة	المراجعة	المدققة
السؤال الأول (١٠)			أطب الزهراني		
السؤال الثاني (٢٠)					
السؤال الثالث (١٠)					
مجموع الدرجات					



أعمل بصمت ودع النجاح يحدث الضجيج

work hard in silence, let success make the noise

السؤال الأول (اختار الإجابة الصحيحة):



١٠



١- ما الذي يقيسه الجهاز المستخدم بالسيارات في الصورة المجاورة

أ	الاحتكاك	ب	الجاذبية	ج	السرعة	د	التسارع
---	----------	---	----------	---	--------	---	---------

٢- المغناطيسات عندما تكون الأقطاب المتقابلة متشابهة فإنها:

أ	تتنافر	ب	تتجاذب	ج	لا تتأثر	د	تهتز
---	--------	---	--------	---	----------	---	------

٣- أي التغيرات التالية تغير فيزيائي:

أ		ب		ج		د	
---	--	---	--	---	--	---	--

٤- يمثل تحول الطاقة الكهربائية إلى حركية:

أ		ب		ج		د	
---	--	---	--	---	--	---	--

٥- ما القوة المسؤولة عن تسارع جسم يسقط نحو الأرض عند افلاته:

أ	الاحتكاك	ب	الجاذبية	ج	القصور الذاتي	د	الدفع
---	----------	---	----------	---	---------------	---	-------

٦- أي التغيرات التالية تغير كيميائي:

أ		ب		ج		د	
---	--	---	--	---	--	---	--

٧- وحدة قياس الطول هي :

أ	الكيلوجرام	ب	نيوتن	ج	لتر	د	متر
---	------------	---	-------	---	-----	---	-----

٨- الأداة المستخدمة لفصل مخلوط من الأرز و الدقيق هي:

أ		ب		ج		د	
---	--	---	--	---	--	---	--

٩- تمثل جسيمات المادة السائلة:

أ		ب		ج		د	
---	--	---	--	---	--	---	--

١٠- الأداة التي تستخدم لقياس الكتلة هي:

أ		ب		ج		د	
---	--	---	--	---	--	---	--



التغير الكيميائي

الكثافة

المخلوط

التغير الفيزيائي

السرعة

الحرارة

الكهرباء الساكنة

تجمع الشحنات الكهربائية على سطح جسم ما.	(١) الكهرباء الساكنة
المسافة التي يقطعها جسم في زمن معين.	(٢) السرعة
مقدار الكتلة في وحدة حجم واحد.	(٣) الكثافة
انتقال الطاقة الحرارية من الجسم الساخن الى الجسم البارد.	(٤) الحرارة
تغير ينتج عنه مادة جديدة.	(٥) التغير الكيميائي
مادتان او أكثر تختلطان معاً بحيث تحافظ كل منهما على خصائصها الاصلية.	(٦) المخلوط

ب- (أضع علامة ✓ او ✗ امام العبارات التالية):



١- تصنع مقابض اواني الطبخ من مواد عازلة.	✓
٢- المادة كل شي له كتلة ويشغل حيزا.	✓
٣- التبخر هو تحول المادة من الحالة السائلة الى الحالة الصلبة.	✗
٤- القوى الغير متزنة قوى متساوية في المقدار ومتعاكسة في الاتجاه.	✗
٥- الأرض محاطة بمجال مغناطيسي غير مرئي.	✓
٦- تقاس القوة بوحدة الجرام.	✗
٧- درجة غليان الماء ٥٠ درجة سلسيوس.	✗
٨- يمكن فصل الملح من محلول ماء وملح عن طريق التبخير.	✓



صدأ الحديد



غلي الماء



تقطيع البندورة



حرق الخشب

ج- (اصنف التغيرات التالية حسب الجدول):

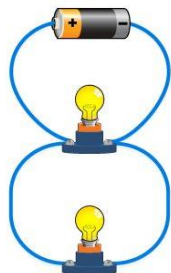


التغيرات الكيميائية	التغيرات الفيزيائية
حرق الخشب صدأ الحديد	تقطيع البندورة غلي الماء

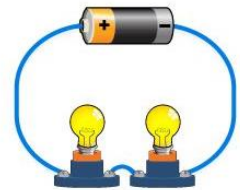
د- (ابين نوع الدائرة الكهربائية في كلاً مما يلي):



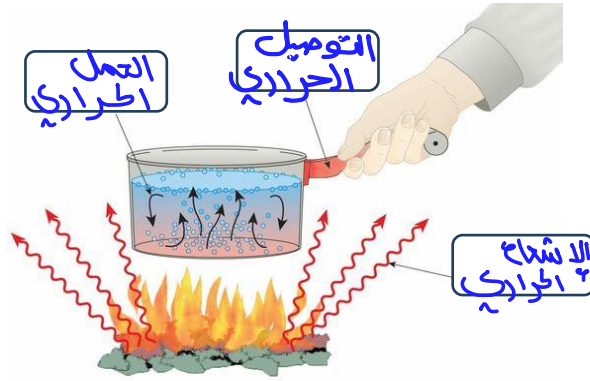
على التوالي



على التوازي



السؤال الثالث أ- (اضع الكلمات التالية في مكانها المناسب):



التوصيل الحراري

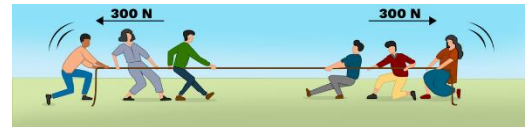
الاشعاع الحراري

الحمل الحراري

ب- أكمل الفراغات التالية بما يناسبها:



- ١- يقاس الوزن باستخدام **الميزان** ووحدته قياسه **نيوتن**
 ٢- من دلائل حدوث التغير الكيميائي **فقايعات الغاز**
 ٣- **الإحتكاك** قوة تعيق حركة الاجسام.
 ٤- يحدث البرق بسبب تفريغ **الكهرباء الساكنة**



لا يتحرك الحبل لأن

القوى متزنة

يتحرك الحبل باتجاه القوة **الأكبر**
 وهي قوى **غير متزنة**

تم الحل بواسطة: غيثة عطاء..

@cloud_s86



الشخص الوحيد الذي يمكن ان يقرر نجاحك هو أنت

انتهت الأسئلة

دعواتي لكن بالتوفيق والنجاح

المعلمة: أمل الزهراني