

تم تحميل هذا الملف من موقع المناهج السعودية



موقع المناهج المنهاج السعودي

* للحصول على أوراق عمل لجميع الصفوف وجميع المواد اضغط هنا

<https://www.almanahj.com/sa>

* للحصول على أوراق عمل لجميع مواد الصف الرابع اضغط هنا

<https://almanahj.com/sa/4>

* للحصول على جميع أوراق الصف الرابع في مادة رياضيات ولجميع الفصول, اضغط هنا

<https://almanahj.com/sa/4math>

* للحصول على أوراق عمل لجميع مواد الصف الرابع في مادة رياضيات الخاصة بـ الفصل الأول اضغط هنا

<https://www.almanahj.com/sa/4math1>

* لتحميل كتب جميع المواد في جميع الفصول للـ الصف الرابع اضغط هنا

<https://www.almanahj.com/sa/grade4>

للحصول على جميع روابط الصفوف على تلغرام وفيسبوك من قنوات وصفحات: اضغط هنا

<https://t.me/sacourse>

بِسْمِ اللَّهِ الرَّحْمَنِ الرَّحِيمِ

رقم النشاط/
زمن النشاط/
نوعها/
الصف :

ورقة عمل
المادة/ رياضيات
الموضوع/ القيمة المنزلية ضمن مئات الألف
فردية
الإسم :

*** اكتب كل مما يلي بالصيغتين القياسية والتحليلية

1) خمسة وعشرين ألفا وأربع مئة وثمانية .

الحل :

2) سبع مئة وواحد وستين ألفا وثلاث مئة وستة وخمسين .

الحل :

بِسْمِ اللَّهِ الرَّحْمَنِ الرَّحِيمِ

رقم النشاط/
زمن النشاط/
نوعها/
الصف :

ورقة عمل
المادة/ رياضيات
للموضوع / القيمة المنزلية ضمن الملايين
فردية
الإسم :

*** اكتب كل مما يلي بالصيغتين القياسية والتحليلية

1) تسع مئة وخمس مئة واثنين وخمسين .

الحل :

2) مئتين وستا وأربعين مليوناً وتسع مئة الف وثمانية عشر .

الحل :

بِسْمِ اللَّهِ الرَّحْمَنِ الرَّحِيمِ

رقم النشاط/

زمن النشاط/

نوعها/

الصف :

ورقة عمل

المادة/ رياضيات

الموضوع/ مهارة حل المسألة
فردية


الإسم :
الرابع

*** استعملي الخطوات الأربع لحل المسألة التالية :

- قام خالد وأصدقاؤه الخمسةُ بزيارة مدينة الألعاب الترفيهية. فإذا كان ثمن تذكرة الدُّخولِ 12 ريالاً، فما إجماليُّ ثمن تذاكر دُخولهم إلى مدينة الألعاب؟



الحل:



بِسْمِ اللَّهِ الرَّحْمَنِ الرَّحِيمِ

رقم النشاط/

زمن النشاط/

نوعها/

الصف :

ورقة عمل

المادة/ رياضيات

الموضوع/ المقارنة بين الأعداد
فرديه

الإسم :

قَدَّرَتْ إِدارةُ المصائدِ البحريَّةِ بوزارةِ الزِّراعةِ عددَ قواربِ صيدِ الأسماكِ في الخليجِ العربيِّ والبحرِ الأحمرِ عامَ 1422 بـ 10220 قاربًا، بينما قَدَّرَتْهُ في عامِ 1423 بـ 10785 قاربًا، في أيِّ العامينِ كانَ التقديرُ أكبرَ؟



الحل :

بِسْمِ اللَّهِ الرَّحْمَنِ الرَّحِيمِ

رقم النشاط/
زمن النشاط/
نوعها/ فردية
الصف :

ورقة عمل
المادة/ رياضيات
الموضوع/ ترتيب الأعداد
الإسم :
الرابع

*** رتبي الأعداد التالية من الأكبر الى الأصغر :

٦٥٤٣ ، ٣٤٦٥ ، ٤٣٥٦ ، ٣٤٥٦

الحل :

بِسْمِ اللَّهِ الرَّحْمَنِ الرَّحِيمِ

رقم النشاط/
زمن النشاط/
نوعها/ فردية
الصف :

ورقة عمل
المادة/ رياضيات
الموضوع/ تقريب الأعداد
الإسم :
الرابع

س: يبلغ قطر كوكب زحل 120536 كلم.
قربى هذا العدد إلى أقرب ألف.

الحل:

رقم النشاط/
زمن النشاط/
نوعها/
الصف :

ورقة عمل
المادة/ رياضيات
الموضوع/ استقصاء حل مسألة
فردية
الإسم :

اختاري أفضل خطة لحل المسألة التالية :

س : اشترى والد طارق 8 تُحَفٍ، فإذا كان ثمنُ
التُّحفةِ الواحدةِ 11 ريالاً فكم ريالاً دفعَ للبائع؟

المطلوبُ: كم ريالاً دفعَ والدُ طارقٍ للبائع؟

الحل :

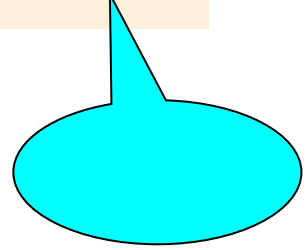
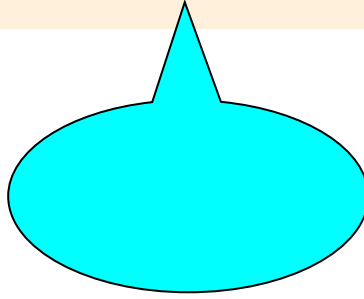
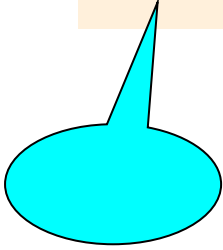
بِسْمِ اللَّهِ الرَّحْمَنِ الرَّحِيمِ

رقم النشاط/
زمن النشاط/
نوعها/
الصف :

ورقة عمل
المادة/ رياضيات
الموضوع/ الفصل الثاني (الجمع والطرح)
فردية
الإسم :

س1 : أوجدني ناتج الطرح لكل مما يأتي :

$$\begin{array}{r} 47 \\ -19 \\ \hline \end{array}$$
$$\begin{array}{r} 31 \\ -7 \\ \hline \end{array}$$
$$\begin{array}{r} 26 \\ -9 \\ \hline \end{array}$$



بِسْمِ اللَّهِ الرَّحْمَنِ الرَّحِيمِ

رقم النشاط/
زمن النشاط/
نوعها/ فردية
الصف :

ورقة عمل
المادة/ رياضيات
الموضوع/ خصائص الجمع وقواعد الطرح
الإسم :
الرابع

س : اجمعي ذهنيا المسائل التالية ذهنيا :

$$\text{⬠} = 13 + 24 + 17$$

$$\text{⬠} = 15 + 22 + 35$$

$$\text{⬠} = 29 + 22 + 31$$

بِسْمِ اللَّهِ الرَّحْمَنِ الرَّحِيمِ

رقم النشاط/

زمن النشاط/

نوعها/

الصف :

ورقة عمل


المادة/ رياضيات

الموضوع/ (2-2) تقدير المجموع والفرق
فردية


الإسم :
الرابع

س : قَدِّرِ الإجابة بتقريب الأعداد لأقرب قيمة منزلية مُعطاة في كلِّ ممَّا يَأْتِي:

(1) $73+21$ ؛ عشرة



(2) $1529-2746$ ؛ عشرة



بِسْمِ اللَّهِ الرَّحْمَنِ الرَّحِيمِ

رقم النشاط/
زمن النشاط/
نوعها/ فردية
الصف :

ورقة عمل
المادة/ رياضيات
الموضوع/ (2-3) مهارة حل مسألة
الإسم :
الرابع



الحل :

بِسْمِ اللَّهِ الرَّحْمَنِ الرَّحِيمِ

رقم النشاط/
زمن النشاط/
نوعها/ فردية
الصف :

ورقة عمل
المادة/ رياضيات
الموضوع/ (2-4) الجمع
الإسم :
الرابع

س : يمثل الجدول الآتي عدد بطاقات الدخول المباعة يومَي الأربعاء والخميس لحضور مباراتين في كرة السلة . فما مجموع بطاقات الدخول المباعة؟



مبيعات بطاقات الدخول	
اليوم	العدد
الأربعاء	٥٧١٣
الخميس	٤٨٢٧

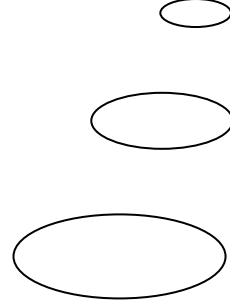
الحل :

بِسْمِ اللَّهِ الرَّحْمَنِ الرَّحِيمِ

رقم النشاط/
زمن النشاط/
نوعها/ فردية
الصف :

ورقة عمل
المادة/ رياضيات
الموضوع/ (2-5) الطرح
الإسم :
الرابع

س : في رحلةٍ بينَ مدينتينِ قطعتُ طائرةً مسافةً 957 كلم.
فإذا كانتِ المسافةُ بينَ المدينتينِ 3214 كلم. فكَمْ تبلغُ
المسافةُ المُتبقيةُ؟



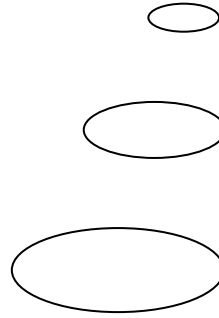
الحل :

بِسْمِ اللَّهِ الرَّحْمَنِ الرَّحِيمِ

رقم النشاط/
زمن النشاط/
نوعها/ فردية
الصف :

ورقة عمل
المادة/ رياضيات
الموضوع/ (2-6) الطرح بوجود الأصفار
الإسم :
الرابع

س : اشترت مدرسة تجهيزاتٍ مِخْبَرِيَّةً بمبلغ 5004
ريالات. فإذا كان ثمنُ المِجْهَرِ 2815 ريالاً، فما ثمنُ
التَّجْهِيزاتِ الأُخْرَى ؟



الحل :

بِسْمِ اللَّهِ الرَّحْمَنِ الرَّحِيمِ

رقم النشاط/
زمن النشاط/
نوعها/ فردية
الصف : الرابع

ورقة عمل
المادة/ رياضيات
الموضوع/ الفصل الثالث
الاسم : (1-3) جمع البيانات وتنظيمها

نظمى البيانات التالية فى لوحة إشارة :

يُبَيِّنُ الجدولُ الآتي الوسائلَ المُختلفةَ الَّتِي
تستعملُها مجموعةٌ من الطُّلابِ للوصولِ إلى
المدرسةِ.

كيف تأتي إلى المدرسة؟	
التكرار	الوسيلة
٨	بالحافلة
١٢	بالسيارة
٦	مشياً

الحل :

ورقة عمل

المادة/ رياضيات

الموضوع / (2-3) المنوال والوسيط والقيم المتطرفة
فردية

رقم النشاط/

زمن النشاط/

نوعها/

الصف :

الإسم :

س: أوجدىِ المنوالَ والوسيطَ، وحددىِ القيمَ المتطرفةَ إنْ
وُجدتْ:

درجاتُ الطُلابِ في اختبارِ الرِّياضيَّاتِ (من ١٠ درجات)	
الاسمُ	الدرجةُ
أحمدُ	٩
عبدُالرَّحمنِ	٧
ماجدُ	٩
تركِّي	٨
طلالُ	٧

الإجابة :

المنوال :

الوسيط :

القيم المتطرفة :

بِسْمِ اللَّهِ الرَّحْمَنِ الرَّحِيمِ

رقم النشاط/
زمن النشاط/
نوعها/ فردية
الصف :

ورقة عمل
المادة/ رياضيات
الموضوع/ (3-3) خطة حل مسألة
الإسم :
الرابع

س : يقضي عدنان 40 دقيقة يوميًا في ممارسة
رياضة المشي. فكم دقيقة يمشي في 5 أيام؟

اليوم	الوقت (دقيقة)
السبت	40
الأحد	80
الاثنين	120
الثلاثاء	■
الأربعاء	■

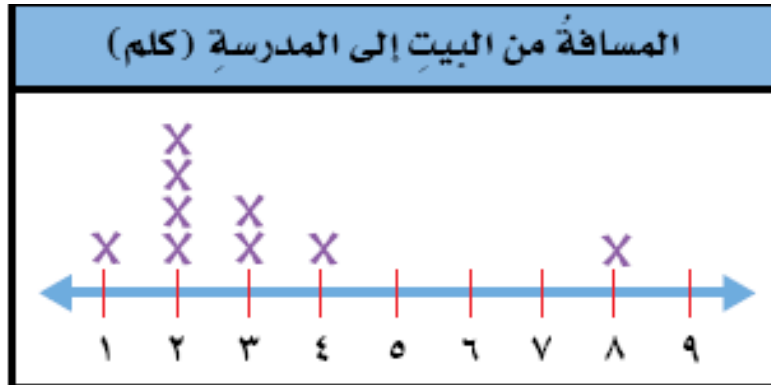
الحل :

بِسْمِ اللَّهِ الرَّحْمَنِ الرَّحِيمِ

رقم النشاط/
زمن النشاط/
نوعها/ فردية
الصف :

ورقة عمل
المادة/ رياضيات
الموضوع/ (3-4) التمثيل بالنقاط
الإسم :
الرابع

س: أوجدني المنوال والوسيط والقيمة المتطرفة إن وجدت :



الإجابة :

المنوال :

الوسيط :

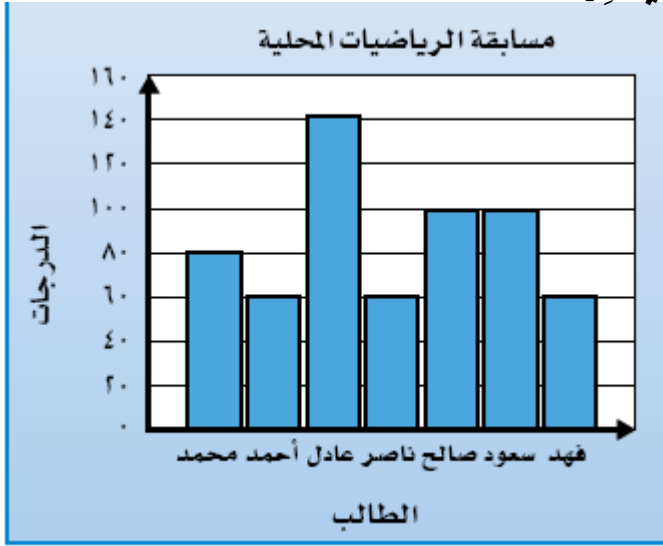
القيم المتطرفة :

بِسْمِ اللَّهِ الرَّحْمَنِ الرَّحِيمِ

رقم النشاط/
زمن النشاط/
نوعها/ فردية
الصف :

ورقة عمل
المادة/ رياضيات
الموضوع/ (3-5) التمثيل بالأعداد
الإسم :
الرابع

يُبَيِّنُ التَّمثِيلُ التَّالِيَّ دَرَجَاتِ سَبْعَةِ مِنَ الطُّلَّابِ فِي الْمَسَابِقَةِ الْمَحَلِّيَّةِ
لِلرِّيَاضِيَّاتِ:



1) من من الطلاب الذين حصلوا على الدرجة نفسها ؟

الحل :

2) كم تزيد درجات عادل على درجات محمد ؟

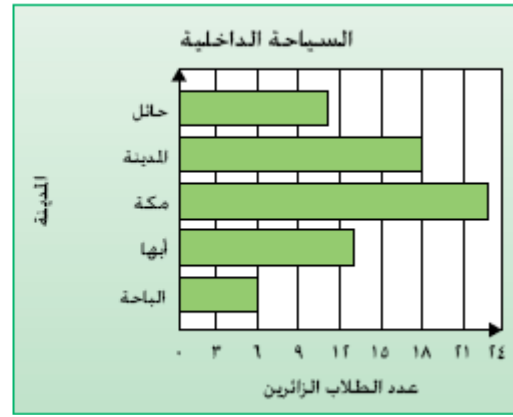
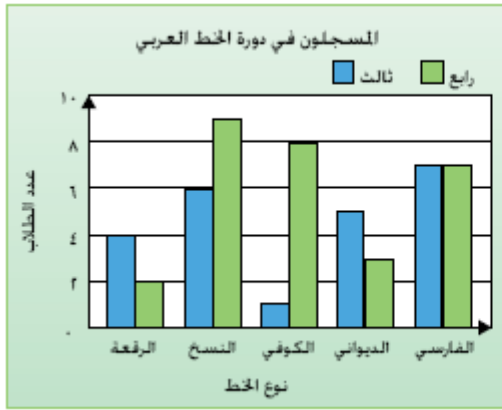
الحل :

بِسْمِ اللَّهِ الرَّحْمَنِ الرَّحِيمِ

رقم النشاط/
زمن النشاط/
الموضوع/ (3-6) التمثيل بالأعمدة والأعمدة المزدوجة نوعها/ فردية
الصف:

ورقة عمل
المادة/ رياضيات
الإسم :
الرابع

س: استعملى التمثيلين الآتيين للإجابة عن الأسئلة:



1) ما المدينة التي زارها أكبر عدد من الطلاب؟

الحل:

2) ما مجموع الطلاب في هذه الدورة؟

الحل:

بِسْمِ اللَّهِ الرَّحْمَنِ الرَّحِيمِ

رقم النشاط/
زمن النشاط/
نوعها / فردية
الصف :

ورقة عمل
المادة/ رياضيات
الموضوع / (6-3) تمثيل البيانات بأعمدة مزدوجة
الإسم : **الرابع**

مثلى البيانات التى فى الجدول بالأعمدة المزدوجة ؟

عدد الكتب المستعارة		
سارة	نورة	الشهر
٢	٣	المحرم
٦	٥	صفر
٥	٤	ربيع الأول
٤	٦	ربيع الثانى