

## شكراً لتحميلك هذا الملف من موقع المناهج السعودية



## اختبار الفصل التاسع القياس

[موقع المناهج](#) ⇨ [المناهج السعودية](#) ⇨ [الصف الرابع](#) ⇨ [رياضيات](#) ⇨ [الفصل الثالث](#) ⇨ [الملف](#)

تاريخ نشر الملف على موقع المناهج: 20-03-2024 07:53:29

## التواصل الاجتماعي بحسب الصف الرابع


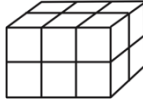

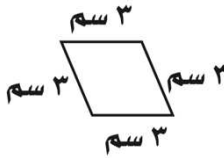


## المزيد من الملفات بحسب الصف الرابع والمادة رياضيات في الفصل الثالث

<a href="#">بوربوينت درس وحدات السعة في النظام المتري</a>	1
<a href="#">ورقة تدريبات قياس المساحة</a>	2
<a href="#">اختبار تشخيصي للفصل التاسع القياس</a>	3
<a href="#">اختبار تشخيصي شامل</a>	4
<a href="#">عرض درس المساحة</a>	5

الاسم	.....	الصف	الرابع /....	اختبار الفصل التاسع ( القياس )
-------	-------	------	--------------	--------------------------------

س١ / اختار الإجابة الصحيحة لكل مما يلي :

١.	أفضل تقدير لطول الحافلة هو:	أ	١ متر	ب	١٠ أمتار	ج	١٠ سنتيمترات	د	١٠ كيلومترات
٢.	أي مما يلي يعد طوله يساوي ١٠ سنتيمترات؟	أ	الشجرة	ب	النافذة	ج	الإصبع	د	الخروف
٣.	أي مما يلي يعد التقدير الأنسب لقياس سعة الشكل المجاور؟								
٤.	الوحدة المناسبة لقياس سعة حوض السباحة	أ	٢ مللتر	ب	٢ لتر	ج	٢٠٠ مللتر	د	٢٠٠ لتر
٥.	أي الوحدات التالية تعد الأفضل لقياس كتلة قطعة شوكولاتة؟	أ	لتر	ب	الجرام	ج	الكيلوجرام	د	المتر
٦.	ما حجم الجسم في الشكل المجاور؟								
٧.	كم تكون الساعة بعد ساعة وعشر دقائق؟	أ	١٠:٣٠	ب	١١:٣٠	ج	١١:٢٠	د	١١:٠٠
٨.	ما مساحة الشكل المجاور؟								
		أ	١٤ وحدة مربعة	ب	١٢ وحدة مربعة	ج	١٦ وحدة مربعة	د	١٣ وحدة مربعة
	س٢ ( أوجد محيط الشكل المجاور؟								
	س٣ ( اشترى محمود سجادة لغرفته طولها ٥ م و عرضها ٤ م ، فما مساحتها؟								