


تم تحميل هذا الملف من موقع المناهج السعودية



الملف نموذج إجابة اختبار نهائي الدوري الأول

[موقع المناهج](#) ← [المناهج السعودية](#) ← [الصف الرابع](#) ← [علوم](#) ← [الفصل الثالث](#)

المزيد من الملفات بحسب الصف الرابع والمادة علوم في الفصل الثالث

<a href="#">أسئلة اختبار نهائي</a>	1
<a href="#">ملخص شامل لوحدات المنهج</a>	2
<a href="#">مراجعة ختامية للاختبار النهائي</a>	3
<a href="#">تقويم ختامي للمهارات مع نموذج الإجابة</a>	4
<a href="#">اختبار نهائي الدور الأول</a>	5

المادة: علوم	 <p>رؤية 2030 وزارة التعليم</p>	المملكة العربية السعودية.
الصف: رابع ابتدائي		وزارة التعليم.
التاريخ: ١٤٤٤/١٢/١ هـ		إدارة تعليم
اليوم: الأثنين		مكتب تعليم
عدد الصفحات: ٣		مدرسة
الزمن: ساعة ونصف.		أسئلة الاختبار النهائي (الفصل الدراسي الثالث) للعام الدراسي ١٤٤٤ هـ

رقم الجلوس: .....			اسم الطالبة: <u>منى فوزج الإجماع</u>		
رقم السؤال	الدرجة التي حصلت عليها الطالبة		المصححة	المراجعة	المدققة
	رقمًا	كتابة			
الأول	١٠	فقط لا غير			
الثاني	٢٠	فقط لا غير			
الثالث	١٠	فقط لا غير			
المجموع	٤٠	فقط لا غير			

♥ السؤال الأول (أ) اكتب المصطلح العلمي المناسب أمام العبارات الآتية.

(الطول - السرعة - الحرارة - المغناطيس الكهربائي - الكهرباء الساكنة)

١٠

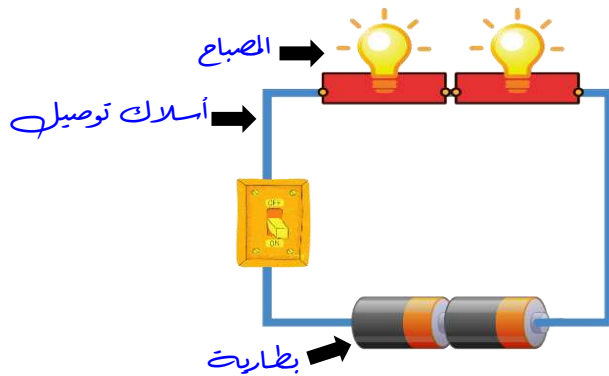
الطول	١. عدد وحدات القياس من أحد طرفي الجسم إلى الطرف الآخر.
السرعة	٢. المسافة التي يقطعها جسم في زمن معين.
المغناطيس الكهربائي	٣. المغناطيس الناشئ عن مرور تيار كهربائي في سلك يسمى
الحرارة	٤. انتقال الطاقة الحرارية من الجسم الساخن إلى الجسم البارد.
الكهرباء الساكنة	٥. تجمع الشحنات الكهربائية على سطح جسم ما.

♥ السؤال الأول (ب) أجب حسب المطلوب منك:

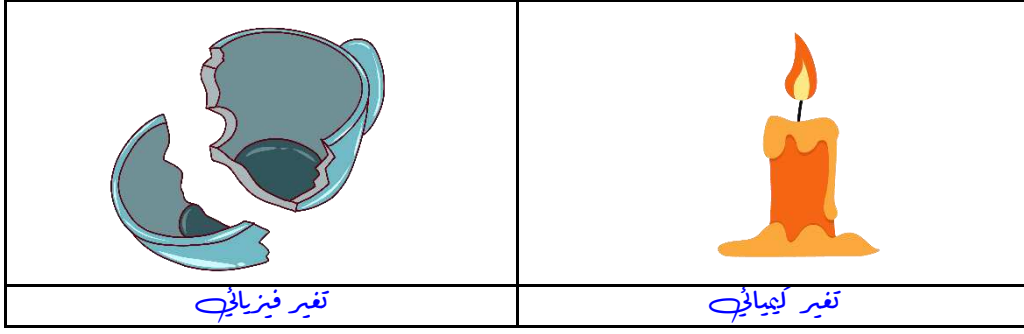
١- ما نوع الدائرة الكهربائية التي أمامك؟

دائرة على التوالي

٢- سمي أجزاء الدائرة الكهربائية على الرسم.



♥ السؤال الأول (ج) صنفى التغيرات التي أمامك إلى (تغير كيميائي أو تغير فيزيائي).



♥ السؤال الثاني: اختاري الإجابة الصحيحة لكل فقرة من الفقرات التالية.

٢٠

١- ما الذي يحول الطاقة الكهربائية إلى طاقة حركية؟

(أ) المروحة الكهربائية (ب) المولد الكهربائي (ج) المصباح الكهربائي (د) المحمصة الكهربائية

٢- الأداة التي تشير إلى جهة القطب الشمالي الأرضي هي:

(أ) البوصلة (ب) المحرك الكهربائي (ج) القطب الجنوبي (د) القطب الشمالي

٣- معظم أباريق الشاهي تصنع من مواد مثل الألومنيوم والنحاس؛ لأنها جيدة:

(أ) التوصيل (ب) العزل (ج) الإشعاع (د) بوصفها مصدر حراري

٤- تقاس درجة الحرارة بأداة تسمى:

(أ) الثرمومتر (ب) متر (ج) الميزان (د) الكأس المدرج

٥- ما القوة المسؤولة عن توقف جسم متحرك عن الحركة؟

(أ) الاحتكاك (ب) الدفع (ج) الجاذبية (د) القوى المتزنة

٦- قوى غير متساوية تسبب تغير حركة الجسم؟

(أ) القوى الغير متزنة (ب) القوى المتزنة (ج) القوى المتساوية (د) الجاذبية

٧- (تبلغ سرعة القطار ٣٠٠ كم/س في اتجاه الشرق) هذه العبارة تصف:

(أ) السرعة المتجهة (ب) السرعة (ج) التسارع (د) الزمن

٨- أي الأشياء التالية له كتلة وحجم؟

(أ) الكهرباء (ب) غاز ثاني أكسيد الكربون (ج) الصوت (د) الحرارة

٩- كيف يمكن فصل الملح من محلول ماء وملح؟

(أ) بالترسيب (ب) بالتبخير (ج) بالمغناطيس (د) بالترشيح

١٠- الخاصية التي تتغير اعتماداً على قوة الجذب هي:

(أ) الطول (ب) الوزن (ج) الكتلة (د) الكثافة

♥ السؤال الثالث: ضع علامة (✓) أمام العبارة الصحيحة و (X) أمام العبارة الخاطئة:

١٠

(✓)	١ . تقاس الكتلة بوحدة الجرام أو الكيلوجرام.
(✓)	٢ . التحول البطيء للسوائل إلى الحالة الغازية يسمى التبخر.
(✓)	٣ . السبائك تنتج عن خلط نوعين من العناصر أحدهما على الأقل فلز.
(✓)	٤ . لإيجاد مساحة جسم على شكل مستطيل نضرب الطول في العرض.
(✓)	٥ . فصل المواد الصلبة عن السوائل باستخدام المرشحات يسمى الترشيح.
(✓)	٦ . تنتقل الحرارة في السوائل والغازات بالحمل الحراري.
(X)	٧ . الأقطاب المختلفة بالمغناطيس تتنافر.
(X)	٨ . تغير سرعة الجسم واتجاهه خلال فترة زمنية محددة يسمى قصور ذاتي.
(X)	٩ . كلما زادت المسافة بين الأجسام زادت قوة الجاذبية بينهما.
(X)	١٠ . يتجمد الماء عند درجة حرارة الـ ١٠٠ <sup>0</sup> س.

[https://t.me/Sciences\\_20](https://t.me/Sciences_20) : قناة علوم متوسط

[https://t.me/Sciences\\_203](https://t.me/Sciences_203) : قناة علوم ابتدائي

انتهت الأسئلة

النجاح لعبة الطلاب الأذكياء، أتمنح لكم كل التوفيق

معلمة المادة: مها المريخ