

شكراً لتحميلك هذا الملف من موقع المناهج السعودية



اختبار قبلي تشخيصي

[موقع المناهج](#) ← [المناهج السعودية](#) ← [الصف الرابع](#) ← [رياضيات](#) ← [الفصل الثاني](#) ← [الملف](#)

تاريخ نشر الملف على موقع المناهج: 10:26:25 2023-12-01

التواصل الاجتماعي بحسب الصف الرابع



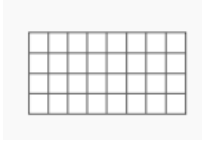
المزيد من الملفات بحسب الصف الرابع والمادة رياضيات في الفصل الثاني

خطة توزيع المنهج للفصل الثاني 1445هـ	1
أسئلة مراجعة للباب الثامن	2
مهمة ادائية لفصل القسمة	3
اختبار نهائي الدور الأول	4
تهيئة الفصل الثامن الأشكال الثلاثية والاستدلال المكاني	5

اختبار تشخيصي لمادة الرياضيات الصف الرابع (الفصل الدراسي الثاني)

الاسم	الصف	الدرجة
-------	------	--------

١. اكتب جملة الضرب لـ



٢. أوجد ناتج الضرب					
أ	$= 3 \times 2$	ب	$= 5 \times 4$	ج	$= 9 \times 7$
د	$= 4 \times 9$	هـ	$= 8 \times 7$	و	$= 2 \times 10$

٣. يحتوي ألبوم أنس على ٨ صفحات من الصور ما عدد الصور، إذا كانت كل صفحة تحتوي على ٤ صور؟					
أ	٣٢	ب	١٢	ج	١٦

٤- اوجد القيمة المنزلية للرقم الذي تحته خط (اختر الإجابة الصحيحة)					
١.	١٦٣٠	أ	٦	ب	٦٠٠
٢.	٥٣٦٧	أ	٥٠٠	ب	٥٠٠٠
٣.	٨٩٥٢٨	أ	٨٠٠٠٠	ب	٨٠٠٠
				ج	٦٠٠٠
				ج	٥٠٠٠٠٠٠
				ج	٨٠٠

٥- (أ) قرب كل عدد من الأعداد الآتية إلى أكبر منزلة فيه

٤.	٢٧
٥.	٢٥١
٦.	٣٣١٠٣

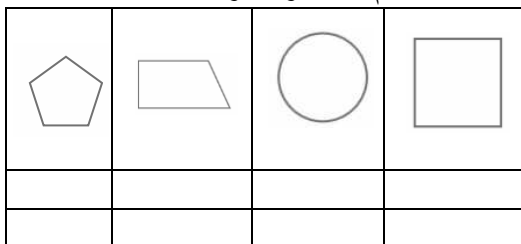
٥- (ب) قرب إلى المنزلة المعطاة في كل من المسائل الآتية

٧.	٢٥٢٢٤	الي اقرب الف
٨.	٥٢٨٢٥١	الي اقرب عشرة آلاف
٩.	٦٨١٠٠٢	الي اقرب مئة الف

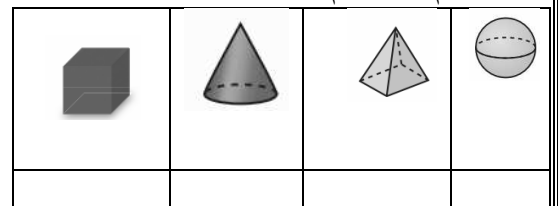
٦- أوجد ناتج ما يلي			
٧٠٨٠	٥٨٧٥	٢٥٣٥	
$٢٥٠١ -$	$١٩٢١ -$	$١٥٤٧+$	

٧- أوجد ناتج القسمة			
أ	$= ٥ \div ٢٥$	ب	$= ٨ \div ٢٤$
د	$= ١٢ \div ٣٦$	هـ	$= ٦ \div ٤٨$
		ج	$= ٢ \div ١٨$
		و	$= ٢ \div ١٠$

٩- ما اسم الشكل وما هو عدد اضلاعه؟



٨- ما اسم كل مجسم؟



١٠- مع عمر ٣٠ ريالاً ويريد شراء ألعاب الالكترونية. إذا كان ثمن اللعبة الواحدة ٥ ريالاً فكم لعبة يمكنه أن يشتري؟