

تم تحميل هذا الملف من موقع المناهج السعودية



ورقة عمل درس الأشكال الثلاثية الأبعاد

موقع المناهج ← المناهج السعودية ← الصف الرابع ← رياضيات ← الفصل الثاني ← أوراق عمل ← الملف

تاريخ إضافة الملف على موقع المناهج: 2025-01-26 14:22:14

ملفات اكتب للمعلم اكتب للطالب | اختبارات الكترونية | اختبارات | حلول | عروض بوربوينت | أوراق عمل
منهج انجليزي | ملخصات وتقارير | مذكرات وبنوك | الامتحان النهائي للمدرس

المزيد من مادة
رياضيات:

التواصل الاجتماعي بحسب الصف الرابع



صفحة المناهج
السعودية على
فيسبوك

الرياضيات

اللغة الانجليزية

اللغة العربية

التربية الاسلامية

المواد على تلغرام

المزيد من الملفات بحسب الصف الرابع والمادة رياضيات في الفصل الثاني

الإجابة على أسئلة اختبار الفصل الخامس الضرب في عدد من رقم واحد

1

اختبار الفصل الخامس الضرب في عدد من رقم واحد

2

شرح وعرض درس الزوايا

3

مراجعة الفصل السابع القسمة

4



اختبارات نهائية للفصل الثاني مع الإجابات

5

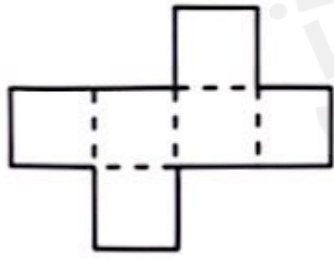
الأشكال الثلاثية الأبعاد

الاسم / الصف الرابع /

السؤال الأول : اختار الإجابة الصحيحة لكل مما يلي:

<p>١ ما اسم الشكل ؟</p> 							
أ	منشور ثلاثي	ب	هرم ثلاثي	ج	منشور رباعي	د	هرم رباعي
<p>٢ ما عدد رؤوس الشكل المجاور ؟</p> 							
أ	٠	ب	١	ج	٢	د	٣
<p>٣ شكل ثلاثي الأبعاد يمكن صنعه بواسطة دائرتين ومستطيل ؟</p>							
أ	الكرة	ب	المكعب	ج	الإسطوانة	د	الهرم

السؤال الثاني : أجب عما يلي :

<p>استعمل المخطط المجاور</p> <p>١- ما اسم المجسم الذي يمكن تكوينه من هذا المخطط ؟</p>  <p>.....</p> <p>٢- ما عدد أوجه هذا المجسم ؟</p> <p>.....</p> <p>٣- ما عدد رؤوسه ؟</p> <p>.....</p>
