

شكراً لتحميلك هذا الملف من موقع المناهج السعودية



اختبار الفصل التاسع القياس

[موقع المناهج](#) ⇨ [المناهج السعودية](#) ⇨ [الصف الرابع](#) ⇨ [رياضيات](#) ⇨ [الفصل الثالث](#) ⇨ [الملف](#)

تاريخ نشر الملف على موقع المناهج: 2024-03-27 06:52:55

التواصل الاجتماعي بحسب الصف الرابع





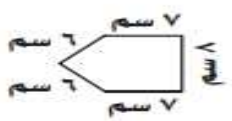
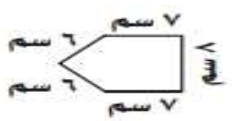

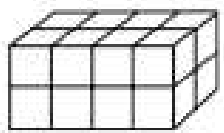
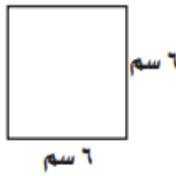

المزيد من الملفات بحسب الصف الرابع والمادة رياضيات في الفصل الثالث

اختبار الفصل التاسع القياس	1
بوربوينت درس وحدات السعة في النظام المتري	2
ورقة تدريبات قياس المساحة	3
اختبار تشخيصي للفصل التاسع القياس	4
اختبار تشخيصي شامل	5

اختبار الفصل التاسع القياس للصف الرابع الابتدائي الفصل الدراسي الثالث لعام ١٤٤٥ هـ

اسم الطالب/ة رابعيا /..... الصف /.....

السؤال الأول / اختر الإجابة الصحيحة في الجمل التالية وذلك بوضع علامة (✓) في المربع الصحيح:

<p>أي مما يلي يعد التقدير الأنسب لقياس سعة الشكل المجاور؟</p>	<p>٢</p>	<p>١</p>	<p>أفضل تقدير لطول الحافلة:</p> 
	<p>أ- ٢ ميليلتر <input type="checkbox"/></p> <p>ب- ٢ لتر <input type="checkbox"/></p> <p>ج- ٢٠٠ مليلتر <input type="checkbox"/></p> <p>د- ٢٠٠ لتر <input type="checkbox"/></p>	<p>أ- <input type="checkbox"/></p> <p>ب- <input type="checkbox"/></p> <p>ج- <input type="checkbox"/></p> <p>د- <input type="checkbox"/></p>	<p>أ- ١ متر <input type="checkbox"/></p> <p>ب- ١٠ أمتار <input type="checkbox"/></p> <p>ج- ١٠ سنتمترات <input type="checkbox"/></p> <p>د- ١٠ كيلو مترات <input type="checkbox"/></p>
<p>أي الوحدات التالية هي الأنسب لقياس كتلة خاتم؟</p>	<p>٤</p>	<p>٣</p>	<p>ملعب مستطيل الشكل طوله ٨٢ مترا وعرضه ٤٥ مترا ما محيطه؟</p>
	<p>أ- اللتر <input type="checkbox"/></p> <p>ب- الجرام <input type="checkbox"/></p> <p>ج- الكيلو جرام <input type="checkbox"/></p> <p>د- المتر <input type="checkbox"/></p>	<p>أ- <input type="checkbox"/></p> <p>ب- <input type="checkbox"/></p> <p>ج- <input type="checkbox"/></p> <p>د- <input type="checkbox"/></p>	<p>أ- ٢٥٤ متر <input type="checkbox"/></p> <p>ب- ٢٤٠ متر <input type="checkbox"/></p> <p>ج- ٢٦٥ متر <input type="checkbox"/></p> <p>د- ٢٩٠ متر <input type="checkbox"/></p>
<p>ما محيط الشكل المجاور:</p>	<p>٦</p>	<p>٥</p>	<p>اوجد مساحة الشكل المجاور:</p>
	<p>أ- ٣٤ سم <input type="checkbox"/></p> <p>ب- ٢٩ سم <input type="checkbox"/></p> <p>ج- ٢٧ سم <input type="checkbox"/></p> <p>د- ١٨ سم <input type="checkbox"/></p>	<p>أ- <input type="checkbox"/></p> <p>ب- <input type="checkbox"/></p> <p>ج- <input type="checkbox"/></p> <p>د- <input type="checkbox"/></p>	 <p>أ- ١٠ وحدة مربعة <input type="checkbox"/></p> <p>ب- ١١ وحدة مربعة <input type="checkbox"/></p> <p>ج- ١٢ وحدة مربعة <input type="checkbox"/></p> <p>د- ١٣ وحدة مربعة <input type="checkbox"/></p>
<p>ما حجم الجسم في الشكل المجاور:</p>	<p>٨</p>	<p>٧</p>	<p>ما مساحة الشكل المجاور؟</p>
	<p>أ- ٤ وحدات مكعبة <input type="checkbox"/></p> <p>ب- ١٦ وحدة مكعبة <input type="checkbox"/></p> <p>ج- ٨ وحدات مكعبة <input type="checkbox"/></p> <p>د- ٣٢ وحدة مكعبة <input type="checkbox"/></p>	<p>أ- <input type="checkbox"/></p> <p>ب- <input type="checkbox"/></p> <p>ج- <input type="checkbox"/></p> <p>د- <input type="checkbox"/></p>	 <p>أ- ١٢ <input type="checkbox"/></p> <p>ب- ١٨ <input type="checkbox"/></p> <p>ج- ٣٦ <input type="checkbox"/></p> <p>د- ٦٤ <input type="checkbox"/></p>
<p>أي التقدير الأنسب لكتلة صندوق أدوات:</p>	<p>١٠</p>	<p>٩</p>	<p>ما طول الفترة الزمنية من الساعة ٤:١٥ مساء وحتى الساعة ٥:٣٠ مساء؟</p>
	<p>أ- ٣٠ جم <input type="checkbox"/></p> <p>ب- ٣٠ كجم <input type="checkbox"/></p> <p>ج- ٣ جم <input type="checkbox"/></p> <p>د- ٣ كجم <input type="checkbox"/></p>	<p>أ- <input type="checkbox"/></p> <p>ب- <input type="checkbox"/></p> <p>ج- <input type="checkbox"/></p> <p>د- <input type="checkbox"/></p>	<p>أ- ساعة واحدة <input type="checkbox"/></p> <p>ب- ساعة و ١٥ دقيقة <input type="checkbox"/></p> <p>ج- ساعة و ٣٠ دقيقة <input type="checkbox"/></p> <p>د- ساعة و ٤٥ دقيقة <input type="checkbox"/></p>

السؤال الثاني / أ-

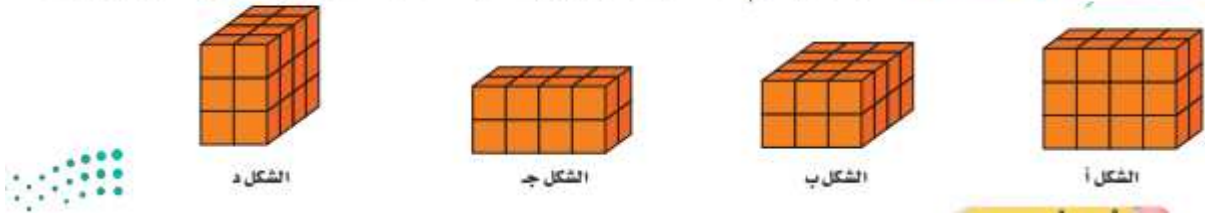
قارنْ مُستعملًا (<، >، =) فِي كُلِّ مِمَّا يَأْتِي:

٢١٥٣ جم ● ٣ كجم

٤٠٠٠ جم ● ٤ كجم

ب-

اكتشف المختلف: حدِّدِ المُجَسِّمَ المُخْتَلِفَ عَنِ بَقِيَّةِ المُجَسِّمَاتِ الثَّلَاثَةِ الأُخْرَى. فَسِّرْ إجابَتَكَ.



السؤال الثالث / استعمل الخطوات الأربع لحل المسألة (استعمل خطة التبوير المنطقي)

تهتم فاطمة بتربية الحيوانات الاليفة والطيور والاسماك ولديها من الارانب مثلا ما لديها من الطيور ولديها ثلاث سمكات اكثر مما لديها من الارانب اذا علمت ان لديها طائرين فما عدد ما لديها من الارانب ومن الاسماك ؟

افهم : المعطيات :

المطلوب :

اخطط :

احل :

التحقق :