

شكراً لتحميلك هذا الملف من موقع المناهج السعودية



اختبار الفصل التاسع القياس

[موقع المناهج](#) ← [المناهج السعودية](#) ← [الصف الرابع](#) ← [رياضيات](#) ← [الفصل الثالث](#) ← [الملف](#)

التواصل الاجتماعي بحسب الصف الرابع

روابط مواد الصف الرابع على تلغرام

[الرياضيات](#)

[اللغة الانجليزية](#)

[اللغة العربية](#)


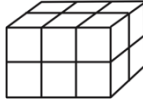

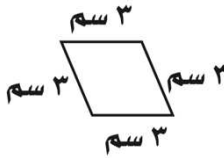
[التربية الاسلامية](#)

المزيد من الملفات بحسب الصف الرابع والمادة رياضيات في الفصل الثالث

| | |
|---|---|
| تحضير دروس كامل المنهج | 1 |
| نماذج اختبارات نهائية مع نماذج الإجابة | 2 |
| نموذج اختبار نهائي الدور الأول | 3 |
| أسئلة اختبار مهاراتي | 4 |
| اختبار الفصل الثاني عشر جمع الكسور العشرية وطرحها | 5 |

| | | | | |
|-------|-------|------|--------------|--------------------------------|
| الاسم | | الصف | الرابع /.... | اختبار الفصل التاسع (القياس) |
|-------|-------|------|--------------|--------------------------------|

س١ / اختار الإجابة الصحيحة لكل مما يلي :

| | | | | | | | | | |
|----|--|--|---------------|---|---------------|---|---------------|---|---------------|
| ١. | أفضل تقدير لطول الحافلة هو: | أ | ١ متر | ب | ١٠ أمتار | ج | ١٠ سنتيمترات | د | ١٠ كيلومترات |
| ٢. | أي مما يلي يعد طوله يساوي ١٠ سنتيمترات؟ | أ | الشجرة | ب | النافذة | ج | الإصبع | د | الخروف |
| ٣. | أي مما يلي يعد التقدير الأنسب لقياس سعة الشكل المجاور؟ |  | | | | | | | |
| ٤. | الوحدة المناسبة لقياس سعة حوض السباحة | أ | ٢ مللتر | ب | ٢ لتر | ج | ٢٠٠ مللتر | د | ٢٠٠ لتر |
| ٥. | أي الوحدات التالية تعد الأفضل لقياس كتلة قطعة شوكولاتة؟ | أ | لتر | ب | الجرام | ج | الكيلوجرام | د | المتر |
| ٦. | ما حجم المجسم في الشكل المجاور؟ |  | | | | | | | |
| ٧. | كم تكون الساعة بعد ساعة وعشر دقائق؟ | أ | ١٠:٣٠ | ب | ١١:٣٠ | ج | ١١:٢٠ | د | ١١:٠٠ |
| ٨. | ما مساحة الشكل المجاور؟ |  | | | | | | | |
| | | أ | ١٤ وحدة مربعة | ب | ١٢ وحدة مربعة | ج | ١٦ وحدة مربعة | د | ١٣ وحدة مربعة |
| | س٢ (أوجد محيط الشكل المجاور؟ |  | | | | | | | |
| | س٣ (اشترى محمود سجادة لغرفته طولها ٥ م و عرضها ٤ م ، فما مساحتها؟ | | | | | | | | |