

شكراً لتحميلك هذا الملف من موقع المناهج السعودية



ورقة تدريبات قياس المساحة

[موقع المناهج](#) ⇨ [المناهج السعودية](#) ⇨ [الصف الرابع](#) ⇨ [رياضيات](#) ⇨ [الفصل الثالث](#) ⇨ [الملف](#)

تاريخ نشر الملف على موقع المناهج: 11:09:19 2024-03-09

التواصل الاجتماعي بحسب الصف الرابع



المزيد من الملفات بحسب الصف الرابع والمادة رياضيات في الفصل الثالث

اختبار تشخيصي للفصل التاسع القياس	1
اختبار تشخيصي شامل	2
عرض درس المساحة	3
خطة توزيع المنهج للفصل الثالث 1445هـ	4
تحضير دروس كامل المنهج	5

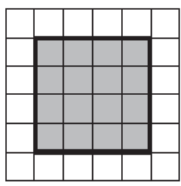
ورقة تدريبات: قياس المساحة

التاريخ / / ١٤٤٤ هـ

الصف : الرابع

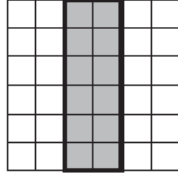
الاسم :

قَدِّرْ مِسَاحَةَ كُلِّ مُرَبَّعٍ أَوْ مُسْتَطِيلٍ، ثُمَّ أوجدْهَا بِالضَّبْطِ.



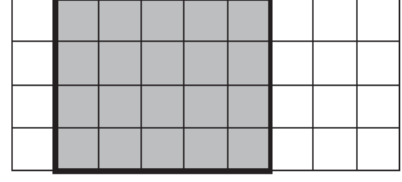
٣

.....



٢

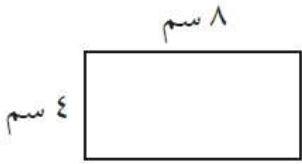
.....



١

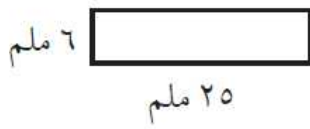
.....

أوجد مساحة كل شكل مما يلي:



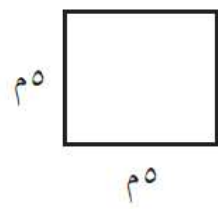
٦

.....



٥

.....



٤

.....

٧ مساحة غرفة ١٢١ مترًا مربعًا، وعرضها ١١ مترًا، ما طولها؟