

تم تحميل هذا الملف من موقع المناهج السعودية



## مذكرة أوراق عمل 1446هـ

موقع المناهج ← المناهج السعودية ← الصف الرابع ← اجتماعيات ← الفصل الثاني ← أوراق عمل ← الملف

تاريخ إضافة الملف على موقع المناهج: 09:22:06 2024-12-13

ملفات اكتب للمعلم اكتب للطالب الاختبارات الكترونية | اختبارات | حلول | عروض بوربوينت | أوراق عمل  
منهج انجليزي | ملخصات و تقارير | مذكرات و بنوك | الامتحان النهائي للمدرس

المزيد من مادة  
اجتماعيات:

## التواصل الاجتماعي بحسب الصف الرابع



الرياضيات



اللغة الانجليزية



اللغة العربية



التربية الاسلامية



المواد على تلغرام

صفحة المناهج  
السعودية على  
فيسبوك

## المزيد من الملفات بحسب الصف الرابع والمادة اجتماعيات في الفصل الثاني

اختبار وحدة الاقتصاد

1

اختبار منتصف الفصل

2

ملخص الاجتماعيات للفصل الثاني

3

أوراق عمل دروس الفصل الثاني

4

خطة توزيع منهج الدراسات الاجتماعية للفصل الثاني 1446هـ

5

## مذكرة أوراق عمل الدراسات الاجتماعية للصف الرابع الابتدائي

الفصل الدراسي الثاني للعام الدراسي ١٤٤٦هـ



معلم المادة الأستاذ / .....

اسم الطالب / .....

كلنا يداً بيد

لتكن مدرستنا

بيئة نظيفة

بسم الله الرحمن الرحيم

الحمد لله رب العالمين والصلاة والسلام على أشرف الأنبياء  
 والمرسلين نبينا محمد وعلى آله وصحبه أجمعين .. أما بعد  
 ابني الطالب ..

السلام عليكم ورحمة الله وبركاته

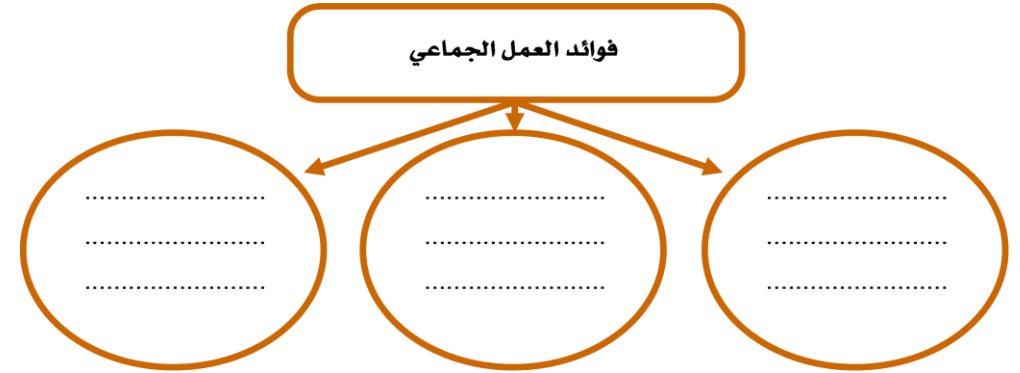
هذه مذكرة لأوراق عمل الدراسات الاجتماعية أعدتها  
 لمساعدتك في مراجعة الدروس وتثبيت المعلومة . فهي شاملة  
 لمعظم جزئيات المقرر الدراسي في الفصل الدراسي ، فأرجو  
 اصطحابها معك في كل حصة للقيام بتطبيق الأنشطة الصفية  
 خلال الحصة الدراسية ، لذلك ينبغي التعامل مع محتوياتها  
 بجدية وفاعلية ، وعدم إهمال أي سؤال فيها ..

أكرر الرجاء اصطحابها في كل حصة ، والمحافظة عليها ..  
 والله الموفق والهادي إلى سواء السبيل ..

معلمك الأستاذ / .....

الدرس الحادي عشر : ( العمل الجماعي )

س١ / اذكر ثلاثاً من فوائد العمل الجماعي :



س٢ / ضع علامة ( √ ) أمام العبارة الصحيحة وعلامة ( × ) أمام العبارة الخاطئة فيما يلي :

- ١ - العمل الجماعي يكون بين اثنين أو أكثر
- ٢ - تحديد الهدف من العمل من العوامل التي تحقق النجاح في العمل الجماعي
- ٣ - نوزع العمل من أجل نجاح العمل الجماعي

## الدرس الأول : ( مفهوم الاقتصاد )

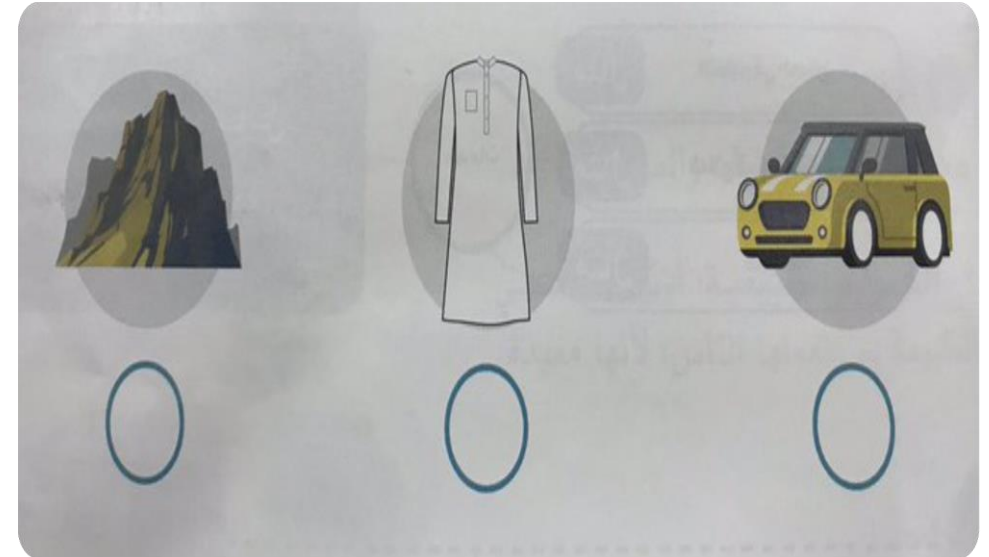
س١ / ضع علامة ( √ ) أمام العبارة الصحيحة وعلامة ( × ) أمام العبارة الخاطئة فيما يلي :

١- النشاط الاقتصادي هو انتاج السلع والخدمات وتوزيعها وتبادلها واستهلاكها

٢- السلع هي كل ما يصنع وينتج مما يحتاج إليه الإنسان ، ويستهلكه في حياته

٣- الانتاج هو تحويل المواد الخام إلى منتجات وتوفير الخدمات التي يحتاج إليها الانسان

س٢ / حدد السلعة في الأشكال الآتية :



( ٢ )

## الدرس العاشر : ( الحقوق والمسؤوليات )

س١ / ضع علامة ( √ ) أمام العبارة الصحيحة وعلامة ( × ) أمام العبارة الخاطئة فيما يلي :

١- الحقوق ما يستحقه الطلبة في حياتهم

٢- من واجباتي في المدرسة أن احضر مبكراً

٣- من مسؤولياتي احترام حقوق الآخرين ومعلوماتهم

س٢ / يؤدي المواطن الصالح دوراً مهماً في خدمة وطنه بعدة أمور ، اذكرها :

دور المواطن الصالح

( ١١ )



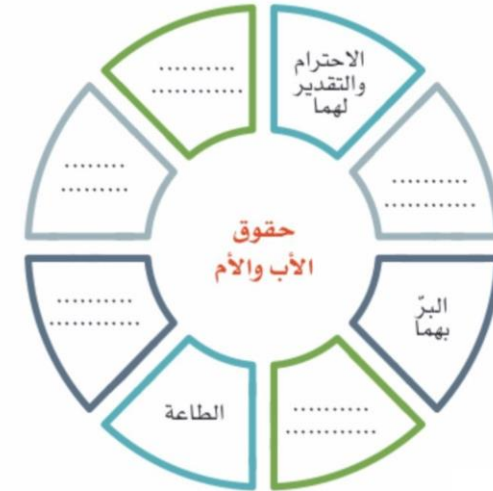
## الدرس التاسع : ( الأسرة والمجتمع )

س١ / أكمل الفراغات الآتية بما يناسب :

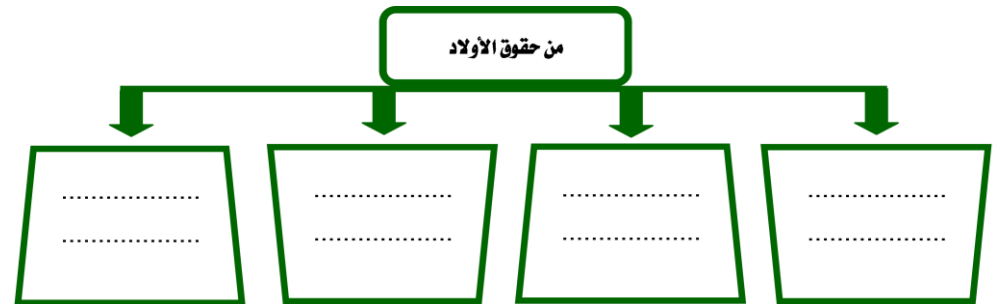
أ- الأسرة أساس ..... وتتكون من ..... و ..... و .....

ب- يتكون المجتمع من عدة .....

س٢ / أكمل حقوق الأب والأم في الشكل التالي :



س٣ / للأولاد حقوق على الوالدين ، فما هي ؟



( ١٠ )

## الدرس الثاني : ( الموارد والاستهلاك )

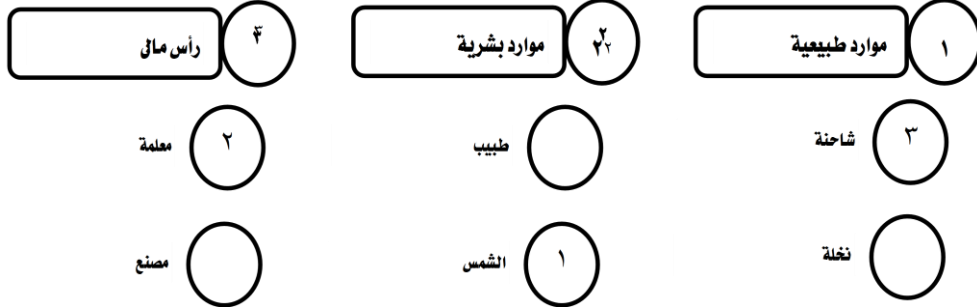
س١ / ضع علامة ( √ ) أمام العبارة الصحيحة وعلامة ( × ) أمام العبارة الخاطئة فيما يلي :

١- الموارد هي الأشياء التي يعتمد عليها الاقتصاد

٢- الادخار تخصيص جزء من المال وحفظه للمستقبل

٣- الترشيد هو استعمال الموارد والأموال استعمالاً معتدلاً

س٢ / حدد نوع الموارد التالية :



س٣ / ميّز بين المنتج والمستهلك من خلال الصورتين التاليتين :



( ..... )



( ..... )

( ٣ )

## الدرس الثالث : ( التبادل التجاري )

س١ / ضع علامة ( √ ) أمام العبارة الصحيحة وعلامة ( × ) أمام العبارة الخاطئة فيما يلي :

١- التبادل التجاري هو تداول السلع والخدمات بين الناس

٢- كان الناس قديماً يشترون ويبيعون بالمقايضة

٣- أشتري الذي صنع في وطني دعماً لاقتصاده

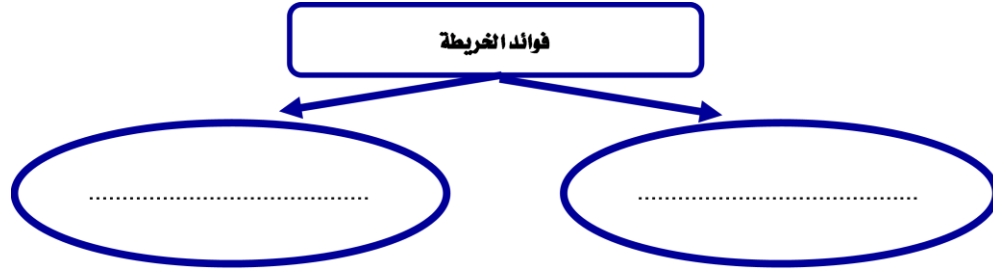
س٢ / اذكر ثلاثاً من فوائد التبادل التجاري :

- ١- .....
- ٢- .....
- ٣- .....

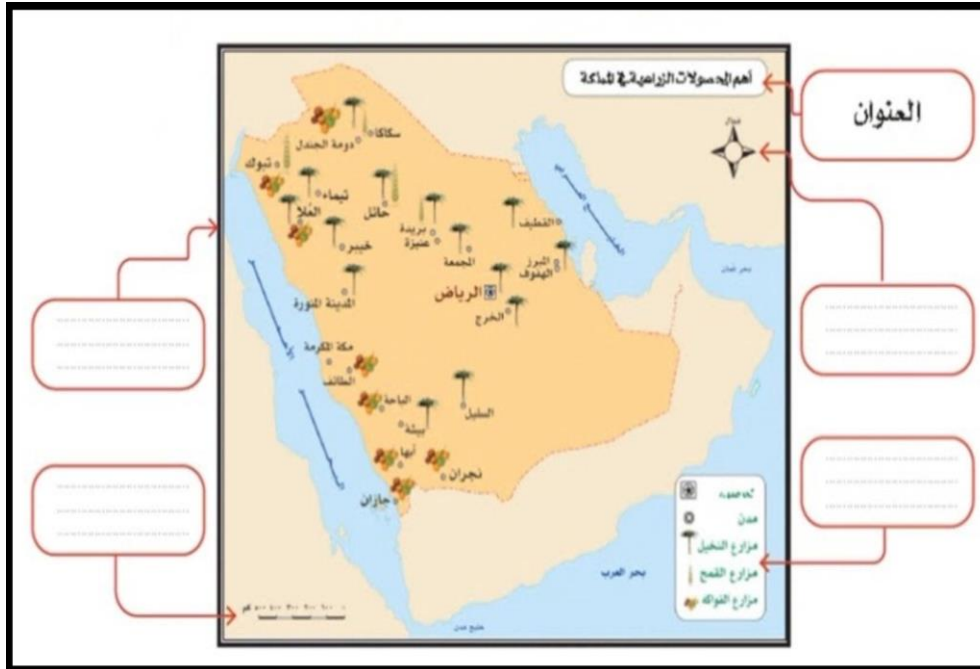
## الدرس الثامن : ( الخريطة )

س١ / اذكر فوائد الخريطة ؟

فوائد الخريطة



س٢ / أكمل عناصر الخريطة في الشكل التالي :



## الدرس الرابع : ( الأرض )



س١ / هل التقطت صورة الكرة الأرضية في الشكل السابق من مكان مرتفع من الأرض أو من الفضاء؟

ج / .....

س٢ / ما شكل الأرض؟

ج / .....

س٣ / ما المقصود بالأرض؟

ج / .....

## الدرس السابع : ( دوران القمر حول الأرض )



س١ / ما المقصود بالقمر؟

ج / .....

س٢ / استعن بالكلمات التالية لإكمال الفراغات : ( المضيء - هلالاً - بدر )

أ - نحن نرى الجزء ..... فقط من القمر

ب - نسمي القمر المكتمل .....

ج - عندما يبدأ الشهر فإننا نرى .....

س٣ / ضع علامة ( √ ) أمام العبارة الصحيحة وعلامة ( × ) أمام العبارة الخاطئة فيما يلي :

١ - يدور القمر حول الأرض مرة كل شهر

٢ - كسوف الشمس هو احتجاب ضوء الشمس عن جزء من الأرض ، وذلك عندما يتوسط القمر بينهما

## الدرس السادس : ( دوران الأرض )



س١ / أكمل الفراغات التالية بما يناسب :

للأرض حركتان :

الأولى : ..... وينتج عنها تعاقب ..... و .....

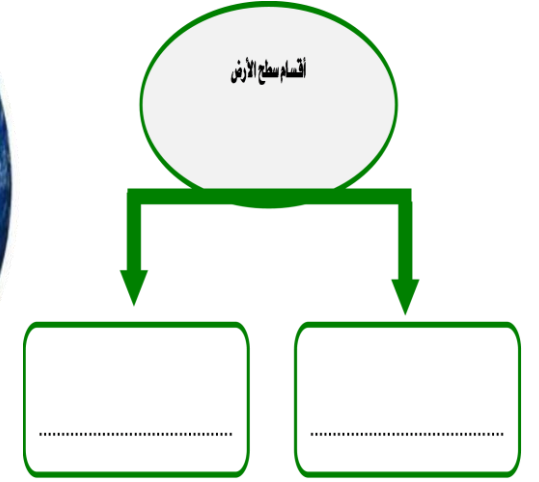
الثانية : ..... وتنتج عنها .....

س٢ / اكتب أمام كل صورة ما يناسبه من الفصول الأربعة :



## الدرس الخامس : ( أشكال سطح الأرض )

س١ / أمامك صورة للأرض ، من خلالها اذكر أقسام سطح الأرض :



س٢ / أكمل الفراغات الآتية بما يناسب :

أ- من أشكال اليابسة على سطح الأرض : الجبال و ..... و .....

و ..... و ..... و .....

ب- من أشكال الماء على سطح الأرض : المحيطات و ..... و .....

و ..... و .....



