

شكراً لتحميلك هذا الملف من موقع المناهج السعودية



مراجعة الفصل الخامس التغذية والصحة

[موقع المناهج](#) ⇨ [المناهج السعودية](#) ⇨ [الصف الرابع](#) ⇨ [علوم](#) ⇨ [الفصل الثاني](#) ⇨ [الملف](#)

تاريخ نشر الملف على موقع المناهج: 2023-12-21 06:00:36

التواصل الاجتماعي بحسب الصف الرابع



المزيد من الملفات بحسب الصف الرابع والمادة علوم في الفصل الثاني

اختبار تشخيصي 1445هـ	1
إجابة اختبار الفترة	2
اختبار الفترة أمل الزهراني	3
حل مراجعة الفصل الرابع الأمراض العدوى وانتقالها	4
مراجعة غير محلولة للفصل الرابع الأمراض العدوى وانتقالها	5

مراجعة الفصل الخامس (التغذية و الصحة) مادة العلوم- الصف رابع

نفكر.... نحلل ... ثم نجيب

الاسم	الصف/.....
-------	------------

نضع الكلمات الآتية أمام ما يناسبها من عبارات :

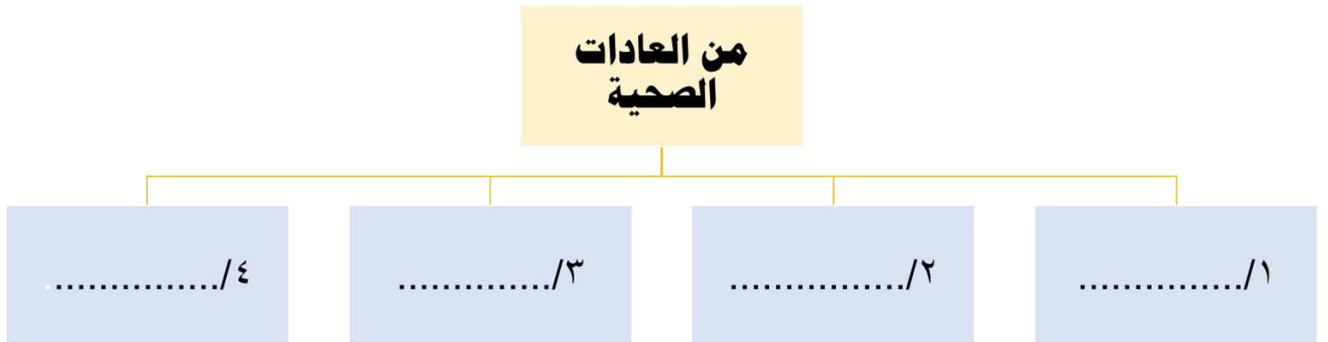
[الصحة- الهرم الغذائي -الماء -العادات الصحية]

- ١-.....وهي حالة اكتمال السلامة الجسدية و العقلية وال نفسية .
- ٢-..... هي سلوكيات تفيد وتساعد الإنسان على المحافظة على صحة جسمه .
- ٣-.....يشكل ثلثي جسم الإنسان.
- ٤-..... دليل يوضح أنواع الأطعمة التي يحتاجها الإنسان بشكل يومي.

نختار الإجابة الصحيحة :

١ / من العادات غير الصحية		
أ-ممارسة الرياضة	ب- النوم مبكراً	ج-الإكثار من تناول السكريات
٢ / تساعد الجسم على النمو وتعويض الخلايا التالفة في الجسم		
أ-الكربوهيدرات	ب-البروتينات	ج-الدهون
٣ / تساعد على تكوين العظام وخلايا الدم الجديدة ومنها :		
أ-الأملاح المعدنية	ب-البروتينات	ج-الفيتامينات
٤ / مواد غذائية يؤدي الإكثار من تناولها إلى الإصابة بالسمنة .		
أ-الفيتامينات و البروتينات	ب-الدهون والكربوهيدرات	ج-الأملاح المعدنية والفيتامينات
٥-أي مما يلي لا يستخدم في تنظيف الأسنان..		
أ-الصابون	ب-المسواك	ج-الفرشاة و المعجون
٦-يُعد الحديد من المعادن الهامة التي تدخل في تركيب الدم ، وهو ينتمي إلى مجموعة.....		
أ-الفيتامينات	ب- الأملاح المعدنية	ج-الكربوهيدرات
٧-تعرض أخي أثناء لعبه بكرة القدم لكسر في قدمه ما المشروب المناسب ليمده بالكالسيوم....		
أ- القهوة	ب-المشروبات الغازية	ج-الحليب

من العادات الصحية التي تجنبنا الأمراض :




نصف المواد الغذائية التالية (الأرز- الزبدة – الزيت -البطاطس-الخبز) إلى مجموعتين :

(مجموعة الكربوهيدرات ، مجموعة الدهون)

<u>مجموعة الكربوهيدرات</u>	<u>مجموعة الدهون</u>


نجيب عن الأسئلة الآتية

أي الكلمات التالية تصف الشكل :



١- الطاقة
٣- الهرم الغذائي
٢- مثلث الطاقة
٤- الغذاء

الصورة التي تمثل الغذاء الصحي :



أ- ١
ب- ٢
ج- ٣
د- ٤

نذكر فائدة واحدة فقط للممارسة الرياضة :



...../١
.....

انتهت الأسئلة أحبتي

الإسلام دين الوسطية والاعتدال في كل شيء .. فلنحافظ على صحتنا

دمتم سالمين

أ/ عيبر الجناعي