


شكراً لتحميلك هذا الملف من موقع المناهج السعودية



## اختبار فصل القياس

[موقع المناهج](#) ← [المناهج السعودية](#) ← [الصف الرابع](#) ← [رياضيات](#) ← [الفصل الثالث](#) ← [الملف](#)

## التواصل الاجتماعي بحسب الصف الرابع



## روابط مواد الصف الرابع على تلغرام

[الرياضيات](#)

[اللغة الانجليزية](#)

[اللغة العربية](#)

[التربية الاسلامية](#)

## المزيد من الملفات بحسب الصف الرابع والمادة رياضيات في الفصل الثالث

<a href="#">تحضير دروس كامل المنهج</a>	1
<a href="#">نماذج اختبارات نهائية مع نماذج الإجابة</a>	2
<a href="#">نموذج اختبار نهائي الدور الأول</a>	3
<a href="#">أسئلة اختبار مهاراتي</a>	4
<a href="#">اختبار الفصل الثاني عشر جمع الكسور العشرية وطرحها</a>	5



اختبار فصل "القياس" الفصل الدراسي الثالث للصف الرابع الابتدائي لعام ١٤٤٤ هـ

٢٠

الاسم : .....

السؤال الأول : اختر الإجابة الصحيحة فيما يلي:

٨

١- طول القارب تقريبا:



(د) ٢ كيلومتر

(ج) ٦ ملمترات

(ب) ٢ متر

(أ) ٦ سنتمترات

٢- التقدير الأنسب لكل ساعة فيما يأتي:



دلو ماء



قارورة ماء

٣ لتر

٣ مل

٥٠٠ لتر

٥٠٠ مل

٣- التقدير المعقول لكتلة كل من الجسمين الآتيين:



لوحة



مسطرة

٥ كجم

٣ جم

٢٠ كجم

٢٠ جم



٤- التقدير المناسب لطول مدرج المطار:

(د) ٥ كيلومترات


(ج) ٥٠ سنتمترًا

(ب) ٥ أمتار

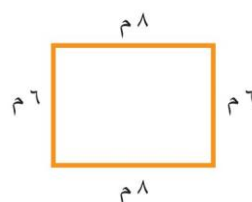
(أ) ٥ ملمترات

٢

السؤال الثاني: (أ) أوجد محيط كل شكل فيما يلي:



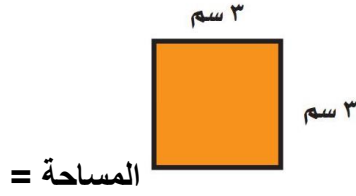
(ب) المحيط = .....  
.....




(أ) المحيط = .....  
.....

ب) أوجد مساحة كل شكل فيما يلي:

٢



= المساحة



السؤال الثالث: استعملي التبرير المنطقي لحل المسائل الآتية:

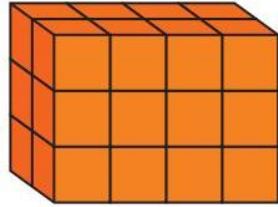
٢

فَارِسٌ وَمَاهِرٌ وَسَلْمَانٌ ثَلَاثَةٌ طُلَّابٌ، أَحَدُهُمْ فِي الصَّفِّ الرَّابِعِ، وَالثَّانِي فِي الصَّفِّ الْخَامِسِ، وَالْآخَرُ فِي الصَّفِّ السَّادِسِ. إِذَا عَلِمْتَ أَنَّ مَاهِرًا لَيْسَ فِي الصَّفِّ الرَّابِعِ، وَأَنَّ اسْمَ الَّذِي فِي الصَّفِّ الْخَامِسِ يَتَكَوَّنُ مِنْ أَكْبَرَ عَدَدٍ مِنَ الْأَحْرَفِ، فَمَا صَفٌّ كُلُّ وَاحِدٍ مِنْهُمْ؟

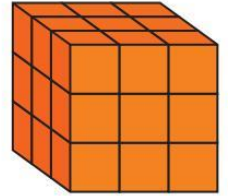
السؤال الخامس: أوجد حجم كل مجسم مما يلي:

٢

= الحجم



= الحجم



السؤال الخامس: أوجد طول الفترة الزمنية التي يستغرقها كل نشاط فيما يلي:

١



بدأ سلمان القراءة في الوقت الذي تشير إليه الساعة المجاورة واستمر حتى الساعة ١٢:٥٠؟

السؤال السادس: ضعي علامة (✓) امام العبارة الصحيحة وعلامة (X) امام العبارة الخاطئة:

٣

( )

١. إذا كان حجم مكعب ٢٧ وحدة مكعبة فإن طول حرفه ٣ وحدات

( )

٢. تقدر كتلة كتاب الرياضيات بـ ٣٠٠٠ جرام واحد تقريباً

( )

٣. عدد الجرامات في ٣ كيلوجرامات يساوي ٣٠٠٠ جرام