

## شكراً لتحميلك هذا الملف من موقع المناهج السعودية



## اختبار منتصف الفصل

[موقع المناهج](#) ⇨ [المناهج السعودية](#) ⇨ [الصف الرابع](#) ⇨ [رياضيات](#) ⇨ [الفصل الثالث](#) ⇨ [الملف](#)

تاريخ نشر الملف على موقع المناهج: 20:17:24 2023-04-22

## التواصل الاجتماعي بحسب الصف الرابع



## المزيد من الملفات بحسب الصف الرابع والمادة رياضيات في الفصل الثالث

<a href="#">تحضير دروس كامل المنهج</a>	1
<a href="#">نماذج اختبارات نهائية مع نماذج الإجابة</a>	2
<a href="#">نموذج اختبار نهائي الدور الأول</a>	3
<a href="#">أسئلة اختبار مهاراتي</a>	4
<a href="#">اختبار الفصل الثاني عشر جمع الكسور العشرية وطرحها</a>	5

اختبار الفترة الأولى للفصل الدراسي الثالث لمادة الرياضيات (الصف الرابع) عام 1444هـ


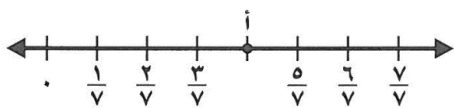
٢٠

الاسم: .....

اختر الإجابة الصحيحة فيما يلي (إجابة واحدة فقط)

1- التقدير الأنسب لقياس سعة عبوة عصير هو:							
أ	10 مللتر	ب	200 مللتر	ج	10 لتر	د	200 لتر
2- حجم الجسم في الشكل المجاور هو:							
أ	4 وحدة مكعبة	ب	8 وحدة مكعبة	ج	12 وحدة مكعبة	د	24 وحدة مكعبة
3- التقدير الأنسب لقياس كتلة جمل هو:							
أ	3 كجم	ب	300 كجم	ج	3 جم	د	300 جم
4- أفضل تقدير لقياس سمك خيط صوف هو :							
أ	2 ملم	ب	2 سم	ج	2 م	د	2 كلم
5- صبغ سعد $\frac{2}{5}$ من حائط غرفته . وصبغ والده $\frac{1}{5}$ من الحائط نفسه . الجزء المصبوغ من الحائط هو:							
أ	$\frac{1}{5}$ غ	ب	$\frac{2}{5}$ غ	ج	$\frac{3}{5}$ غ	د	$\frac{1}{5}$
6- تكون الساعة بعد 25 دقيقة:							
أ	11:00	ب	10:00	ج	9:00	د	8:00

أكمل الفراغات الآتية بما يناسبها:

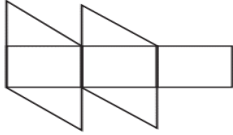
1	الكسر الذي يمثل الجزء المظلل في الشكل المجاور هو .....	
2	الكسر الذي يمثل النقطة (أ) على خط الأعداد هو .....	

3 مربع طول ضلعه 4 سم فإن محيطه = .....

4 الوحدة المناسبة لقياس المسافة من الرياض إلى مكة المكرمة هي .....

5 ..... =  $\frac{3}{\sqrt{}}$  -  $\frac{4}{\sqrt{}}$

6 العدد المناسب لوضعه في  $\frac{3}{4}$  =  $\frac{9}{\square}$  بـ الجملة  $\frac{3}{4}$  هو  $\square$  هو .....



7 تقدير مساحة الشكل المجاور = .....

● صورة مستطيلة الشكل ، طولها 11 سم وعرضها 8 سم . إذا اردنا أن نعلقها على حائط ، فما المساحة التي ستشغلها الصورة على الحائط ؟



أقارن بين الكسور مستعملاً ( = ، < ، > ) :



$\frac{1}{3}$  ●  $\frac{2}{6}$

$\frac{5}{6}$  ●  $\frac{2}{3}$

$\frac{1}{4}$  ●  $\frac{4}{8}$

كتب أحمد على البطاقات أسماء 4 حيوانات الزرافة و الأسد و الفيل و الديك ، حيث كتب على البطاقة الأخيرة اسم الحيوان الأطول ، وعلى البطاقة الثانية الحيوان المفترس ، وعلى البطاقة الأولى الحيوان الأكبر حجماً ، إذا كيف كتب الأسماء على البطاقات ؟



انتهت الأسئلة ....