

تم تحميل هذا الملف من موقع المناهج السعودية



## اختبارات ناس اختبار الدقيقة الواحدة

موقع المناهج ← المناهج السعودية ← الصف الرابع ← علوم ← الفصل الثاني ← اختبارات ← الملف

تاريخ إضافة الملف على موقع المناهج: 2024-12-12 19:24:13

ملفات اكتب للمعلم اكتب للطالب | اختبارات الكترونية | اختبارات | حلول | عروض بوربوينت | أوراق عمل  
منهج انجليزي | ملخصات وتقارير | مذكرات وبنوك | الامتحان النهائي للمدرس

المزيد من مادة  
علوم:

## التواصل الاجتماعي بحسب الصف الرابع



صفحة المناهج  
السعودية على  
فيسبوك

الرياضيات

اللغة الانجليزية

اللغة العربية

التربية الاسلامية

المواد على تلغرام

## المزيد من الملفات بحسب الصف الرابع والمادة علوم في الفصل الثاني

عرض بوربوينت لدرس المحافظة على الصحة

1

مهمة أدائية للفصل الرابع الأمراض

2

مراجعة الفصل الرابع الأمراض

3

أوراق عمل شاملة لوحدات المنهج 1446هـ


4

رابط تحميل كتاب العلوم للفصل الثاني نسخة 1446هـ

5



## إختبار الدقيقة الواحدة



الاسم	الفصل	الصف

أ ب ج د ه أ ب ج د ه

1 ○○○○○○ 11 ○○○○○○

2 ○○○○○○ 12 ○○○○○○

3 ○○○○○○ 13 ○○○○○○

4 ○○○○○○ 14 ○○○○○○

5 ○○○○○○ 15 ○○○○○○

6 ○○○○○○ 16 ○○○○○○

7 ○○○○○○ 17 ○○○○○○


8 ○○○○○○ 18 ○○○○○○

9 ○○○○○○ 19 ○○○○○○

10 ○○○○○○ 20 ○○○○○○

Form 23

## الدرجة المستحقة



الرَّشْح - الْحَصْبَة - الزُّكَّام - كُورُونَا  
المُسْتَجِدَّ امْرَاضٍ تُسَبِّهَا

أ. الفَيروسَات

ب. البَكْتِيرِيَا

ج. الفَطْرِيَّات

د. الأَجْسَامُ المُضَادَّة

الأمراض ..... تنتقل من مخلوقٍ لآخر.

أ. المَعْدِيَّة.

ج. العَقْلِيَّة.

ب. غيرِ المَعْدِيَّة.

د. النَفْسِيَّة.

أَيُّ مَمَّا يَلِي يُعَدُّ مِنَ الأمْرَاضِ غيرِ المَعْدِيَّةِ

أ. مرضُ القَلْبِ.

ج. جُدْرِي المَاءِ

ب. الزُّكَّام.

د. الأنفلونزا.

أَجْسَامٌ غيرُ حَيَّةٍ قَادِرَةٌ عَلَى إصَابَةِ المَخْلُوقَاتِ  
الحَيَّةِ بالأمْرَاضِ وَلَا تُرَى بِالعَيْنِ المُجَرَّدَةِ.

أ. البَكْتِيرِيَا.


ج. الفَطْرِيَّاتُ.

ب. الفَيروسَاتُ.

د. الحَشْرَاتُ.



إختبار الدقيقة الواحدة



الاسم	التعليل
الصف	

أ ب ج د ه أ ب ج د ه

1 ○○○○○○ 11 ○○○○○○

2 ○○○○○○ 12 ○○○○○○

3 ○○○○○○ 13 ○○○○○○

4 ○○○○○○ 14 ○○○○○○

5 ○○○○○○ 15 ○○○○○○

6 ○○○○○○ 16 ○○○○○○

7 ○○○○○○ 17 ○○○○○○


8 ○○○○○○ 18 ○○○○○○

9 ○○○○○○ 19 ○○○○○○

10 ○○○○○○ 20 ○○○○○○

Form 23

الدرجة المستحقة



حالة غير طبيعية تُؤثر على جسم المخلوق الحي، وترتبط غالبًا بأعراض وعلامات مختلفة، قد تُسببها الفيروسات والبكتيريا.

ج. الخوف.

د. الأرق.

أ. النوم.

ب. المرض.

تنتقل الملاريا من الجسم المُصاب إلى الجسم السليم بواسطة:

ج. الكلاب.

د. القطط.

أ. الذباب.

ب. البعوض.

من طرق انتقال العدوى:

ج. ارتداء القفازات.

د. الأطعمة المكشوفة.

أ. غسل اليدين.

ب. ارتداء الكمامة.

تُعَدُّ الكلابُ والفترانُ والطُيورُ والبعوضُ نواقل:

ج. صناعية.

د. طبيعية.

أ. حيوية.

ب. لا حيوية.



## إختبار الدقيقة الواحدة



الاسم		
الصف	الفصل	

أ ب ج د هـ      أ ب ج د هـ

1 ○○○○○○      11 ○○○○○○

2 ○○○○○○      12 ○○○○○○

3 ○○○○○○      13 ○○○○○○

4 ○○○○○○      14 ○○○○○○

5 ○○○○○○      15 ○○○○○○

6 ○○○○○○      16 ○○○○○○

7 ○○○○○○      17 ○○○○○○


8 ○○○○○○      18 ○○○○○○

9 ○○○○○○      19 ○○○○○○

10 ○○○○○○      20 ○○○○○○

Form 23

## الدرجة المستحقة



أي مما يلي لا يُستخدم في تنظيف الأسنان

أ. الصابون.

ب. المسواك.

ج. الفرشاة والمعجون.

د. خيط الأسنان.

أي من الطرق التالية لا تنتقل عن طريقها

مُسببات الأمراض؟

أ. تجنب استخدام أدوات الآخرين.

ب. شرب المياه الملوثة.

ج. لمس الأسطح المتسخة.

د. مخالطة أشخاص مصابين بالمرض.

أي مما يلي من فوائد شرب الماء :

أ. المحافظة على ثبات درجة حرارة

الجسم.


ب. مصدر هام للطاقة.

ج. إمداد الجسم بالدهون.

د. تخزين البروتينات.



## إختبار الدقيقة الواحدة




الاسم	الفصل	الصف

أ ب ج د ه أ ب ج د ه

- |           |           |
|-----------|-----------|
| 1 ○○○○○○  | 11 ○○○○○○ |
| 2 ○○○○○○  | 12 ○○○○○○ |
| 3 ○○○○○○  | 13 ○○○○○○ |
| 4 ○○○○○○  | 14 ○○○○○○ |
| 5 ○○○○○○  | 15 ○○○○○○ |
| 6 ○○○○○○  | 16 ○○○○○○ |
| 7 ○○○○○○  | 17 ○○○○○○ |
| 8 ○○○○○○  | 18 ○○○○○○ |
| 9 ○○○○○○  | 19 ○○○○○○ |
| 10 ○○○○○○ | 20 ○○○○○○ |

Form 23

## الدرجة المستحقة



المصدرُ الرَّئِيسُ لِلطَّاقَةِ فِي أَجْسَامِنَا:

- أ. الأملاح المعدنية. ب. الفيتامينات.  
ج. البروتينات. د. الكربوهيدرات.

عند تناول كمية متنوعة و مناسبة من الأطعمة  
يوميًا، فإنَّ الغذاء يصبح:


- أ. مُحدِّدًا.  
ب. مُتوازِنًا.  
ج. ناقصًا.  
د. مُلوَّثًا.

من المجموعات الغذائية التي تساعد على  
المحافظة على صحة الجسم والوقاية من  
الأمراض:

- أ. الأملاح المعدنية.  
ب. الكربوهيدرات.  
ج. البروتينات.  
د. الفيتامينات.



## إختبار الدقيقة الواحدة



أي الخصائص التالية تساعدنا على تعرّف المعادن؟

- أ. البريق.
- ب. الحجم والقدرة على الطفو.
- ج. الوزن والشكل.
- د. الشكل والعرض.


الاسم	الرقم	الصف

أ ب ج د ه أ ب ج د ه

- |          |          |
|----------|----------|
| 1 ○○○○○  | 11 ○○○○○ |
| 2 ○○○○○  | 12 ○○○○○ |
| 3 ○○○○○  | 13 ○○○○○ |
| 4 ○○○○○  | 14 ○○○○○ |
| 5 ○○○○○  | 15 ○○○○○ |
| 6 ○○○○○  | 16 ○○○○○ |
| 7 ○○○○○  | 17 ○○○○○ |
| 8 ○○○○○  | 18 ○○○○○ |
| 9 ○○○○○  | 19 ○○○○○ |
| 10 ○○○○○ | 20 ○○○○○ |

Form 23

## الدرجة المستحقة




معظم بقايا النباتات والحيوانات الميتة توجد في:

- أ. الصخور المتحولة.
- ب. الصخور الرسوبية.
- ج. الصخور النارية.
- د. المعادن.



إختبار الدقيقة الواحدة



أي النّشَاطَاتِ التّالِيَةِ لَهَا تَأْتِيرٌ سَلْبِيٌّ فِي البِيئَةِ؟

- أ. تسميدُ التربة.
- ب. حفظُ الموارِدِ الطّبيعيّةِ.
- ج. إعادةُ تدويرِ الورقِ.
- د. رمي النّفَايَاتِ فِي الأنّهَارِ.

الاسم		
الصف	الفصل	

أ ب ج د ه أ ب ج د ه

- 1 ○○○○○○ 11 ○○○○○○
- 2 ○○○○○○ 12 ○○○○○○
- 3 ○○○○○○ 13 ○○○○○○
- 4 ○○○○○○ 14 ○○○○○○
- 5 ○○○○○○ 15 ○○○○○○
- 6 ○○○○○○ 16 ○○○○○○
- 7 ○○○○○○ 17 ○○○○○○
- 8 ○○○○○○ 18 ○○○○○○
- 9 ○○○○○○ 19 ○○○○○○
- 10 ○○○○○○ 20 ○○○○○○



ما الَّذِي يُعْطِي  
مُعْظَمَ سَطْحِ  
الأَرْضِ؟


- أ. الرَّمْل.
- ب. الأشجار.
- ج. المَاء.
- د. الجِبَال.

ما الرَّسْمُ الدَّائِرِيُّ الَّذِي يُشِيرُ إِلَى نِسْبَةِ تَوَزِيعِ

الْيَابِسَةِ وَالْمَاءِ عَلَى الأَرْضِ؟




الدرجة المستحقة



Form 23



إختبار الدقيقة الواحدة



أختارُ الإجابة الصحيحة : ما العملية التي

يوضِّحها الشكلُ؟

- أ. تعاقبُ الليل والنهارِ .  
ب. دورانُ الأرضِ  
حولَ الشَّمسِ .  
ج. كسوفُ الشَّمسِ .  
د. خسوفُ القمرِ .



الاسم		
الصف	الفصل	

أ ب ج د ه أ ب ج د ه

- 1 ○○○○○○ 11 ○○○○○○  
2 ○○○○○○ 12 ○○○○○○  
3 ○○○○○○ 13 ○○○○○○  
4 ○○○○○○ 14 ○○○○○○  
5 ○○○○○○ 15 ○○○○○○  
6 ○○○○○○ 16 ○○○○○○  
7 ○○○○○○ 17 ○○○○○○  
8 ○○○○○○ 18 ○○○○○○  
9 ○○○○○○ 19 ○○○○○○  
10 ○○○○○○ 20 ○○○○○○


ما الذي يسببُ تغيُّرَ الفصولِ الأربعة على سطحِ

الأرضِ؟

- أ. دورانُ الأرضِ حولَ محورِها .  
ب. دورانُ الأرضِ حولَ الشَّمسِ .  
ج. دورانُ القمرِ حولَ الشَّمسِ .  
د. دورانُ القمرِ حولَ الأرضِ .

Form 23

الدرجة المستحقة




فيَم تختلفُ الشَّمسُ عن باقي النجوم؟

- أ. الشَّمسُ أسخنُ من باقي النجوم .  
ب. الشَّمسُ أقربُ النجومِ إلى الأرضِ .  
ج. الشَّمسُ أبعدُ النجومِ عن الأرضِ .  
د. الشَّمسُ النجمُ الوحيدُ الذي يتكوَّنُ من غازاتٍ .





## إختبار الدقيقة الواحدة




الاسم		
الصف	الفصل	

أ ب ج د ه أ ب ج د ه

- |           |           |
|-----------|-----------|
| 1 ○○○○○○  | 11 ○○○○○○ |
| 2 ○○○○○○  | 12 ○○○○○○ |
| 3 ○○○○○○  | 13 ○○○○○○ |
| 4 ○○○○○○  | 14 ○○○○○○ |
| 5 ○○○○○○  | 15 ○○○○○○ |
| 6 ○○○○○○  | 16 ○○○○○○ |
| 7 ○○○○○○  | 17 ○○○○○○ |
| 8 ○○○○○○  | 18 ○○○○○○ |
| 9 ○○○○○○  | 19 ○○○○○○ |
| 10 ○○○○○○ | 20 ○○○○○○ |

Form 23

## الدرجة المستحقة



إذا كانَ طوْلُ ظِلِّكَ أَقْلَ مِنْ طوْلِكَ الحَقِيقِي، وَذَلِكَ فِي أَثْنَاءِ سَيْرِكَ فِي الحَدِيقَةِ نَهَارًا فَإِنَّ الوَقْتَ تَقْرِيبًا:

أ. الصبَاحُ البَاكِرُ

ب. بَعْدَ العَصْرِ

ج. الظَهْرُ

د. بَعْدَ شُرُوقِ الشَّمْسِ قَلِيلًا

بِسْمِ اللَّهِ أَنْتَ تَعِيشُ فِي السُّعُودِيَّةِ كَمَا هُوَ مُوَضَّحٌ فِي الصُّورَةِ، تُشِيرُ الصُّورَةُ إِلَى:

أ. الوَقْتُ لَيْلًا وَالفُضْلُ شِتَاءً.

ب. الوَقْتُ نَهَارًا وَالفُضْلُ شِتَاءً.

ج. الوَقْتُ نَهَارًا وَالفُضْلُ صَيْفًا.

د. الوَقْتُ لَيْلًا وَالفُضْلُ صَيْفًا.

يَبْلُغُ قُطْرُ أَوْرَانُسَ ١٦ ضِعْفَ قُطْرِ القَمَرِ، وَيَبْلُغُ قُطْرُ القَمَرِ  $\frac{1}{4}$  قُطْرِ الأَرْضِ، فَكَمْ يَبْلُغُ قُطْرُ أَوْرَانُسَ مِقَارَنَةً بِقُطْرِ الأَرْضِ؟

أ. ضِعْفَيْنِ


ب. ثَلَاثَةَ أَضْعَافٍ

ج. أَرْبَعَةَ أَضْعَافٍ

د. سِتَّةَ أَضْعَافٍ



إختبار الدقيقة الواحدة



الاسم	الفصل	الصف

أ ب ج د ه أ ب ج د ه

1 ○○○○○○ 11 ○○○○○○

2 ○○○○○○ 12 ○○○○○○

3 ○○○○○○ 13 ○○○○○○

4 ○○○○○○ 14 ○○○○○○

5 ○○○○○○ 15 ○○○○○○

6 ○○○○○○ 16 ○○○○○○

7 ○○○○○○ 17 ○○○○○○


8 ○○○○○○ 18 ○○○○○○

9 ○○○○○○ 19 ○○○○○○

10 ○○○○○○ 20 ○○○○○○

Form 23

الدرجة المستحقة



أي الأجرام السماوية التالية يصنّف على أنه كوكب قزم؟

- أ. زحل.
- ب. نبتون.
- ج. بلوتو.
- د. الأرض.

أي الأجزاء التالية يوضح الموقع الصحيح للقمر عند كسوف الشمس؟

- A . ١
- B . ٢
- C . ٣
- D . ٤



تصفّ العبارات التالية أجرام سماوية:

كُتَل كبيرة من الصُّخور والجليدِ والغبار /  
كرة من الغازات الساخنة ينبعث منها الضوء  
والحرارة / جسمٌ كرويٌّ تابعٌ للشمس.  
ما الترتيبُ الصحيحُ للمصطلحات التي تُعبّر عن  
الجُمَلِ السابقة؟

- أ. المُدَنَّبُ / النَّجْمُ / الكَوَكَبُ
- ب. النَّجْمُ / الكَوَكَبُ / المُدَنَّبُ
- ج. الكَوَكَبُ / النَّجْمُ / المُدَنَّبُ
- د. المُدَنَّبُ / الكَوَكَبُ / النَّجْمُ