

شكراً لتحميلك هذا الملف من موقع المناهج السعودية



تمارين الفصل الثالث تنظيم البيانات وعرضها وتفسيرها

[موقع المناهج](#) ← [المناهج السعودية](#) ← [الصف الرابع](#) ← [رياضيات](#) ← [الفصل الثالث](#) ← [الملف](#)

تاريخ نشر الملف على موقع المناهج: 17:13:53 2023-10-16

التواصل الاجتماعي بحسب الصف الرابع



المزيد من الملفات بحسب الصف الرابع والمادة رياضيات في الفصل الثالث

تحضير دروس كامل المنهج	1
نماذج اختبارات نهائية مع نماذج الإجابة	2
نموذج اختبار نهائي الدور الأول	3
أسئلة اختبار مهاراتي	4
اختبار الفصل الثاني عشر جمع الكسور العشرية وطرحها	5



التهينة
اضغط

تمارين الفصل ٣ _ رابع ابتدائي _ تنظيم البيانات وعرضها وتفسيرها



(٣ _ ١) جمع البيانات وتنظيمها

الجدول يوضح ألوان السيارات الموجودة في مواقف سيارات المعلمات (قم بتنظيم هذه البيانات في جدول التكرار والاشارات)

ألوان السيارات	
التكرار	اللون
	ابيض
	اسود
	احمر

ألوان السيارات	
الإشارة	اللون
	ابيض
	اسود
	احمر

ألوان السيارات			
بيضاء	بيضاء	بيضاء	سوداء
بيضاء	بيضاء	بيضاء	حمراء
بيضاء	بيضاء	بيضاء	حمراء
بيضاء	بيضاء	بيضاء	حمراء

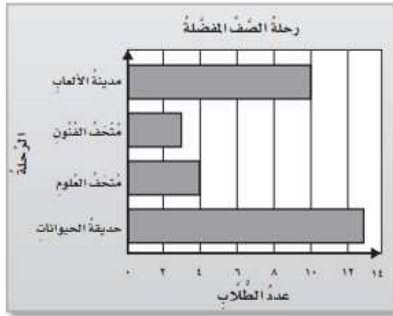


(٣ _ ٢) خطة حل المسألة

يجمع وليد كل أسبوع ١٥ ريالاً لشراء ساعة قيمتها ١٠٢ ريال ، بعد كم أسبوع يستطيع شراؤها ؟



(٣ _ ٣) التمثيل بالأعمدة



تم سؤال طلاب احد الصفوف عن الرحلة المفضلة (انظر للتمثيل واجب عن التالي)

الرحلة الأقل تفضيلاً وعدد طلابها

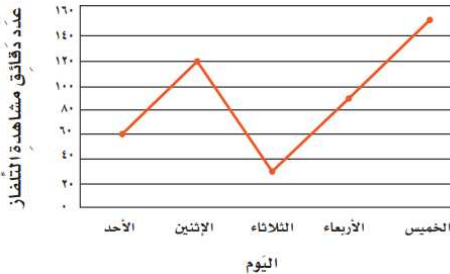
مجموع عدد الطلاب في التمثيل

كم يزيد عدد اللذين يفضلون مدينة الألعاب على متحف العلوم

الرحلة التي يفضلها ١٣ من الطلاب



(٣ _ ٤) التمثيل بالخطوط



الدقائق التي يشاهد فيها عمر التلفاز خلال الأسبوع (انظر للتمثيل واجب عن التالي)

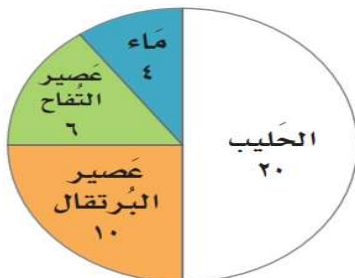
كم الفرق بين الوقت يومي الخميس والاثنين

اليوم الذي شاهد فيه التلفاز لمدة ٩٠ دقيقة هو

مجموع دقائق أقل يوم واعلى يوم مشاهدة للتلفاز



(٣ _ ٥) التمثيل بالقطاعات الدائرية



استعمل التمثيل وجبة الإفطار للإجابة عن التالي

يتناول اكثر الطلاب ويتناول أقل عدد من الطلاب

نصف $\frac{1}{2}$ الطلاب يفطر ربع $\frac{1}{4}$ الطلاب يفطر

الوجبة التي يتناولها ٦ من الطلاب



(٣ _ ٦) الاحتمال

وضعت احرف كلمة زمزم على بطاقات ، صف بالأعداد
احتمال سحب حرف ز دون النظر :

بالأعداد ما احتمال سحب حرف ب من كلمة باب

ع

أ

أ أو ث

ف أو ث

ف أو أ أو د أو ث

كتبت احرف على بطاقات

(صف احتمال السحب منها دون النظر)

ف	ف	ف	د
أ	أ	ث	ث