

تم تحميل هذا الملف من موقع المناهج السعودية



الملف أوراق عمل فصل القياس

[موقع المناهج](#) ⇨ [المناهج السعودية](#) ⇨ [الصف الرابع](#) ⇨ [رياضيات](#) ⇨ [الفصل الثالث](#)

الملف أوراق عمل فصل القياس

[موقع المناهج](#) ⇨ [المناهج السعودية](#) ⇨ [الصف الرابع](#) ⇨ [رياضيات](#) ⇨ [الفصل الثالث](#)

المزيد من الملفات بحسب الصف الرابع والمادة رياضيات في الفصل الثالث

ورقة عمل وحدات الكتلة في النظام المتري	1
واجب وحدات السعة والكتلة	2
دفتر الرياضيات للفصل الثالث	3
اختبار الفصل التاسع القياس	4

فصل القياس



وحدات الطول المترية

الاسم :



اختر أفضل تقدير لطول كل مما يلي:

١ طول الباب:

(أ) ٢ كيلومتر

(ب) ٢ ملمتر

(ج) ٢ سنتيمتر

(د) ٢ متر



almanahj.com/sa

٢ طول الحذاء:

(أ) ٣٠ مترًا

(ب) ٣٠ سنتيمترًا

(ج) ٣٠ كيلومترًا

(د) ٣٠ ملمترًا

المنهج السعودية



٣ سُمْكِ ٢٠ ورقة:

(أ) ٢ سنتيمتر

(ب) ١٢ ملمترًا

(ج) ٢ ملمتر

(د) ١٢ سنتيمترًا



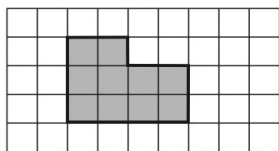
فصل القياس



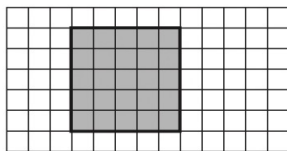
قياس المحيط

الاسم :

قَدِّرْ مُحِيطَ كُلِّ مِمَّا يَأْتِي، ثُمَّ أَوْجِدْهُ بِالضَّبْطِ:



٢

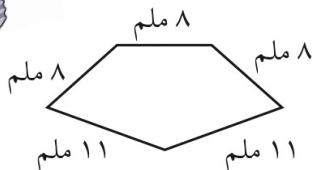


١

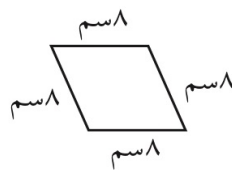


.....
almaharj.com/sa

أَوْجِدْ مُحِيطَ كُلِّ شَكْلِ مِمَّا يَلِي: المَنَابِجُ السَّمَوِيَّةُ



٤



٣



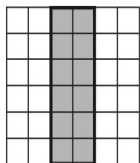

فصل القياس



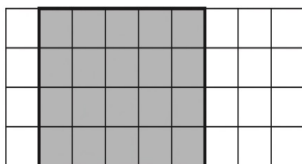
قياس المساحة

الاسم :

قَدِّرْ مِسَاحَةَ كُلِّ مُرَبَّعٍ أَوْ مُسْتَطِيلٍ، ثُمَّ أوجدْهَا بِالضَّبْطِ.



٢



١

almanahj.com/sa

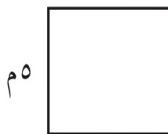
أوجد مساحة كل شكل مما يلي: المنهج السعودي



٦ ملم

٢٥ ملم

٤



٥ م

٥ م

٣



فصل القياس



وحدات السعة في النظام المتري

الاسم :

اختر التقدير الأنسب لكل سعة فيما يأتي:



٢

.....

١ مل أم ١ ل



١

.....

٢٠٠ مل أم ٢٠٠ ل

almanhaj.com/sa

المملكة العربية السعودية



٤

.....

٢٠٠ مل أم ٢٠٠ ل



٣

.....

٥ مل أم ٥ ل



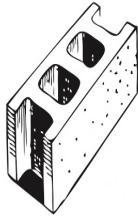
فصل القياس



وحدات الكتلة في النظام المتري

الاسم :

اختر التقدير الأنسب لكتلة كل مما يأتي:



٣ جم أم ٣ كجم

٢



٢٥٠ جم أم ٢٥٠ كجم

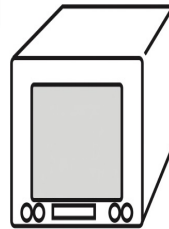
١

المناهج.com/sa
المناهج السعودية



٤٥ جم أم ٤٥ كجم

٤



٢٠ جم أم ٢٠ كجم

٣



فصل القياس



خطة حل المسألة : التبرير المنطقي

الاسم :

استعملِ التَّبْرِيرَ الْمُنْطَقِيَّ لِحَلِّ الْمَسَائِلِ الْآتِيَةِ:

١ لَدَى كُلِّ مِنْ هِنْدٍ وَصَفَاءَ وَخَدِيجَةَ حَقَائِبُ الْوَأْنَهَا: خِضْرَاءُ، وَبِيضَاءُ، وَزَرْقَاءُ. إِذَا كَانَتْ حَقِيبَةُ هِنْدٍ بِيضَاءً وَحَقِيبَةُ صَفَاءَ لَيْسَتْ خِضْرَاءَ، فَمَا لَوْنُ حَقِيبَةِ كُلِّ مِنْهُنَّ؟

٢ يَلْعَبُ كُلُّ مِنْ أَحْمَدَ وَفَارِسٍ وَيُوسُفَ وَنَاصِرٍ فِي فَرِيقِ الْمَدْرَسَةِ لِكُرَّةِ السَّلَّةِ، وَأَرْقَائِهِمْ ٤، ٥، ٨، ١١، فَإِذَا كَانَ رَقْمُ نَاصِرٍ هُوَ نَفْسَ عَدَدِ أَحْرَفِ اسْمِهِ، وَرَقْمُ أَحْمَدَ يَتَكَوَّنُ مِنْ مَنزَلَتَيْنِ، وَرَقْمُ فَارِسٍ لَيْسَ عَدَدًا أَوْلِيًّا، فَمَا رَقْمُ يُوْسُفَ؟

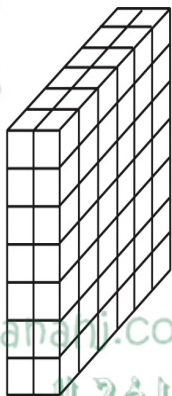


فصل القياس



تقدير الحجم وقياسه

الاسم : _____



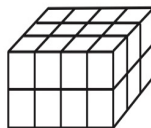
٢

أوجد حجم كل مجسم مما يأتي:



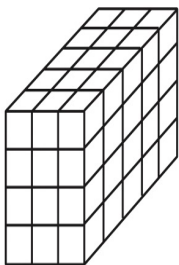
١

.....



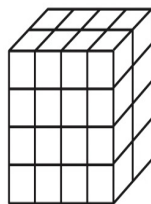
٣

.....



٥

.....



٤

.....



فصل القياس




الزمن المنقضي

الاسم :

فيما يلي أوقاتُ بدءٍ وانتهاءِ بعضِ الأنشطةِ، ما الزمنُ الَّذِي استغرَقَهُ كُلُّ نشاطٍ؟

١ يبدأ ٦:١٥، وينتهي ٧:٥٠ ٢ يبدأ ٤:٤٥، وينتهي ٨:٠٠

٣ ما الوقتُ بعدَ مُرورِ ٤ ساعاتٍ و ٤٥ دقيقةً؟



٤ ما الوقتُ بعدَ مُرورِ ٩ ساعاتٍ و ١٠ دقائق؟

