

تم تحميل هذا الملف من موقع المناهج السعودية



أوراق عمل التربية الفنية 1446هـ

موقع المناهج ← المناهج السعودية ← الصف الرابع ← التربية الفنية ← الفصل الثاني ← أوراق عمل ← الملف

تاريخ إضافة الملف على موقع المناهج: 07:19:44 2025-01-19

ملفات اكتب للمعلم اكتب للطالب | اختبارات الكترونية | اختبارات | حلول | عروض بوربوينت | أوراق عمل
منهج انجليزي | ملخصات وتقارير | مذكرات وبنوك | الامتحان النهائي للمدرس

المزيد من مادة
التربية الفنية:

التواصل الاجتماعي بحسب الصف الرابع

صفحة المناهج
السعودية على
فيسبوك

الرياضيات

اللغة الانجليزية

اللغة العربية

التربية الاسلامية

المواد على تلغرام

المزيد من الملفات بحسب الصف الرابع والمادة التربية الفنية في الفصل الثاني

أسئلة مراجعة عامة ومحلولة

1

رابط تحميل كتاب التربية الفنية للفصل الثاني نسخة 1446هـ

2

خطة توزيع منهج التربية الفنية للفصل الثاني

3

اختبار نهائي مع نموذج الإجابة انتساب

4

اختبار منتصف الفصل مجال الخزف مع نموذج الإجابة

5

ورقة عمل

اسم الطالبة



الصف : الرابع ابتدائي
المادة : تربية فنية



عمل



التاريخ :
رقم النشاط :

الموضوع : الطبيعة الصامتة

مل الإجابة الصحيحة

من مميزات الطبيعة الصامتة.

تساعد على
اختيار الشكل
الصحيح

تساعد على
اختيار موضوع
معين

ليس لها فائدة

ضع كل كلمة من الكلمات التالية في الفراغ المناسب:

التشير

أدوات الرسم
الجافة

الطبيعة
الصامتة

من أدوات الرسم شائعة الاستعمال

..... هو ذلم الأثر الذي يتركه القلم.

..... هي نوع من أنواع الرسم الثابتة التي لا تتحرك.

اسم الطالبة



ورقة عمل



الصف : الرابع ابتدائي
المادة : تربية فنية



التاريخ :
رقم النشاط :

الموضوع : تصميم الجرافيك


اختر الكلمة المناسبة وضعها في الفراغ المناسب:

التصميمي


بطاقات المعيدة

الجرافيك

- فرع من فروع التصميم الذي يستخدم فيه المصمم الحروف والأرقام هو
- من أمثله التصميم الجرافيكى



صل من العمود الأول بما يناسبه من العمود الثاني:



شكل له وظيفة تنسيقي

شكل له وظيفة إعلانية



شكل له وظيفة جمالية

اسم الطالبة



ورقة عمل



الصف : الرابع ابتدائي
المادة : تربية فنية




عمل



التاريخ :
رقم النشاط :

الموضوع : التماثل الكلي في زخارفنا الاسلامية



تعتمد هذه الصورة

على عناصر زخرفية

منها

2024



ضع علامة (✓) أمام النوع التماثل الذي استخدمته في تصميم الوحدة الزخرفية:



نصفي



نباتي



كلي



تكرار

اسم الطالبة



ورقة عمل



الصف : الرابع ابتدائي
المادة : تربية فنية



عمل



التاريخ :
رقم النشاط :

الموضوع : التماثل الكلي المتعاكس في
زخارفنا

صل من العمود الأول بما يناسبه من العمود الثاني:

التدايط

من قواعد الزخرفة

التماثل

جماليات التماثل الكلي

تنوع تنظيم وتوزيع
الوحدات الزخرفية

ضع علامة (✓) أسفل الإجابة الصحيحة:

تكرار الوحدة الزخرفية في أوضاع مختلفة و عكس
وضعها أو اتجاهها الأصلي

التماثل الجزئي

التماثل الكلي

التماثل المتعاكس



اسم الطالبة



ورقة عمل



الصف : الرابع ابتدائي
المادة : تربية فنية



التاريخ :
رقم النشاط :

الموضوع : لوحة فنية بالضغط علي النحاس

اختار الإجابة الصحيحة مما يلي:

- من أهم أنواع المعادن

(الذهب - الورق - الفضة - الزجاج - الخشب
- الطين - حديد - رصاص)



ضع علامة (✓) أمام العبارة الصحيحة وعلامة (×) أمام العبارة الخاطئة:

تستخدم المعادن في الزينة

من أبرز الإبداعات التي استخدم فيها الذهب باب الكعبة المشرفة.

إعطاء بعض المساحات ملامس مختلفة من الخطوط والأشكال بالتنقيط أو التخديش يسمى الخدش.

ورقة عمل

اسم الطالبة



الصف : الرابع ابتدائي
المادة : تربية فنية



التاريخ :
رقم النشاط :

الموضوع : لوحة فنية باستخدام المياه الباردة
على النحاس

هل هذا الشكل يعتبر نوح
من أنواع المينا الباردة ؟

(نعم ، لا)



ضع كل كلمة من الكلمات التالية في الفراغ المناسب:

على
الساخن

على البارد

المينا

• إحدى الخامات اللونية التي يمكن استخدامها في تلوين الأسطح المعدنية

• من طرق تلوين المينا ،

ورقة عمل

اسم الطالبة



الصف : الرابع ابتدائي
المادة : تربية فنية



عمل



التاريخ :
رقم النشاط :

الموضوع : تكوين جمالي مسطح بخامة
الخشيب

صل من العمود الأول بما يناسبه من العمود الثاني مما يأتي:

اللين

نقل جذوع الأشجار
بناقلات كبيرة

قطع جذور الأشجار

المراحل الأساسية
لتجهيز الأخشاب

من أنواع الخشب

صل بالإجابة الصحيحة:

الحديد

المعادن

الخشيب

يعرف بأنه خامة جامدة صلبة توجد
تحت لحاء جذوع الشجر

اسم الطالبة



ورقة عمل



الصف : الرابع ابتدائي
المادة : تربية فنية



التاريخ :
رقم النشاط :

الموضوع : تكوين جمالي مجسم بالخشب

✓ صل الأسم بالصورة المناسبة:

التكوين الجمالي

هو التكوين الجمالي المجسم
الذي له ثلاث أبعاد.

التكوين
المجسم

التكوين الجمالي
المجسم

أكمل الجمل الآتية بما يناسبها :

- التراكيب الخشبية هي
- تتحقق التراكيب الفنية الخشبية ب

.....

ورقة عمل

اسم الطالبة



عمل

الصف : الرابع ابتدائي
المادة : تربية فنية



التاريخ :
رقم النشاط :

الموضوع النسيج البسيط

ما المقصود بالتعريفات الآتية؟


تحويل كتل الصوف أو الكتان أو القطن حيث يتم ربط أطراف الخيوط من الكتل في مكبات، ثم تدار العجلة باليد لتلف الخيوط على الكرات.

توظيف ونسج تلك الخيوط المنتجة في صنع الأقمشة المختلفة والمتعددة.



2025

2024



ضع علامة (صح) أمام العبارة الصحيحة وعلامة (خطأ) أمام العبارة الخاطئة:

من أعظم وأشرف الصناعات النسيجية في المملكة صناعة كسوة الكعبة المشرفة. (00)

لا تُعتبر النباتات المصدر الرئيسي لمعظم الألياف النسيجية. (000)



اسم الطالبة



ورقة عمل



الصف : الرابع ابتدائي
المادة : تربية فنية



التاريخ :
رقم النشاط :

الموضوع : تشكيلات متنوعة بالنسيج

ضع كل كلمة من الكلمات التالية في الفراغ المناسب:

الحصير

الحبال

السعف



• كانت المنتجات الشعبية القديمة مصنوعة من خامات بيئية محلية ك...

• تعتمد الصناعات النسيجية على الخامات البيئية ك... و...



أجيب بـ (نعم) أو (لا):



لم تكن الأشكال الزخرفية مقتصرة على النسيج فقط.



لم يلجأ الحرفيون إلى استخدام نباتات عشبية.